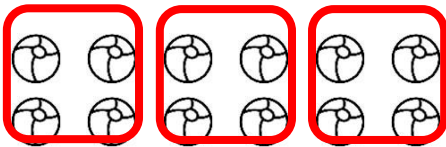


溫故知新 (p.115)

一、乘法算式填填看

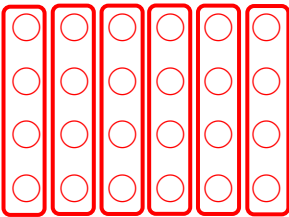
- 1. 10 2. 48
- 3. 21 4. 5
- 5. 36 6. 42

二、分分看，圈圈看，數一數圈幾個，並將答案寫出來



答：3

三、用○畫畫看，並分一分，將答案寫出來



答：4 顆

3-4-1 二位數除以一一位數 (p.116)

☞ 教學活動 1：計算題

答：1. 12, 3 2. 20, 4

☞ 教學活動 1：重新布題

24, 6, 4

☞ 教學活動 2：計算題

答：(1)30, 5 (2)28, 7

☞ 教學活動 2：重新布題

35, 7, 5

☞ 教學活動 3：計算題

答：(1)4...3 (2)5...1 (3)4...1 (4)3...3

☞ 教學活動 3：重新布題

$17 \div 3 = (5 \dots 2)$

答：5 組，剩 2 人

☞ 教學活動 4：計算題 (請自行列出直式)

答：(1)3 (2)2 (3)3 (4)2

☞ 教學活動 4：重新布題

$9 \div 3 = (3)$

答：3 朵

☞ 教學活動 5：計算題 (請自行列出直式)

答：(1)8 (2)4 (3)5 (4)9

☞ 教學活動 5：重新布題

$36 \div 4 = (9)$

答：9 朵

☞ 教學活動 6：計算題 (請自行列出直式)

答：(1)11...2 (2)12...1 (3)13...1 (4)12

☞ 教學活動 6：重新布題

$54 \div 3 = (18)$

答：18 束。

☞ 教學活動 7：重新布題

偶數：18、80、64、184

奇數：27、35、69、91、121

➤ 例題講解 1：換你試試看

$37 \div 8 = (4 \dots 5)$

答：4 盒，剩 5 枝

➤ 例題講解 2：換你試試看

$52 \div 4 = (13)$

答：13 枝

3-4-1 練習回 (p.126)

一、是非題

1. ○

2. X

二、連連看

1. $24 \div 8$ ㄅ. $28 \div 7$
2. $30 \div 6$ ㄆ. $36 \div 6$
3. $16 \div 4$ ㄇ. $12 \div 4$
4. $54 \div 9$ ㄊ. $25 \div 5$
-

三、填填看

1. 6, 4
2. 8, 56, 7

四、算一算，填一填

1. (1) 8, 0
(2) 7, 0
(3) 6, 2
2. 3, 4, 8, 6
3. 25, 49, 65, 81

五、配合題

1. (1) ㄇ
(2) ㄆ
(3) ㄅ
(4) ㄊ

六、寫出直式算算看 (請自行列出直式)

1. $40 \div 8 = (5)$
答：5 個
2. $36 \div 4 = (9)$
答：9 段
3. $20 \times 2 = (10)$
答：10 人
4. $36 \div 3 = (12)$
答：12 段
5. $85 \div 5 = (17)$
答：17 盒

3-4-2 三位數除以一一位數 (p.130)

- ☉ 教學活動 1：計算題 (請自行列出直式)
答：(1)132 (2)153 (3)131 (4)115
- ☉ 教學活動 1：重新布題
 $477 \div 3 = (159)$
答：159 元
- ☉ 教學活動 2：計算題 (請自行列出直式)
答：(1)102 (2)206 (3)208 (4)309
- ☉ 教學活動 2：重新布題
 $416 \div 4 = (104)$
答：104 元
- ☉ 教學活動 3：計算題 (請自行列出直式)
答：(1) $61 \cdots 1$ (2) $82 \cdots 1$
(3) $46 \cdots 2$ (4) $57 \cdots 1$
- ☉ 教學活動 3：重新布題
 $136 \div 5 = (27 \cdots 1)$
答：27 個，剩 1 個
- ☉ 教學活動 4：重新布題
 $4 + 5 = 9$
 $450 \div 9 = (50)$
答：50 條
- ☉ 教學活動 5：重新布題
 $309 - 165 = 144$
 $144 \div 6 = (24)$
答：24 元
- 例題講解 1：換你試試看
 $257 \div 6 = (42 \cdots 5)$
答：42 個人，剩 5 枝
- 例題講解 2：換你試試看
 $216 \div 2 = (108)$
答：108 袋
- 例題講解 3：換你試試看
 $216 \div 5 = (43 \cdots 1)$
答：43 袋，剩 1 枝

► 例題講解 4：換你試試看

$$651 \div 3 = 217$$

$$217 + 125 = (342)$$

答：342 元

3-4-2 練習回 (p.143)

一、用直式算算看 (請自行列出直式)

1. 74

2. 68

3. $96 \cdots 1$

4. $181 \cdots 1$

5. 166

6. $193 \cdots 1$

7. $102 \cdots 2$

8. 108

9. 103

10. 321

二、填充題

1. 50

2. (1)104

(2)416

3. 312

三、應用題

1. $246 \div 6 = (41)$

答：41 本

2. $637 \div 7 = (91)$

答：91 元

3. $452 \div 3 = (150 \cdots 2)$

答：150 顆

4. $153 \div 2 = (76 \cdots 1)$

答：76 根，剩 1 元

5. $920 \div 9 = (102 \cdots 2)$

答：102 袋，剩 2 個

3-4 綜合回 第一回 (p.146)

一、選擇題

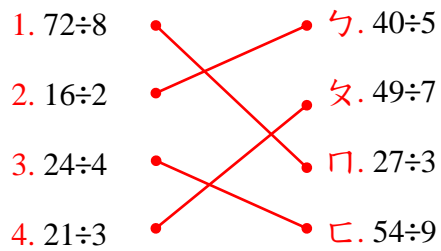
1. ③

2. ③

3. ③

4. ②

二、把答案一樣的連在一起



三、算一算，填一填

1. $7 \div 0$

2. $7 \div 1$

3. $7 \div 2$

4. 23

四、應用題

1. $640 \div 4 = (160)$

答：160 塊

2. $430 \div 8 = (53 \cdots 6)$

答：53 箱，剩 6 顆

3. $368 \div 8 = (46)$

答：46 個

4. $638 \div 2 = (319)$

答：319 元

5. $776 \div 4 = (194)$

答：194 個

3-4 綜合回 第二回 (p.149)

一、選擇題

1. ②

2. ①

3. ②

4. ③

二、是奇數在()裡的畫○，是偶數的畫△

1. △

2. ○

3. ○

4. △





5. ○

6. △

三、寫出直式算算看，並驗算(請自行列出直式)

1. 16, 驗算 $16 \times 3 = (48)$
2. $10 \cdots 4$, 驗算 $10 \times 6 = 60$, $60 + 4 = (64)$
3. $101 \cdots 2$, 驗算 $101 \times 6 = 606$, $606 + 2 = (608)$
4. $132 \cdots 4$, 驗算 $132 \times 7 = 924$, $924 + 4 = (928)$
5. $33 \cdots 7$, 驗算 $33 \times 9 = 297$, $297 + 7 = (304)$
6. 204, 驗算 $204 \times 4 = (816)$

四、想一想，連連看

- (1) 4 表示  ㄅ. 4 張桌子
- (2) 9 表示  ㄨ. 9 張桌子
- (3) 12 表示  ㄇ. 4 張椅子
-  ㄘ. 總共有 12 張椅子

五、應用題

1. $672 \div 6 = (112)$
答：112 個
2. $378 \div 9 = (42 \cdots 0)$
答：42 束，剩 0 顆
3. $645 \div 3 = (215)$
答：215 個人
4. $56 \div 7 = (8)$
答：8 排
5. $168 \div 8 = (21)$
答：21 根

3-4 進階挑戰區 (p.153)

一、選擇題

1. ②
2. ①
3. ③
4. ③

二、填充題

1. 90
2. $69, 2$

三、可以剛好「平分」完的畫○，不能的打×

1. ○
2. ×
3. ○
4. ○

四、用直式算算看，並驗算(請自行列出直式)

1. 75, 驗算 $75 \times 5 = (375)$
2. 182, 驗算 $182 \times 3 = (546)$
3. 56, 驗算 $56 \times 2 = (112)$
4. 120, 驗算 $120 \times 5 = (600)$
5. $302 \cdots 2$, 驗算 $302 \times 3 = 906$, $906 + 2 = (908)$
6. $16 \cdots 1$, 驗算 $16 \times 6 = 96$, $96 + 1 = (97)$
7. 29, 驗算 $29 \times 3 = (87)$

五、應用題

1. $715 \div 5 = (143)$
答：143 公分
2. (1) $336 \div 6 = (56)$
(2) $336 \div 8 = (42)$
答：(1)56 顆，(2)42 顆
3. $125 - 38 = 87$
 $87 \div 3 = (29)$
答：29 顆
4. $895 - 23 = 872$
 $872 \div 8 = (109)$
答：109 盒
5. $229 - 4 = 225$
 $225 \div 9 = (25)$
答：25 張