

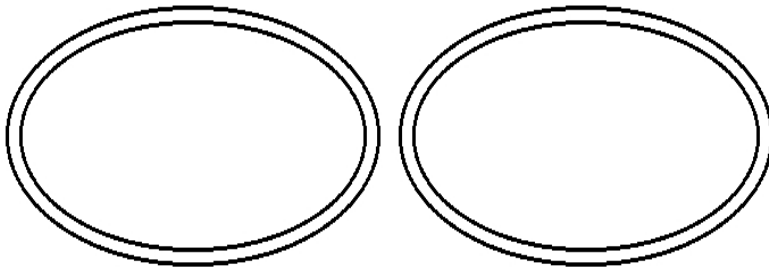
2-6-1
練習回

一、選擇題：(每題 5 分，共 15 分)

- () 1. 李老師有 35 枝鉛筆，她想送給小朋友每人 5 枝，可以送給幾個小朋友？
(① 9 ② 8 ③ 7) 個。
- () 2. 24 瓶牛奶每人 4 瓶，可以分給幾人？(① 4 ② 5 ③ 6) 人。
- () 3. 1 塊橡皮擦 8 元，32 元可以買幾塊橡皮擦？選出正確的算式。
(① 32×8 ② $32 - 8$
③ $8 \times \square = 32$)

二、畫畫看看：(畫圈 5 分，填空 5 分，共 10 分)


1. 10 個水餃平分成 2 盤，1 盤有幾個水餃？在盤子裡畫○分分看看：




1 盤有 () 個水餃

三、圈圖看再填入答案：(圈圖看 5 分、填空 5 分，共 20 分)

1. 每間車庫可以停 3 輛車，18 輛車共需要()間車庫來停放。



2. 32 串葡萄，每盒裝 4 串，共可以裝成()盒。



四、連連看：(每線 5 分，共 15 分)

現在有 20 顆湯圓，在每個碗裡放 5 顆湯圓，共有幾碗湯圓？

千千用乘法算式記成： $5 \times (4) = 20$

算式中各數字各表示什麼意思？

- | | | |
|-----------|---|----------------|
| (1) 4 表示 | ● | A. 每個碗放了 4 顆湯圓 |
| (2) 5 表示 | ● | B. 每個碗放了 5 顆湯圓 |
| (3) 20 表示 | ● | C. 全部有 20 顆湯圓 |
| | ● | D. 有 4 碗 |

五、應用題：(每題 8 分，共 40 分)

1. 1 枝鉛筆賣 10 元，小華有 60 元，他可以買幾枝鉛筆？把做法用減法算式記下來。

2. 有 32 個蘋果，每 4 個裝 1 盒，可以裝成幾盒？把做法用減法算式記下來。

3. 媽媽烤了 45 片餅乾，每 5 片裝成 1 盤，共可裝幾盤？把做法用乘法算式記下來。

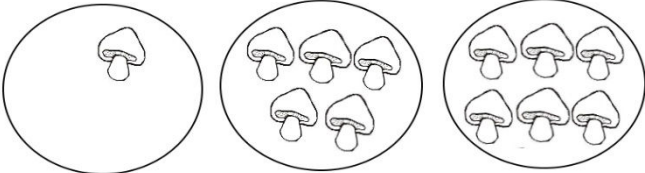
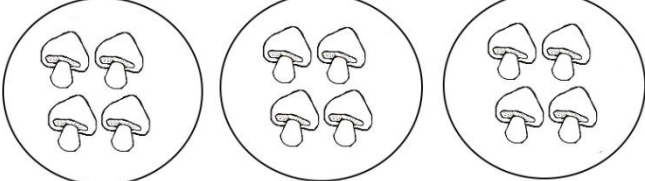
4. 一盒柳丁有 6 顆，18 個柳丁可以裝成幾盒？把做法用乘法算式記下來。

5. 把 48 元平均存進 8 個撲滿裡，每個撲滿裡有幾元？把做法用乘法算式記下來。

2-6-2
練習回

一、填填看看：(每小題 5 分，共 10 分)

12 朵香菇分給 3 人，下面的分法有平均的在 中打 \checkmark ，沒有的打 \times ：

1.		
2.		

二、要怎么分？圈圈看看：(共 8 分)

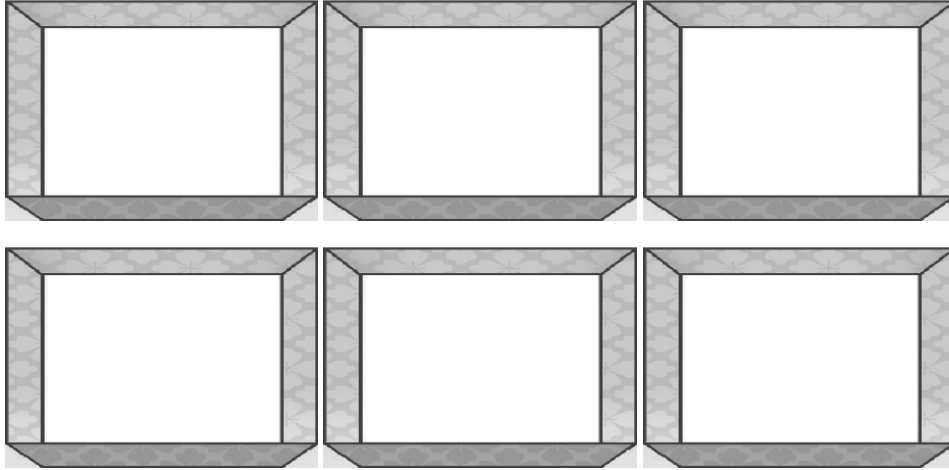
大銘將 36 顆草莓平均分給他的 9 位同學，每位同學可以分到幾顆？



() 顆草莓

三、畫○分分看：(每題8分，共16分)

1. 24個棒球平分成6盒，1盒有幾個棒球？



() 個

2. 畫「○」做做看，並寫出答案：

35張椅子，7張排成一排，可以排成幾排？

() 排

四、想一想，連連看：(每題 4 分，共 12 分)

24 顆草莓平分放在 3 個蛋糕上，1 個蛋糕

上面有幾顆草莓？

安安用乘法算式記成： $8 \times 3 = 24$

算式中各數字各表示什麼？

1. 8 表示

2. 3 表示

3. 24 表示

● ㄅ. 每個蛋糕上面有 3 顆草莓

● ㄆ. 每個蛋糕上面有 8 顆草莓

● ㄏ. 全部有 24 顆草莓

● ㄐ. 有 3 個蛋糕

五、把做法用減法算式記下來：(每題 8 分，共 24 分)

1. 媽媽煮 20 個水餃，平分成 5 盤，每盤

有幾顆水餃？

2. 24 枝冰棒，平均裝成 4 盒，每一盒有幾枝冰棒？

3. 二年級甲班有 35 人，平均分成 7 組，每一組有幾個人？

六、應用題：（每題 6 分，共 30 分）

1. 有 24 顆巧克力，平均分成 6 包，每一包有幾顆巧克力？把做法用乘法算式記下來。

2. 把 21 張明信片平均分給 3 人，每一人可得到幾張明信片？把做法用乘法算式記下來。

3. 有 48 朵玫瑰花，每一束花都一樣多，共有 6 束花，請問每一束有幾朵花？把做法用乘法算式記下來。
4. 把 54 盒布丁平分給 6 人，每人可以分到幾盒布丁？把做法用乘法算式記下來。
5. 有 21 片餅乾，平分成 7 包，每包可以裝幾片？把做法用乘法算式記下來。

2-6 綜合回
第一回

一、畫○做做看，並寫出答案。(畫圈3分，填空2分，共15分)

1. 把15顆蘋果平分成3盒，每盒有幾顆蘋果？

每盒有()顆蘋果。

2. 有16枝鉛筆，平分成4包，每包有幾枝鉛筆？

每包有()枝鉛筆。

3. 有20顆雞蛋，平分成5盒，每盒有幾顆雞蛋？

每盒有()顆雞蛋。

二、要怎麼分？圈出來。(畫圖3分，填空2分，共5分)

有18顆水蜜桃，每人分到3顆，可以分給幾個小朋友？

可以分給()
個小朋友。

三、把作法用減法算式記下來：(每題 10 分，共 40 分)

1. 有 45 顆彈珠，每 9 顆裝一袋，一共可以裝成幾袋？
2. 把 12 公分長的壽司，每 4 公分切成 1 塊，可以切成幾塊？
3. 把 32 顆冰塊平分在 8 個杯子裡，一個杯子可以裝幾顆冰塊？
4. 有 21 塊餅乾，每 7 塊裝成 1 包，一共可以裝成幾包？

四、把作乘法用乘法算式記下來，乘法算式中的答案，請用()括起來：(每題 10 分，共 40 分)

1. 每 5 支冰棒裝成 1 盒，40 支冰棒可以裝成幾盒？

2. 把 54 瓶飲料，平均分給 6 人，一人可以分到幾瓶？

3. 有 56 朵花，每 8 朵綁成 1 束，一共可以綁成幾束？

4. 1 包糖果有 27 顆，平均分給 3 個小朋友，1 人可以分到幾顆？

2-6 綜合回 第二回

一、畫○做做看看，並寫出答案：(畫圈3分，填空2分，共5分)

1. 把21顆梨子平分成3袋，每袋有幾顆梨子？

--	--	--

每袋有()顆梨子。

2. 有32支鉛筆，平分成4包，每包有幾支鉛筆？

每包有()支鉛筆。

3. 有24顆皮球，平分成6籃，每籃有幾顆皮球？

每籃有()顆皮球。

二、要怎麼分？圈出來。(畫圖3分，填空2分，共5分)

有20顆水蜜桃，每人分到4顆，可以分給幾個小朋友？


 可分給
 () 個小朋友。

三、把作乘法用減法算式記下來：（每題 10 分，共 40 分）

1. 有 16 個人要搭計程車，每輛計程車可以載 4 位乘客，需要幾輛計程車？
2. 二年級課輔班共有 25 人，每 5 個人一組進行活動，可以分成幾組？
3. 閱讀角落每次可以提供 8 個人進行共讀，二年級共有 32 人，要分幾次進行？
4. 將 56 公分長的繩子，每 8 公分剪成一段，可以剪成幾段？

四、把作法用乘法算式記下來，乘法算式中
的答數，請用()括起來：(每
題 10 分，共 40 分)

1. 媽媽採收了 63 朵玫瑰花，每 9 朵綁成一束，
可以綁成幾束？

2. 超市販賣飲料時，要將飲料每 6 瓶裝成一組，
現在有 48 瓶飲料，可以裝成幾組？

3. 將 15 顆糖果平均分給 3 個人，每個人可以
分到幾顆？

4. 老師有 72 張彩色紙，要平均分給 8 組同學
做摺紙，每組會分到幾張彩色紙？

2-6
進階挑戰區

一、選擇題：(每題 4 分，共 20 分)

- () 1. 有 12 顆糖果，每 2 顆裝一袋，共可以裝幾袋？(① 4 ② 5 ③ 6) 袋
- () 2. 有 18 個布丁，每 3 個裝一盒，共可以裝幾盒？(① 6 ② 4 ③ 5) 盒
- () 3. 24 瓶牛奶平分給 6 位小朋友，每位小朋友分到幾瓶牛奶？(① 2 ② 4 ③ 6) 瓶
- () 4. 18 件雨衣平分給 6 組小朋友，每組小朋友分到幾件雨衣？(① 2 ② 3 ③ 6) 件
- () 5. 1 個禮物包裝需要 7 公分長的緞帶，姐姐買了 35 公分的緞帶，最多可以包裝幾個禮物？(① 3 ② 4 ③ 5) 個

二、填填看看：(每題 4 分，共 28 分)

1. 1 個橡皮擦 8 元：

- (1) 買 1 個橡皮擦要付 () 元。
- (2) 買 2 個橡皮擦要付 () 元。

(3) 買 3 個 橡 皮 擦 要 付 () 元。

(4) 哥哥帶了 64 元，剛好可以買 () 個 橡 皮 擦。

2. 農夫今天採收了 30 顆蘋果：

(1) 每 5 顆裝 1 袋，可以裝成 () 袋。

(2) 每 6 顆裝 1 袋，可以裝成 () 袋。

(3) 每 10 顆裝 1 袋，可以裝成 () 袋。

三、將正確的答案在 () 內打 \bigcirc 。(每題 6 分，共 12 分)

將 35 顆糖果平均分給 5 位小朋友，每人得到幾顆糖果？用乘法算式 $【 7 \times 5 = 35 】$ 計算出答案後，請問在算式中，5 和 7 分別表示什麼？

1. 5 表示

() 共有 5 位小朋友

() 每個人分到 5 顆糖果

2. 7 表示

() 共有 7 位小朋友

() 每個人分到 7 顆糖果

四、應用題：（每題8分，共40分）

1. 用乘法算式記下來。

1 顆巧克力 7 元，42 元可以買幾顆巧克力？

2. 用乘法算式記下來。

24 個學生分組玩遊戲，每 4 個學生分成 1 組，可以分成幾組？

3. 用乘法算式記下來。

40 支冰棒，每 10 支裝成 1 盒，共可以裝成幾盒？

4. 用減法算式記下來。

32 支鉛筆，每 8 支裝成 1 包，剛剛剛好可以裝成幾包？

5. 用減法算式記下來。

超市 1 瓶牛奶特價 10 元，爸爸帶了 70 元去超市，可以買幾瓶牛奶？