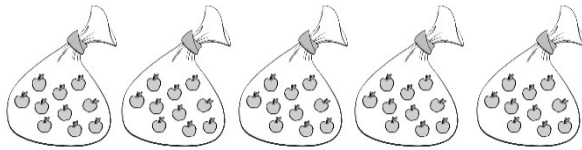
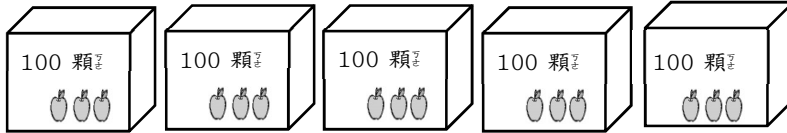



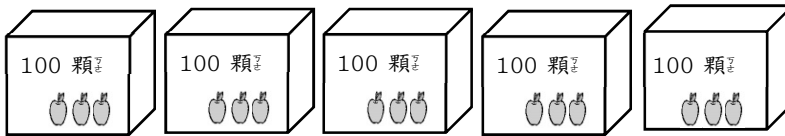
2-3-1 練習回

一、畫畫看看：(每題 10 分，共 20 分)

1. 圈出 300 個。



2. 圈出 461 個。



二、連連看看：(每題 4 分，共 16 分)

把正確的寫法和讀法連起來：

- | | |
|----------|---------------|
| 1. 427 ● | ● ㄅ 二 百 四 十 七 |
| 2. 724 ● | ● ㄅ 四 百 二 十 七 |
| 3. 274 ● | ● ㄅ 七 百 二 十 四 |
| 4. 247 ● | ● ㄅ 二 百 七 十 四 |

三、做做看看：(每小題 4 分，共 16 分)

怎麼讀？怎麼寫？填一填：

1. 「三百一十五」寫作 ()。
2. 「912」讀作 ()。
3. 「340」讀作 ()。
4. 「七百九十九」寫作 ()。

四、填填看看：(每格 8 分，共 48 分)

1 箱鉛筆有 100 枝，1 盒鉛筆有 10 枝。

1. 3 箱鉛筆共有 () 枝。
2. 5 箱又 4 盒鉛筆共有 () 枝。
3. 2 箱、7 盒和 8 枝鉛筆共有 () 枝。
4. 349 枝鉛筆可裝成 () 箱、() 盒和 () 枝。

2-3-2
練習回

一、選擇題：(每題 5 分，共 20 分)

() 1. 一張 500 元鈔票可以換幾張



(① 5 ② 10 ③ 15) 張

() 2. 一張 500 元鈔票可以換幾個十元

元硬幣？

(① 10 ② 15 ③ 50) 個

() 3. 一張 500 元鈔票可以換幾個



50 圓硬幣？ (① 5 ② 10 ③ 15) 個

() 4. 一張 500 元鈔票可以換幾個一

元硬幣？

(① 50 ② 100 ③ 500) 個

二、比較大小，在 () 裡填入 $>$ 或 $<$ ：(每

小題 4 分，共 40 分)：

1. 906 () 690
2. 301 () 三百一十
3. 四百五十九 () 495
4. 1000 () 999
5. 473 () 374


6. 189 () 289

7. 599 () 601

8. 752 () 759

三、圈出 634 元，並回答問題：(圈出錢幣 8 分、每格 4 分，共 20 分)

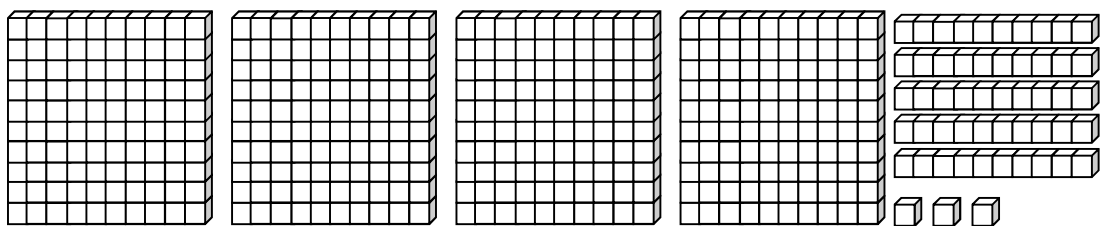
1. 圈出錢幣：



2. 634 有 () 個 100、() 個 10 和 () 個 1。

四、畫畫看看，並回答問題：(畫圖 8 分，每格 3 分，共 20 分)

1. 在方框中畫 100、10、1 來表示下面積木的數量：



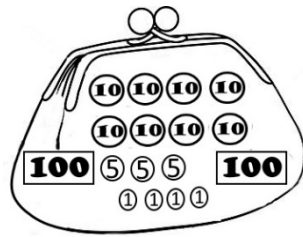
2. 共有 () 個 100，() 個 10，() 個 1，合起來是 ()。

2-3 綜合回 第一-回

一、選擇題：（每題 4 分，共 20 分）

() 1. 這是小明的錢包，小明有多少元？

(① 294 ② 299 ③ 301) 元



() 2. 1 張  可以換成

(① 3 張  ② 10 張 
③ 10 張 )

() 3. 下面哪一個數最小？

(① 590 ② 509 ③ 395)

() 4. 三位數比大小時，應該先比較哪一個位值的數字？

(① 百位 ② 十位 ③ 個位)

() 5. 十位數字是 0、百位數字是 7、個位數字是 9 的數是

(① 709 ② 907 ③ 970)

二、連讀連看：(每線 3 分，共 12 分)

把正確的讀法與寫法連起來：

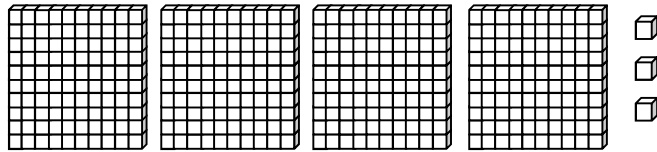
1. 803 ● ● ㄅ. 九百三十
2. 576 ● ● ㄆ. 八百零三
3. 421 ● ● ㄇ. 五百七十六
4. 930 ● ● ㄏ. 四百二十

三、填填看：(每題 3 分，共 54 分)

1. 690 的百位數字是 ()、十位數字是 ()、個位數字是 ()。
2. 804 有 () 個一、() 個十和 () 個百。
3. 100 顆彈珠裝成一盒，10 顆彈珠裝成一袋。
 - (1) 哥哥有 4 盒又 3 袋彈珠，是 () 顆。
 - (2) 姐姐有 360 顆彈珠，最多可以裝成 () 盒，剩下可以裝成 () 袋。
 - (3) 小寶 有 408 顆彈珠，最多可以裝成 () 盒，剩下可以裝成 () 袋，還剩下 () 顆。
4. 100 支筷子裝 1 袋，爸爸有 399 支筷子，還差 () 支就可以裝滿 4 袋。
5. 依序填入數字：
 - (1) 458 → 459 → () → () → () → 463
 - (2) 805 → 810 → () → () → 825 → 830

四、畫畫看：(畫圖 4 分、每格 1 分，共 14 分)

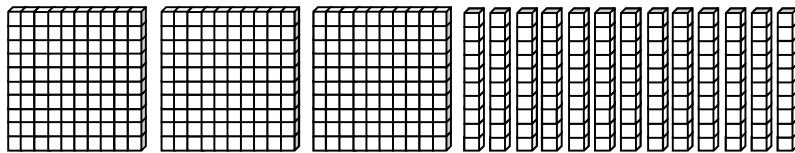
1. 在方框中畫 100、10、1 來表示下面積木的數量：



(1) 畫畫看：

(2) 共畫了 () 個 100，() 個 10 和 () 個 1，合起來是 () 個 1。

2. 在方框中畫 100、10、1 來表示下面積木的數量：



(1) 畫畫看：

(2) 共畫了 () 個 100，() 個 10 和 () 個 1，合起來是 () 個 1。

2-3 綜合回 第二回

一、填填看看：(每格 5 分，共 55 分)

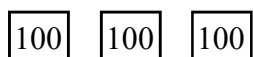
1. 博幼運動會的會場準備了六百瓶果汁、七百五十瓶礦泉水、八百零五瓶運動飲料和九百一十七瓶牛奶。
用阿拉伯數字記下來：
 - (1) 果汁準備了 瓶。
 - (2) 礦泉水準備了 瓶。
 - (3) 運動飲料準備了 瓶。
 - (4) 牛奶準備了 瓶。
 2. 2 個百、18 個10 和9 個1，可以換成 3 個百、 個10 和 個1，合起來是 。
 3. 百位數字是7、十位數字是9、個位數字是3 的三位數是 。
 4. 個位數字是0、十位數字是5、百位數字是2 的三位數是 。
 5. 567 可以換成 5 個百、 個十和7 個1。
 6. 3 張100 元、12 個10 元和4 個1 元共是 元。
- 二、數量不夠的，畫100、10、1 補到正確的數量：(每題 5 分，共 10 分)

1. 754

100 100 100 100

10 10 10 10 10 1

2. 506



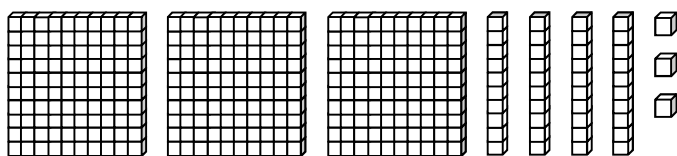
三、連連看：(每線 5 分，共 20 分)

把正確的讀法與寫法連起來：

- | | |
|----------|-------------|
| 1. 370 ● | ● 七.七 百 三 十 |
| 2. 730 ● | ● 七.七 百 零 三 |
| 3. 703 ● | ● 三.七 百 七 十 |
| 4. 307 ● | ● 三.七 百 零 七 |

四、畫畫看：(畫圖 7 分，每格 2 分，共 15 分)

在方框中畫 100、10、1 來表示下面積木的數量：



1. 畫畫看：



2. 共畫了 () 個 100，() 個 10 和 () 個 1，合起來是 () 個 1。

2-3 進階挑戰區

一、連_カ連_カ看_テ：(每_ク線_ノ 5 分_ヲ，共_{シテ} 30 分_ヲ)

1. 三_{タテ}位_ノ數_ノ中_ニ，圈_ミ起_ス來_カ的_キ⑥代_ヲ表_ス什_ニ麼_ト?連_カ上_テ正_シ確_シ的_キ意_ヲ義_ヲ。

(1) 5⑥7 ● ● ㄅ. 6

(2) ⑥84 ● ● ㄅ. 600

(3) 16⑥ ● ● ㄇ. 60

2. 將_{シテ}正_シ確_シ的_キ讀_カ法_ヲ和_{シテ}寫_カ法_ヲ連_カ起_ス來_カ。

(1) 408 ● ● ㄅ. 四_ハ百_ノ零_ノ八_ノ

(2) 480 ● ● ㄅ. 四_ハ百_ノ八_ノ十_ハ八_ノ

(3) 488 ● ● ㄇ. 四_ハ百_ノ八_ノ十_ハ

二、在_テ () 裡_ニ填_メ入_ル>或_ハ<：(每_ク題_ニ 4 分_ヲ，共_{シテ} 20 分_ヲ)

1. 223 () 303

2. 837 () 937

3. 700 () 699

4. 546 () 592

5. 780 () 784

三、做_テ做_テ看_テ：(每_ク個_ノ答_ヲ案_ヲ 5 分_ヲ，共_{シテ} 35 分_ヲ)

1. 小_ト同_シ家_ノ的_キ門_ノ牌_ノ號_ノ碼_ノ在_テ 500 和_{シテ} 600 之_ニ間_ニ，而_{シテ}且_{シテ}十_ハ位_ノ數_ノ字_ハ是_ル 0，小_ト同_シ家_ノ的_キ門_ノ牌_ノ是_ル幾_ト號_ト?圈_ミ起_ス來_カ。

607

550

509

596

2. 嘉嘉將數字卡，由小到大的順序排列，哪一張卡的位位置放錯了，圈起來。

345	395	253	439	580	674
-----	-----	-----	-----	-----	-----

3. 填入適當的數字：

(1) 5 個百和 16 個十合起來是 ()。

(2) 75 個 10 可以換成 () 個百和 5 個 10，全部是 ()。

(3) 君君買書包用去 3 張 100 元、35 個 10 元，共花去 () 元。

(4) 根據規則，在空格填入數字：

490	495	500		510
-----	-----	-----	--	-----

四、算算看看：(每題 5 分，共 15 分)

這些是大同存的錢，他想要買 1 本 386 元的字典，他的錢不夠幾元？

100	100	10	10	10	10	10	10	10	10	10	10
10	10	10	10	10	10	10					
1	1	1	1	1	1	1					

答：不夠 () 元。

2. 佳呈想要買一雙 455 元的球鞋，他要怎樣付錢才會剛剛好？把需要的錢圈出來。

100 100 100 100

10 10 10 10 10 10 10 10 10 10

10 10 10 10 10 10 10 10 10 10

1 1 1 1 1 1 1 1 1 1

3. 這些是小美撲滿裡全部的錢，如果小美買了一件 200 元的裙子，她還剩下多少錢？先把裙子的錢圈出來，再回答問題。

100

10 10 10 10 10 10 10 10 10 10

10 10 10 10 10 10 10 10

1 1 1 1 1 1 1 1 1 1

答：剩下()元。