



(版本一) 博幼四則運算基礎檢測卷

2-1 200 以內的數



課輔班級：_____

姓名：_____

得分：_____

一 填填看看：

(每格 3 分，共 45 分)

1. 寫出數字的正確的記法：

(1) 「一百零五」記作 ()。

(2) 「一百一十」記作 ()。

2. 寫出數字的正確的讀法：

(1) 「141」讀作 ()。

(2) 「177」讀作 ()。

3. 根據下列數字，回答問題：

102	21	120	112	200
-----	----	-----	-----	-----

(1) 個位是 2 的數字有 ()。

(2) 十位是 2 的數字有 ()。

(3) 百位是 2 的數字有 ()。

4. 按照數字的順序填填看看：

(1) 100 → () → 120 → 130 → () → 150 → ()

(2) () → 195 → 190 → 185 → () → 175 → 170

(3) 136 → 138 → () → () → 144 → 146 → ()

二 比比看看：

在 () 裡填上 > 或 < (每格 3 分，共 15 分)

1. 100 () 199

2. 138 () 148

3. 165 () 156

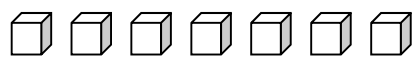
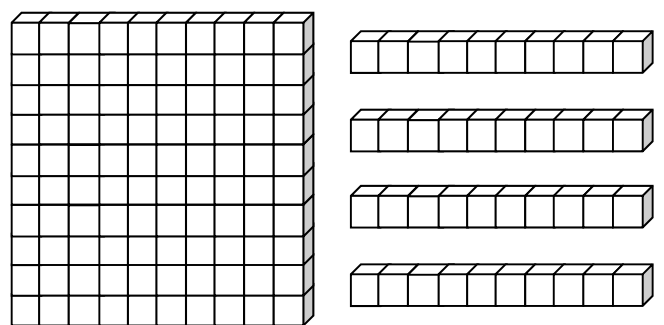
4. 172 () 127

5. 200 () 199

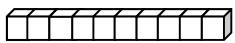
三 看看圖填填看看：


(每格 4 分，共 24 分)

1. 大雄將很多積木放在一起，如下所示：

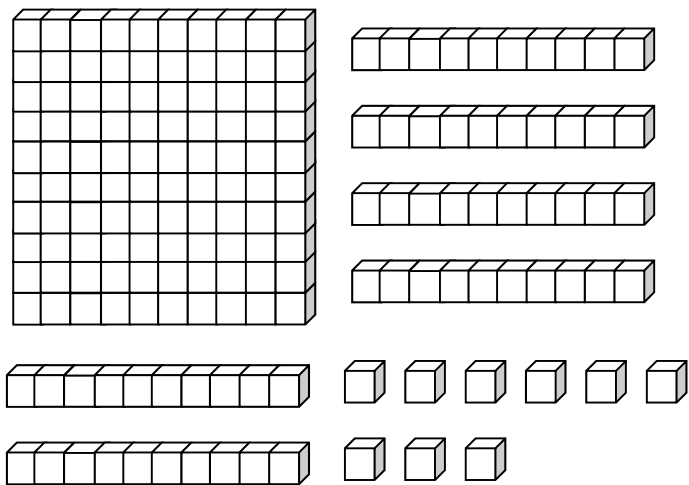


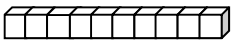

(1) 他是放了 () 個積木。

(2) 當再放上 1 個 , 一共是放了 () 個積木。

(3) 當再放上 13 個 , 一共是放了 () 個積木。

2. 小夫將很多積木堆在一起，如下圖所示：




- (1) 他是堆了 () 個積木。
- (2) 當他拿走了 4 條 , 還剩下 () 個積木。
- (3) 當他再任意一拿走了 19 個 , 最後剩下 () 個積木。

四

畫畫看看：

用 100 、 10 、 1 ，畫出和指定金額一樣多的錢幣 (每題 8 分，共 16 分)

1. 151 元



2. 178 元

