

非數單元練習本

【二年級】



解答本

2-3-1 認識與報讀鐘面時刻

第一回練習卷 P.3

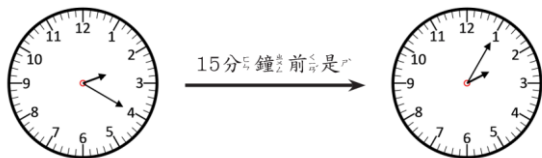
一 (每題 6 分, 共 36 分)

1. 4, 40
2. 7, 5
3. 3, 55
4. 5, 15
5. 1, 50
6. 12, 10

二 (每格 4 分, 共 40 分)

1. 4, 12
2. 11, 20
3. 9, 38
4. 10, 10
5. 7, 20

三 (時鐘每個 10 分, 答案每格 2 分, 共 24 分)



現在是 2 點 20 分

(2) 點 (5) 分

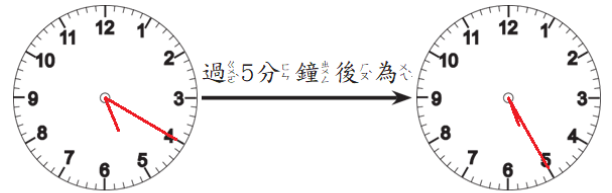
第二回練習卷 P.5

一 (每題 7 分, 共 70 分)

1. 1, 5
2. 3, 25
3. 4, 25
4. 2, 25
5. 7, 0
6. 11, 50
7. 1, 10
8. 7, 20
9. 2, 55

10. 4, 55

二 (時鐘每個 12 分, 答案每格 3 分, 共 30 分)



現在是 5 點 20 分

(5) 點 (25) 分

第三回練習卷 P.7

一 (每題 7 分, 共 70 分)

1. 3, 36
2. 3, 25
3. 4, 10
4. 6, 45
5. 7, 52
6. 5, 50
7. 9, 53
8. 8, 4
9. 5, 47
10. 11, 39

二 (每題 5 分, 共 30 分)

1. 5, 42
2. 9, 25
3. 4, 28
4. 3, 38
5. 11, 40
6. 7

+ 第四回練習卷 P.9

一 (每題 7 分, 共 42 分)

1.



2.



3.



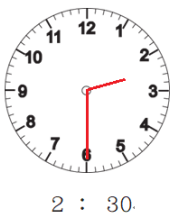
4.



5.



6.



二 (每題 5 分, 共 30 分)

1. 6, 37
2. 39
3. 20
4. 10, 10
5. 6, 30
6. 7, 20

三 (每題 7 分, 共 28 分)

1. 4, 56
2. 5, 56
3. 3, 15
4. 10, 6

+ 第五回練習卷 P.11

一 (每題 9.5 分, 共 76 分)

1.



2.



3.



4.



5.



6.



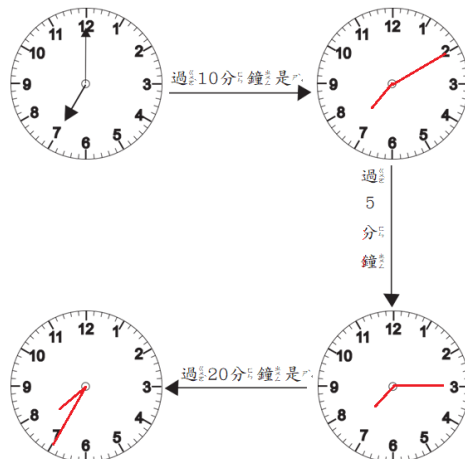
7.



8.



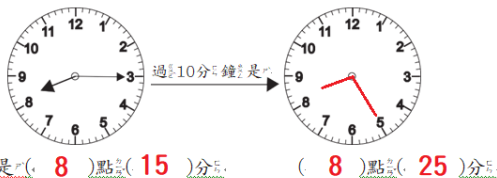
二 (時鐘每個 8 分, 共 24 分)



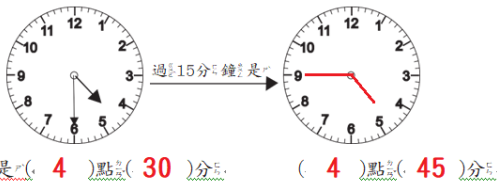
第六回練習卷 P.13

一 (答案每格 3 分, 時鐘每個 8 分, 共 40 分)

1.



2.



二 (每題 10 分, 共 60 分)

- 5, 39
- 35
- 30
- 12, 10
- 5, 20
- 10, 10

2-3-2 認識年與月

第一回練習卷 P.15

一 (每格 2 分, 共 52 分)

- 4, 6, 9, 11
- 1, 3, 5, 7, 8, 10, 12
- 2
- 1, 1, 四, 12, 31, 四
- 9, 1, 二, 9, 30, 三
- 4, 4

二 (每格 2 分, 共 48 分)

1. 平年

1 月	2 月	3 月	4 月	5 月	6 月
31	28	31	30	31	30
7 月	8 月	9 月	10 月	11 月	12 月
31	31	30	31	30	31

2. 閏年

1 月	2 月	3 月	4 月	5 月	6 月
31	29	31	30	31	30
7 月	8 月	9 月	10 月	11 月	12 月
31	31	30	31	30	31

第二回練習卷 P.17

一 (每題 5 分, 共 60 分)

- 4
- 95
- 4
- 5
- 100
- 9
- 12, 2
- 28, 29
- 98, 請依實際狀況作答, 請依實際狀況作答
- 5
- 19
- 12, 7, 365, 366 (第 3,4 格可調換)

二 (每題 8 分, 共 40 分)

- 4, 6, 13, 20, 27
- 四
- 一, 20, 日, 22, 二
- 三, 日
- 7, 1

2-3-3 認識星期

第一回練習卷 ➡ P.19

一 (每格 4 分, 共 32 分)

1. 一, 11, 10
2. 日
3. 2
4. 4, 二
5. 5

二 (每格 4 分, 共 44 分)

1. 5, 3, 10, 17, 24, 31
2. 7, 30
3. 7, 16
4. 8

三 (每格 4 分, 共 24 分)

1. 7, 5, 2
2. 7, 1
3. 14

第二回練習卷 ➡ P.21

一 (每格 3 分, 共 60 分)

1. 7, 18
2. 7, 31
3. 4
4. 7, 1, 7, 8, 7, 15, 7, 22, 7, 29
5. 21, 3
6. 7, 21, 2

二 (每格 2 分, 共 40 分)

1. 14
2. 8, 22, 21
3. 8, 22, 3
4. 2, 14
5. 10, 15, 六
6. 2, 8, 2, 22
7. 3, 26
8. 7, 17

2-3-4 認識天數

第一回練習卷 ➡ P.23

一 (每題 25 分, 共 100 分)

1. 21
2. 9, 25
3. 12, 24
4. 9

第二回練習卷 ➡ P.25

一 (每題 5 分, 共 40 分)

1. 30
2. 10
3. 2
4. 12
5. 日
6. 三
7. 三
8. 7

二 (每格 5 分, 共 60 分)

1. 6
2. 15
3. 1, 31
4. 2, 19
5. 1, 8, 15, 22
6. 日
7. 19

2-4-1 公分、公尺估測與計算

第一回練習卷 ➡ P.35


一 (每題 10 分, 共 50 分)

1. 請實際讓學生量看看
2. 請實際讓學生量看看

3. 請實際讓學生量看看
4. 11
5. 7, 6

二 (每題 12.5 分, 共 50 分)

1. 18 公分
2. 46 公分
3. 10 公分
4. 11 公分


 第二回練習卷 P.37

一 (每題 10 分, 共 40 分)

1. (✓) 3 公尺
2. (✓) 130 公分
3. (✓) 1 公尺
4. (✓) 80 公分

二 (每題 15 分, 共 60 分)

1. 12 公分
2. 8 公尺
3. 1 公尺
4. 20 公分


 第三回練習卷 P.39

一 (每題 10 分, 共 40 分)

1. (✓) 1 公尺
2. (✓) 1 公尺
3. (✓) 2 公尺
4. (✓) 2 公尺

二 (每題 10 分, 共 60 分)

1. 1 公尺
2. 5 公尺
3. 300 公尺
4. 1 公尺
5. 2 公尺
6. 3 公尺

 第四回練習卷 P.37

一 (每題 3 分, 共 45 分)


1. 2
2. 3
3. 2
4. 2
5. 2
6. 9
7. 1
8. 5
9. 4
10. 7
11. 7
12. 20
13. 25
14. 15
15. 10

二 (每題 3 分, 共 15 分)

1. 1
2. 3
3. 5
4. 8
5. 9

三 (每題 5 分, 共 40 分)

1. <
2. >
3. =
4. =
5. >
6. =
7. =
8. =

 第五回練習卷 P.43

一 (每題 5 分, 共 45 分)

1. 3, 40
2. 1, 10

3. 3, 20
4. 3, 60
5. 2, 50
6. 16, 30
7. 3, 50
8. 2, 10
9. 11, 20

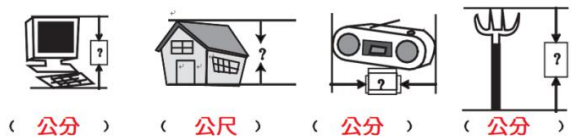
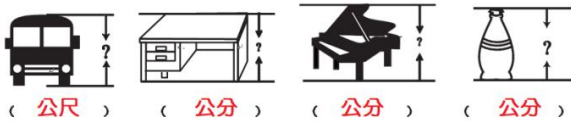
二 (每題 11 分, 共 55 分)

1. 1 公尺 8 公分
2. 2 公尺 1 公分
3. 2 公尺 27 公分
4. 2 公尺
5. 小明 比較高, 相差 9 公分

2-4-2 長度單位的量測與估算

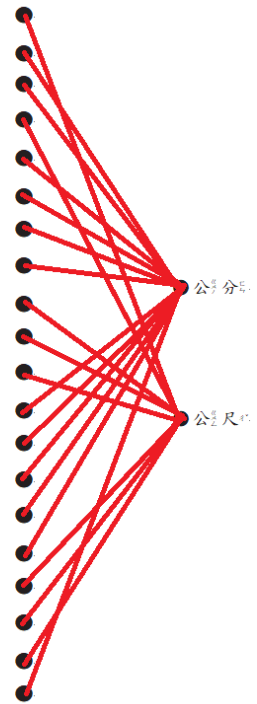
第一回練習卷 P.45

一 (每格 5 分, 共 60 分)



二 (每條線 2 分, 共 40 分)

1. 房子的高度
2. 小酒杯的高度
3. 書的寬度
4. 汽車的寬度
5. 小嬰兒的身高
6. 鉛筆盒的寬度
7. 書本的高度
8. 鉛筆盒的長度
9. 大卡車的寬度
10. 操場跑道
11. 101大樓的高度
12. 色紙的長度
13. 膠水高度
14. 橡皮擦的高度
15. 鋼琴的高度
16. 水壺的高度
17. 大冰箱的高度
18. 溜滑梯的高度
19. 大書櫃的高度
20. 電視遙控器的長度



第二回練習卷 P.47

一 (每題 10 分, 共 50 分)

1. 12
2. 7
3. 10
4. 3
5. 19

二 (每題 10 分, 共 50 分)

請讓學生拿直尺畫畫看

第三回練習卷 P.49

一 (每題 5 分, 共 30 分)

1. 4
2. 3
3. 6
4. 5
5. 乙
6. 丙

二 (每題 14 分, 共 70 分)

請讓學生拿直尺畫畫看

**2-4-3 認識水平鉛錘現象
以及平行與垂直的關係**

第一回練習卷 P.51

一 (每題 10 分, 共 40 分)

1. ✗
2. ✓
3. ✗
4. ✓

二 (每格 5 分, 共 60 分)

1. (✓)(✗)(✗)(✓)
2. (✗)(✗)(✓)(✗)
3. (✗)(✓)(✗)(✗)

第二回練習卷 P.53

一 (每題 5 分, 共 50 分)

1. ✓
2. ✓
3. ✗
4. ✓
5. ✗
6. ✗
7. ✓
8. ✓
9. ✓
10. ✓

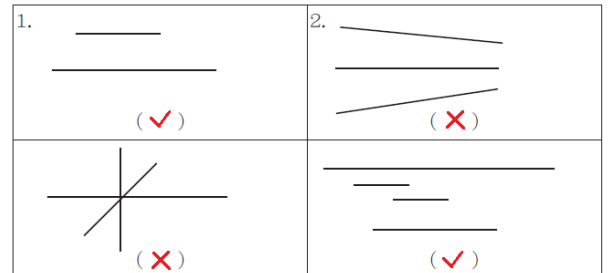
二 (每題 5 分, 共 50 分)

1. ✓
2. ✗
3. ✗
4. ✗
5. ✗
6. ✓

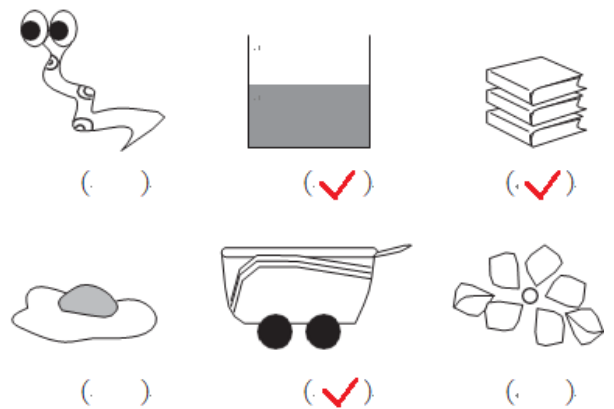
7. ✗
8. ✓
9. ✗
10. ✓

第三回練習卷 P.55

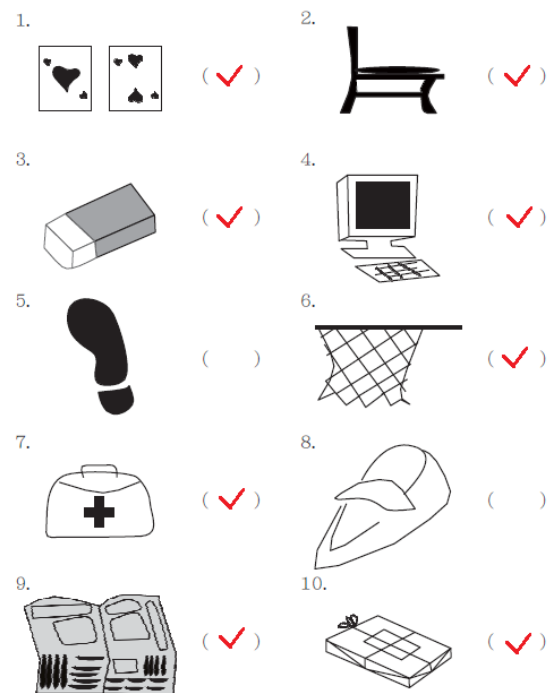
一 (每題 5 分, 共 20 分)



二 (每格 5 分, 共 30 分)



三 (每題 5 分, 共 50 分)













+ 第四回練習卷 P.57

一 (每題 10 分, 共 30 分)

1. (1)5 (2)1、3、4
2. (1)1、2 (2)7
3. (1)6 (2)1、2、3

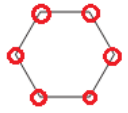
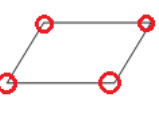
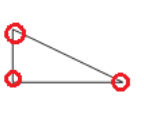
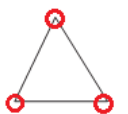
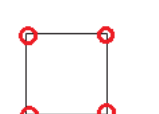
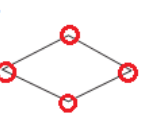
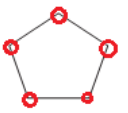

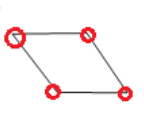
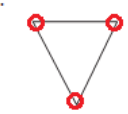

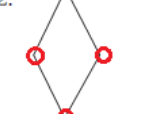
二 (每題 7 分, 共 70 分)

- | | |
|--|---|
| 1.  (X) | 2.  (✓) |
| 3.  (✓) | 4.  (X) |
| 5.  (X) | 6.  (X) |
| 7.  (✓) | 8.  (✓) |
| 9.  (X) | 10.  (X) |

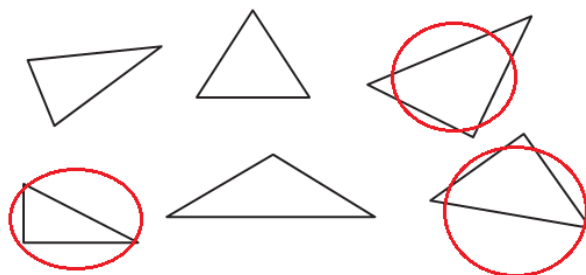
2-4-4 角和物體的邊與面

+ 第一回練習卷 P.59


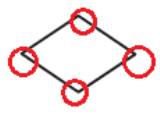


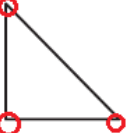
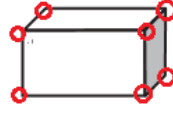
一 (每題 5 分, 共 60 分)

1.  有 (6) 個角	2.  有 (4) 個角	3.  有 (3) 個角
4.  有 (3) 個角	5.  有 (4) 個角	6.  有 (4) 個角
7.  有 (5) 個角	8.  有 (4) 個角	9.  有 (4) 個角
10.  有 (3) 個角	11.  有 (8) 個角	12.  有 (4) 個角

二 (共 10 分)



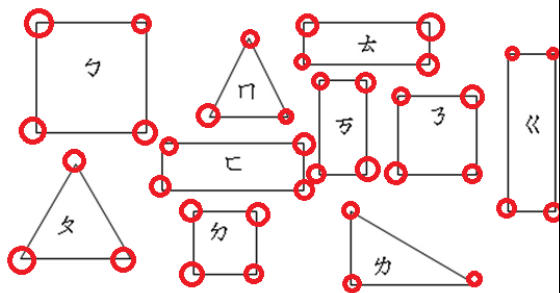
三 (每題 5 分, 共 30 分)

- | | |
|---|--|
| 1.  | 2.  |
| 3.  | 4.  |
| 5.  | 6.  |

+ 第二回練習卷 P.61

一 (每格 4 分, 共 36 分)

1. 勺、夕、子
2. 匚、去、万、《
3. 夕、冂、力
- 4.



5. 3, 9
6. 3, 12
7. 4, 16

二 (每題 8 分, 共 24 分)

1. 正方
2. 3
3. 3

三 (每題 10 分, 共 40 分)

1. 3, 3, 3
2. 4, 4, 4
3. 4, 4, 4
4. 5, 5, 5

**2-4-5 正方形正三角形的邊長關係
與認識正方體和長方體的邊長關係**

+ 第一回練習卷 P.63

一 (每格 8 分, 共 40 分)

1. 邊
2. 頂點
3. 面
4. 6, 12

二 (每格 6 分, 共 36 分)

1. 2, 2, 2
2. 2, 4
3. 6

三 (每題 6 分, 共 24 分)

1. 6, 2, 4
2. 6, 6
3. 6, 2, 4
4. 6, 0, 6

+ 第二回練習卷 P.65

一 (每格 5 分, 共 10 分)

1. 3, 3

二 (每格 6 分, 共 18 分)

1. 6, 6, 6

三 (每題 6 分, 共 72 分)

1. 9
2. 15
3. 30
4. 36
5. 45
6. 60
7. 32
8. 44
9. 48
10. 12
11. 64
12. 16

+ 第三回練習卷 P.67

一 (每格 7 分, 共 21 分)

- 4, 4, 4

二 (每格 7 分, 共 21 分)

- 3, 3, 3

三 (每格 4.5 分, 共 9 分)

- (√) ()

四 (每格 7 分, 共 49 分)

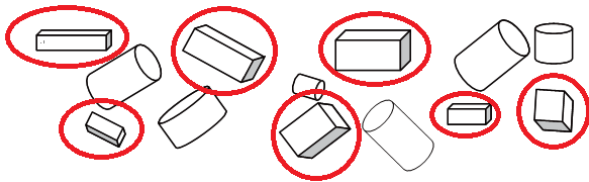
1. 8
2. 20
3. 40
4. 60
5. 84
6. 52
7. 108

+ 第四回練習卷 ➔ P.69

一 (每格 2 分, 共 18 分)

1. 4, 4
2. 2, 2
3. 12, 12
4. 8, 4 (或 4, 8)
5. 4

二 (共 28 分)



三 (每格 6 分, 共 54 分)

1. 4, 4, 4
2. 2, 2, 2, 2, 2, 2

四 (每題 5 分, 共 10 分)

請讓學生畫畫看

2-6-1 認識重量並做直接比較

+ 第一回練習卷 ➔ P.73

一 (每題 5 分, 共 20 分)

1. 2, 1, 3, 4

二 (每題 4 分, 共 12 分)

1. (✓)()
2. ()(✓)
3. ()()(✓)

三 (每題 8.5 分, 共 68 分)

1. (○)()
2. (○)()
3. () (○)
4. () (○)
5. (○)(○)
6. (○)(○)
7. () (○)
8. (○)()

+ 第二回練習卷 ➔ P.75

一 (每格 10 分, 共 40 分)

1. 8, 4
2. 16, 8

二 (共 20 分)

() (✓)

三 (每格 10 分, 共 40 分)

1. (✗)
2. (✓)
3. (✗)
4. (✗)

+ 第三回練習卷 ➔ P.77

一 (每格 6 分, 共 36 分)

1. 6, 3
2. 4, 2
3. 10, 2

二 (每格 8 分, 共 32 分)

(4) (2) (1) (3)

三 (每題 8 分, 共 32 分)

1. () (○)
2. () (○)
3. () (○)
4. (○)()

2-6-2 認識容量並做直接比較

第一回練習卷 ➡ P.79

一 (每題 10 分, 共 40 分)

1. (○)()
2. () (○)
3. (○)()
4. (○)()

二 (每題 10 分, 共 40 分)

1. (✓)()
2. (✓)()
3. (✓)()
4. (✓)()

三 (1-2 題 7 分, 第 3 題 6 分, 共 20 分)

1. (1)(3)(2)
2. (1)
(2)
3. (1)(2)(3)

第二回練習卷 ➡ P.81

一 (每題 10 分, 共 40 分)

1. () (✓)
2. () (✓)
3. (✓)()
4. (✓)()

二 (每題 10.5 分, 共 21 分)

1. (✓)
(✗)
2. (✗)
(✓)

三 (每題 13 分, 共 39 分)

1. (✓)()
2. (✓)()
3. () (✓)

第三回練習卷 ➡ P.83

一 (每題 10 分, 共 40 分)

1. (○)()
2. () (○)
3. (○)()
4. (○)()

二 (每題 12 分, 共 24 分)

1. (✗)
(○)
2. (✗)
(○)

三 (每題 6 分, 共 36 分)

1. (✓)()
2. (✓)()
3. (✓)()
4. (✓)()
5. (✓)()
6. (✓)()

2-6-3 能認識面積並做直接比較

第一回練習卷 ➡ P.85

一 (每題 10 分, 共 30 分)

請讓學生在課本上畫出

二 (共 10 分)

佈告欄(✓)

三 (每題 10 分, 共 50 分)

1. 甲
2. 丙
3. 甲、乙、丙
4. 有
5. (B)

四 (共 10 分)

甲、己、乙、戊、丁、丙

+ 第二回練習卷 P.87

一 (每題 10 分, 共 30 分)

1. B、D、C、A
2. B、A、D、C
3. C、B、A、D

二 (每格 7 分, 共 70 分)

1. (1) 乙
(2) 丙
(3) 乙、甲、丙
(4) 長方形
(5) 長方形
2. (1) 丙
(2) 乙
(3) 乙、甲、丙
(4) 沒有
(5) 三角形

+ 第三回練習卷 P.89

一 (每題 10 分, 共 30 分)

1. D、B、C、A
2. B、A、D、C
3. D、C、B、A

二 (每格 9 分, 最後一格 7 分, 共 70 分)

1. (1) 1
(2) 2
(3) 1、3、2
2. (1) 乙
(2) 丙
(3) 丙、甲、乙
(4) 有
(5) 正方形

+ 第四回練習卷 P.91

一 (每題 10 分, 共 40 分)

請讓學生在課本上畫出

二 (1-3 題 8 分, 4-7 題 9 分, 共 60 分)

1. 乙
2. 丙
3. 乙、甲、丙
4. 長方形
5. 長方形
6. 有
7. 有

2-6-4 數量大小關係的表示方式


+ 第一回練習卷 P.93

一 (每題 5 分, 共 40 分)

1. <
2. <
3. <
4. >
5. >
6. <
7. <
8. <


二 (每題 12 分, 共 60 分)

1. 小乖
2. 小華
3. 小禎 > 小禎的妹妹 = 小雯
4. 小婷、小惠、小恆
5. 小毛和大毛的蘋果總數較多

 第二回練習卷 P.95

一 (1-6 題 15 分，第 7 題 10 分，共 100 分)

1. 小明
2. 海邊的水最多、
海邊 > 日月潭 > 小水池
3. 小威的糖果最多、
小威 20 顆、小威妹妹 10 顆、小婷 5 顆
4. 3 個百比較大、大 150
5. 小明
6. 小明比較大、差 5 歲
7. 小喬最高

 第三回練習卷 P.97

一 (每題 6 分，共 60 分)

1. <
2. >
3. <
4. >
5. >
6. >
7. >
8. <
9. <
10. >

二 (每題 8 分，共 40 分)

1. 6 個百比較大、大 500
2. 漢文、阿南、小偉
3. 翔翔、冬冬、花花
4. 小新
5. 大寶最大、
小毛、小恩、大寶