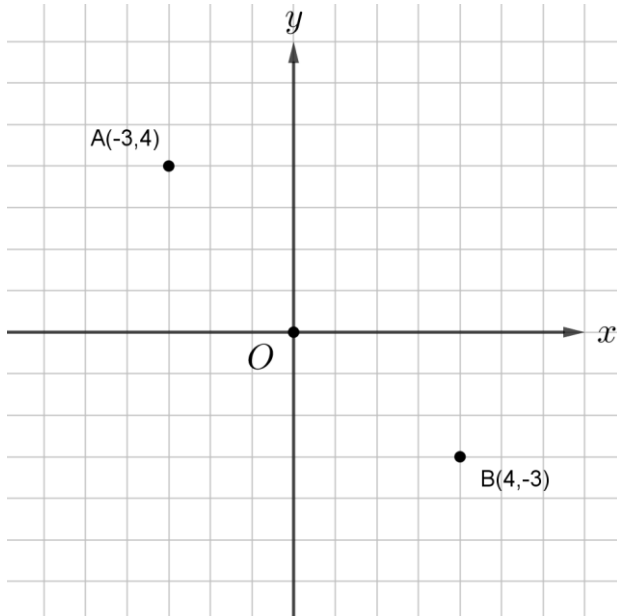


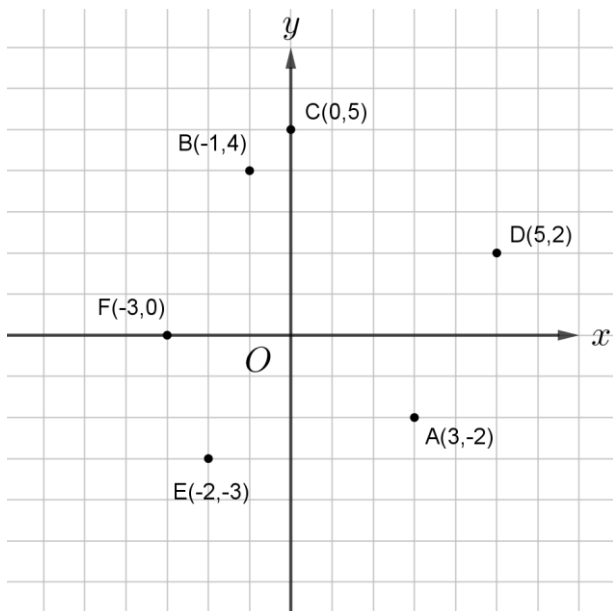
國一每周練習題(108年5月20日~5月24日)(解答)

例題一

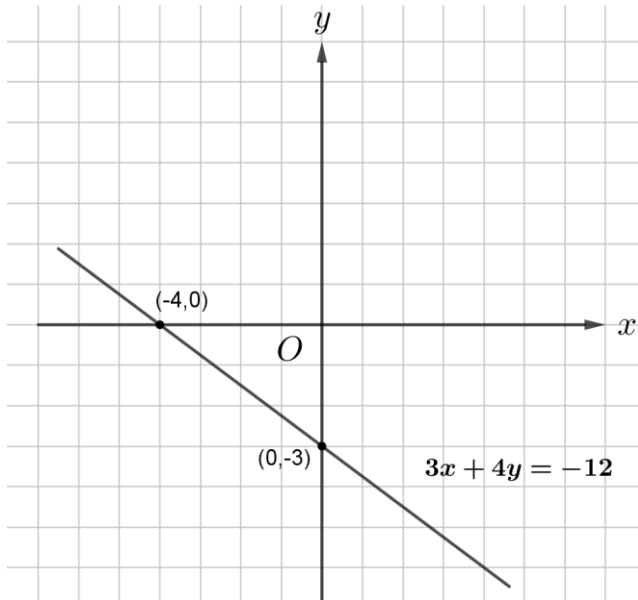


(測驗學生是否能在座標平面上標出點的位置)

練習一

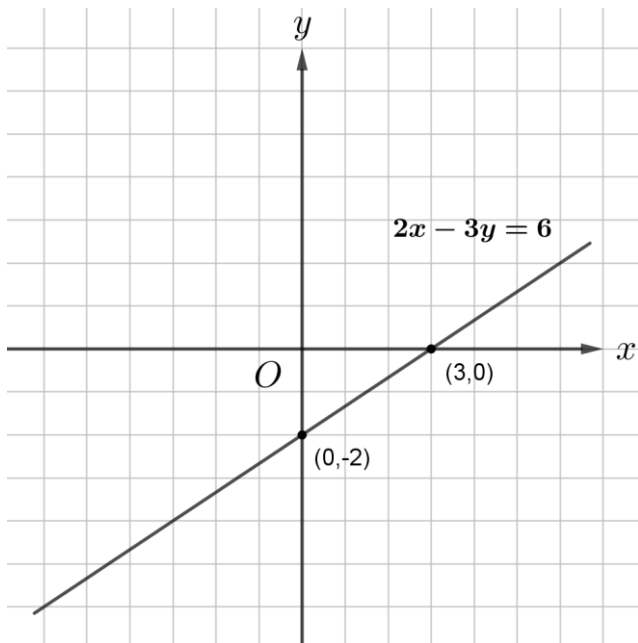


例題二



(測驗學生是否能畫出二元一次方程式的圖形)

練習二



例題三

$$x = 30, y = -0.5$$

(測驗學生是否能利用加減消去法解二元一次聯立方程式)

練習三

$$x = -10, y = 9$$

例題四

$$x = 34 \text{ (測驗學生是否了解比例式的性質)}$$

練習四

$$x = \frac{4}{3}$$

例題五 男生 2080 人、女生 1560 人 (測驗學生是否了解比例分配的意義)

練習五 蘋果 40 個、梨子 16 個

例題六 $-\frac{1}{10}$ (測驗學生是否能進行分數四則運算)

練習六 $\frac{1}{6}$