

**3-1-1**  
**練習回**

一、選擇題：(每題 4 分，共 20 分)

- ( ) 1. 「一千三百零七」可記作下面哪一個數字？ ( ①1370 ②1307 ③1073 )
- ( ) 2. 「一千五百零三」可記作下面哪一個數字？ ( ①1530 ②1503 ③1350 )
- ( ) 3. 「1019」讀作什麼？ ( ①一千一百零九 ②一千零一十九 ③一千零一十九 )
- ( ) 4. 「1003」讀作什麼？ ( ①一千三百 ②一千零三 ③一千零零三 )
- ( ) 5. 1 個千、2 個百，合起來共是多少元？ ( ①1200 ②1700 ③1600 ) 元

二、做做看看：(每格 4 分，共 24 分)

請回答問題。

1. 將 1610、1650 填在定位板上。(每格 1 分)

	千位	百位	十位	個位
(1)				
(2)				

2. 1610 和 1650 哪一個數比較大？

(                    ) > (                    )

3. 請寫出一個比 1630 大的數字

(                    )

4. 請寫出一個比 1610 大，但比 1620 小的

數字 (                    )

三、連連看：(每小題 4 分，共 16 分)

連上正確的數字：

- |    |                     |   |   |        |
|----|---------------------|---|---|--------|
| 1. | 1 個千、6 個百、5 個十，合起來  | • | • | 1650 元 |
| 2. | 1 個千、5 個百、10 個十，合起來 | • | • | 1600 元 |
| 3. | 1 個千、10 個百，合起來      | • | • | 2000 元 |

四、畫畫看看：(每小題 5 分，共 20 分)

畫 1000、100、⑩和①來表示下面的數：

1. 貓頭鷹書局有 1645 本書。

2. 美美一個月總共看了 1462 頁。

五、填充題：(每格 4 分，共 20 分)

1 箱 1000 個、1 袋 100 個、1 包 10 個。

小柔裝了 1 箱、5 袋、2 包的娃娃，還有 3 個放在房間裡；小燕裝了 1 箱、3 袋、6 包的娃娃，還有 8 個放在房間裡。請問：

1. 小柔有( )個娃娃，

讀作( )個娃娃。

2. 小燕有( )個娃娃，

讀作( )個娃娃。

3. 小柔和小燕，誰的娃娃比較多？

( )

3-1-2  
練習回

一、選擇題：(每題 4 分，共 16 分)

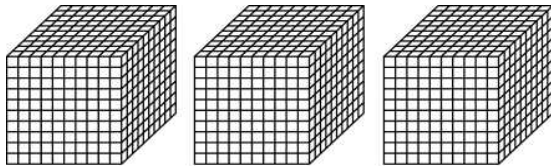
- ( ) 1. 「二千零三十<sub>カ</sub>十七<sub>シ</sub>」可<sub>レ</sub>記<sub>ス</sub>作<sub>ル</sub>什<sub>ニ</sub>麼<sub>？</sub> ( ①2370 ②2037 ③2073 )
- ( ) 2. 「3013」讀<sub>ク</sub>作<sub>ル</sub>什<sub>ニ</sub>麼<sub>？</sub> ( ①三千<sub>カ</sub>一<sub>ヒ</sub>百<sub>カ</sub>三十<sub>カ</sub> ②三千<sub>カ</sub>零<sub>カ</sub>一<sub>ヒ</sub>三十<sub>カ</sub> ③三千<sub>カ</sub>零<sub>カ</sub>一<sub>ヒ</sub>十<sub>カ</sub>三十<sub>カ</sub> )
- ( ) 3. 7204 的<sub>カ</sub>千<sub>カ</sub>位<sub>ニ</sub>是<sub>テ</sub>下<sub>ニ</sub>面<sub>ニ</sub>哪<sub>ノ</sub>一<sub>ヒ</sub>個<sub>ノ</sub>數<sub>ノ</sub>字<sub>？</sub>  
( ①7 ②2 ③0 )
- ( ) 4. 下<sub>ニ</sub>面<sub>ニ</sub>哪<sub>ノ</sub>一<sub>ヒ</sub>個<sub>ノ</sub>是<sub>テ</sub> 2 個<sub>ノ</sub>千<sub>カ</sub>和<sub>テ</sub> 4 個<sub>ノ</sub>百<sub>カ</sub>合<sub>セ</sub>起<sub>ル</sub>來<sub>ル</sub>的<sub>カ</sub>？ ( ①2400 ②2040 ③2004 )

二、比比看：(每題 3 分，共 30 分)

1. 在<sub>レ</sub>( )中<sub>ニ</sub>填<sub>キ</sub>入<sub>ル</sub> > 或<sub>ハ</sub> <
- (1) 2233 ( ) 3322
- (2) 4513 ( ) 4152
- (3) 9999 ( ) 10000
- (4) 1000 ( ) 1999
2. 把<sub>レ</sub>下<sub>ニ</sub>面<sub>ニ</sub>的<sub>カ</sub>數<sub>ヲ</sub>由<sub>大</sub>到<sub>小</sub>排<sub>列</sub>：
- (1) 4025, 2045, 5042  
( ) > ( ) > ( )
- (2) 3356, 3536, 5336  
( ) > ( ) > ( )

三、數數看：(共 24 分)

1. 在定位板上填一填：(每格 3 分，共 12 分)



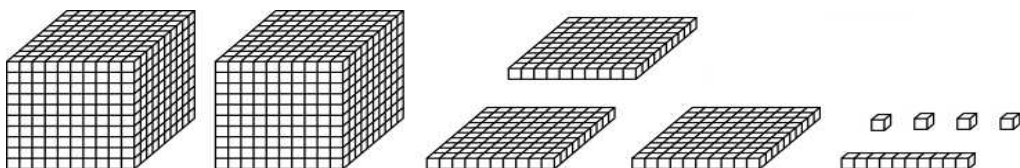
千	百	十	個

2. 數數看，共有幾元？(6 分)



( ) 元

3. 數數看，共有幾個？(6 分)



共有 ( ) 個。

四、圈圈看：(共 10 分)

叔叔買了 1 台遙控汽車 5130 元，請你用下面這些錢幫叔叔算剛好的數目交給老闆。

圈圈看：



五、用  $\boxed{1000}$  表示 1000、 $\boxed{100}$  表示 100、 $\textcircled{10}$  表示 10、 $\textcircled{1}$  表示 1，畫畫看：(每題 10 分，共 20 分)

1. 1 幅畫裡有 1642 朵花，畫出花朵的數目。



2. 1 箱迴紋針有 5361 個，畫畫看。



### 3-1 綜合回 第一回

一、選擇題：(每題4分，共16分)

( ) 1. 1258 ( ) 1528，( ) 裡應填入下面



面哪一個符號？

( ① < ② = ③ > )

( ) 2. 1356 ( ) 1365，( ) 裡應填入下面

面哪一個符號？

( ① < ② = ③ > )

( ) 3. 5 張  和 6 張  共是多少

元？ ( ①5300 ②5600 ③1200 ) 元

( ) 4. 14 張  元，共是多少元？

( ①1600 ②1300 ③1400 ) 元

二、填充題：(每格4分，共28分)

彈珠 1 箱有 1000 顆，1 袋有 100 顆，1 盒有 10 顆。

1. 弟弟已經蒐集了 1 箱、2 袋、8 盒又 3


顆的彈珠，弟弟總共有( ) 顆彈

珠。

2. 姐<sub>ㄗㄟ</sub>姐<sub>ㄗㄟ</sub>送<sub>ㄟ</sub>給<sub>ㄟ</sub>弟<sub>ㄉㄧ</sub>弟<sub>ㄉㄧ</sub> 1632 顆<sub>ㄎㄜ</sub>彈<sub>ㄊㄨㄢ</sub>珠<sub>ㄉㄨ</sub>當<sub>ㄉㄨㄢ</sub>生<sub>ㄨㄥ</sub>日<sub>ㄩ</sub>禮<sub>ㄌㄩ</sub>物<sub>ㄨㄛ</sub>， 弟<sub>ㄉㄧ</sub>弟<sub>ㄉㄧ</sub>收<sub>ㄟ</sub>到<sub>ㄟ</sub>( )箱<sub>ㄒㄩㄥ</sub>、 ( )袋<sub>ㄉㄞ</sub>、 ( )盒<sub>ㄒㄜ</sub>又<sub>ㄨㄛ</sub>( )顆<sub>ㄎㄜ</sub>彈<sub>ㄊㄨㄢ</sub>珠<sub>ㄉㄨ</sub>。
3. 弟<sub>ㄉㄧ</sub>弟<sub>ㄉㄧ</sub>把<sub>ㄅㄚ</sub> 1 箱<sub>ㄒㄩㄥ</sub>彈<sub>ㄊㄨㄢ</sub>珠<sub>ㄉㄨ</sub>放<sub>ㄟ</sub>進<sub>ㄟ</sub>倉<sub>ㄘㄨㄥ</sub>庫<sub>ㄎㄨ</sub>裡<sub>ㄌㄩ</sub>， 剩<sub>ㄟ</sub>下<sub>ㄟ</sub>的<sub>ㄉㄨ</sub> 1915 顆<sub>ㄎㄜ</sub>彈<sub>ㄊㄨㄢ</sub>珠<sub>ㄉㄨ</sub>收<sub>ㄟ</sub>在<sub>ㄟ</sub>房<sub>ㄈㄨㄥ</sub>間<sub>ㄐㄨㄢ</sub>中<sub>ㄓㄨㄥ</sub>。 倉<sub>ㄘㄨㄥ</sub>庫<sub>ㄎㄨ</sub>和<sub>ㄨㄛ</sub>房<sub>ㄈㄨㄥ</sub>間<sub>ㄐㄨㄢ</sub>哪<sub>ㄌㄩ</sub>裡<sub>ㄌㄩ</sub>的<sub>ㄉㄨ</sub>彈<sub>ㄊㄨㄢ</sub>珠<sub>ㄉㄨ</sub>比<sub>ㄅㄧ</sub>較<sub>ㄑㄩㄛ</sub>多<sub>ㄉㄨ</sub>？ ( )比<sub>ㄅㄧ</sub>較<sub>ㄑㄩㄛ</sub>多<sub>ㄉㄨ</sub>， 記<sub>ㄑㄩ</sub>作<sub>ㄑㄩ</sub> 1000( )1915。  
( 填<sub>ㄊㄩ</sub>入<sub>ㄊㄩ</sub> > 或<sub>ㄨㄛ</sub> < )

三、 數<sub>ㄉㄨ</sub>一<sub>ㄧ</sub>數<sub>ㄉㄨ</sub>： (共<sub>ㄑㄩ</sub>6分<sub>ㄈㄨㄣ</sub>)

數<sub>ㄉㄨ</sub>數<sub>ㄉㄨ</sub>看<sub>ㄑㄩ</sub>， 共<sub>ㄑㄩ</sub>有<sub>ㄑㄩ</sub>幾<sub>ㄑㄩ</sub>元<sub>ㄩㄢ</sub>？



( ) 元<sub>ㄩㄢ</sub>









四、填一填：（每格3分，共9分）

填上數字：

( ) → 3486 → 3487 → ( ) → 3489 →  
 ( )

五、連連看，把相同金額的連起來：

（每一條線3分，共18分）

<p>1.</p> 	<p>2.</p> 	<p>3.</p> 
•	•	•
•	•	•
<p>ㄅ 2100 元</p>	<p>ㄆ 1200 元</p>	<p>ㄇ 3000 元</p>
•	•	•
•	•	•
<p>A. 12 張</p> 	<p>B. 30 張</p> 	<p>C. 21 張</p> 

六、在( )中填入 $>$ 或 $<$ ：(每小題3分，共15分)

1. 4258 ( ) 3258
2. 2513 ( ) 3152
3. 1999 ( ) 2001
4. 5000 ( ) 4000
5. 6300 ( ) 3600

七、回答下面問題：(共8分)

小明有1268張紙牌。

用1000、100、10和1來表示紙牌數量。



### 3-1 綜合回 第二回

一、讀<sub>ク</sub>一<sub>ク</sub>讀<sub>ク</sub>，寫<sub>ク</sub>一<sub>ク</sub>寫<sub>ク</sub>：(每<sub>ク</sub>題<sub>ク</sub>4分<sub>ク</sub>，共<sub>ク</sub>16分<sub>ク</sub>)

1. 「五<sub>ク</sub>千<sub>ク</sub>零<sub>ク</sub>七<sub>ク</sub>十<sub>ク</sub>八<sub>ク</sub>」記<sub>ク</sub>作<sub>ク</sub>( )。
2. 「六<sub>ク</sub>千<sub>ク</sub>二<sub>ク</sub>百<sub>ク</sub>零<sub>ク</sub>一<sub>ク</sub>」記<sub>ク</sub>作<sub>ク</sub>( )。
3. 「1608」讀<sub>ク</sub>作<sub>ク</sub>( )。
4. 「1090」讀<sub>ク</sub>作<sub>ク</sub>( )。

二、填<sub>ク</sub>充<sub>ク</sub>題<sub>ク</sub>：(每<sub>ク</sub>格<sub>ク</sub>3分<sub>ク</sub>，共<sub>ク</sub>42分<sub>ク</sub>)

1. 填<sub>ク</sub>上<sub>ク</sub>數<sub>ク</sub>字<sub>ク</sub>：

1198 → 1199 → ( ) → ( ) → 1202  
→ ( ) → ( ) → 1205

2. 9000和<sub>ク</sub>1000合<sub>ク</sub>起<sub>ク</sub>來<sub>ク</sub>是<sub>ク</sub>( )。

3. 1個<sub>ク</sub>倉<sub>ク</sub>庫<sub>ク</sub>有<sub>ク</sub>1000罐<sub>ク</sub>飲<sub>ク</sub>料<sub>ク</sub>、1個<sub>ク</sub>櫃<sub>ク</sub>子<sub>ク</sub>有<sub>ク</sub>100

罐<sub>ク</sub>、1個<sub>ク</sub>箱<sub>ク</sub>子<sub>ク</sub>有<sub>ク</sub>10罐<sub>ク</sub>。大<sub>ク</sub>賣<sub>ク</sub>場<sub>ク</sub>有<sub>ク</sub>9個<sub>ク</sub>倉<sub>ク</sub>

庫<sub>ク</sub>、3個<sub>ク</sub>櫃<sub>ク</sub>子<sub>ク</sub>、7個<sub>ク</sub>箱<sub>ク</sub>子<sub>ク</sub>又<sub>ク</sub>5罐<sub>ク</sub>飲<sub>ク</sub>料<sub>ク</sub>，

一<sub>ク</sub>共<sub>ク</sub>是<sub>ク</sub>( )罐<sub>ク</sub>，讀<sub>ク</sub>作<sub>ク</sub>(

) 罐<sub>ク</sub>。

4. 1385的<sub>ク</sub>3是<sub>ク</sub>( )位<sub>ク</sub>，表<sub>ク</sub>示<sub>ク</sub>有<sub>ク</sub>( )個<sub>ク</sub>

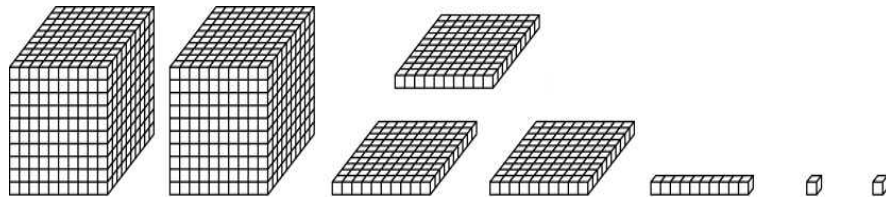
100。

5. 8735是<sup>八</sup> ( ) 個<sup>八</sup>一、 ( ) 個<sup>八</sup>十、  
 ( ) 個<sup>八</sup>百和<sup>八</sup> ( ) 個<sup>八</sup>千合<sup>八</sup>起<sup>八</sup>來<sup>八</sup>的<sup>八</sup>。

6. 1張<sup>光</sup>1000元<sup>鈔</sup>票<sup>鈔</sup>和<sup>八</sup> ( ) 張<sup>光</sup>100元<sup>鈔</sup>票<sup>鈔</sup>一<sup>鈔</sup>樣<sup>鈔</sup>多<sup>鈔</sup>。

三、數<sup>數</sup>數<sup>數</sup>看<sup>數</sup>：(共<sup>數</sup> 14 分<sup>數</sup>)

1. 數<sup>數</sup>數<sup>數</sup>看<sup>數</sup>，共<sup>數</sup>有<sup>數</sup>幾<sup>數</sup>個<sup>數</sup>？(每<sup>數</sup>格<sup>數</sup>2分<sup>數</sup>)



千 <sup>數</sup>	百 <sup>數</sup>	十 <sup>數</sup>	個 <sup>數</sup>

2. 數<sup>數</sup>數<sup>數</sup>看<sup>數</sup>，共<sup>數</sup>有<sup>數</sup>幾<sup>數</sup>元<sup>數</sup>？(6分<sup>數</sup>)



( ) 元<sup>數</sup>

四、在( )中填入  $>$  或  $<$  : (每小題 4


分, 共 20 分)

1. 1258 ( ) 1621
2. 5500 ( ) 5050
3. 3470 ( ) 3407
4. 2900 ( ) 3100
5. 7999 ( ) 8000

五、畫畫看看, 可以怎麼付錢? (共 8 分)

用  $\boxed{1000}$ 、 $\boxed{100}$ 、 $\textcircled{10}$ 、 $\textcircled{1}$  畫出下面的錢數。

6586 元



### 3-1 進階挑戰區

一、選擇題：(每題3分，共9分)



( ) 1. 有一個數比 1200 大，比 1300 小，  
這個數可能是下面哪一個？ ( ①

1314 ②1296 ③1126 )

( ) 2. 利用  $\boxed{100}$ 、 $\textcircled{10}$  和  $\textcircled{1}$  的圖表示 1492

時， $\boxed{100}$  最多可畫多少張？

( ①13 ②14 ③15 ) 張。


( ) 3. 1 張  可以換成幾張  ？


( ①2 ②3 ③4 ) 張。

二、填充題：(每格3分，共45分)

1. 6958 元加上 1 張  之後，共有 ( )  
元。




2. 2012 元拿走 1 張  之後，剩下 ( )  
元。

3. 8998 元加上 1 個  之後，共有  
( ) 元。

4. 3205 元拿走 1 個  之後，剩下  
( ) 元。

5. 17 個一、16 個十、12 個百和 5 個千合起來是 ( )。

6. 25 個百、37 個十和 57 個一合起來是 ( )，讀作 ( )。

7. 合作社的阿姨今天共收了 1 張 、5 張 、7 個 、50 個 、13 個  和 32 個 ，也就 ( ) 元。

8. 1 個魔法村有 1000 個門、1 個魔法屋有 100 個門、1 個房間有 10 個門，1 個門可以裝 1 個門把。回答問題：





(1) 潘彼得帶了 1536 個門把去魔法村，他帶的門把可以裝好 ( ) 個魔法村、( ) 個魔法屋、( ) 個房間，還剩下 ( ) 個門把。

(2) 精靈們又帶來一些門把，分別裝好了 1 個魔法村、3 個魔法屋、5 個房間，還剩下 3 個門把，精靈們總共帶了 ( ) 個門把。





四、畫畫看看：(每小題 8 分，共 16 分)

◎ 1000 表示 、100 表示 ， $\textcircled{10}$  表示 ， $\textcircled{1}$  表示 。用 1000、100、 $\textcircled{10}$ 、 $\textcircled{1}$  畫出

下面的錢數。

1. 1 臺幣 8245 元的冷氣機。

Blank dashed box for drawing the amount 8245.

2. 1 臺幣 2035 元的開飲機。

Blank dashed box for drawing the amount 2035.