

溫故知新 (p.75)

一、想一想，填入正確的數字

1. 54

2. 8, 24

3. 5, 3, 15

二、乘法算式填填看

1. 32            2. 35

3. 30            4. 12

5. 27            6. 24

7. 4              8. 5

三、讀一讀，畫○並寫出式子算算看

○○ ○○ ○○

$2 \times 3 = 6$ ，答：6人

3-3-1 二、三位數直式乘法 (p.76)

☞ 教學活動 1：計算題

答：(1)80 (2)420

☞ 教學活動 1：重新布題

$50 \times 8 = (400)$

答：400 顆

☞ 教學活動 2：計算題

答：(1)600 (2)3000

☞ 教學活動 2：重新布題

$200 \times 9 = (1800)$

答：1800 元

☞ 教學活動 3：計算題

答：(1)228 (2)486 (3)140 (4)441

☞ 教學活動 3：重新布題

$37 \times 3 = (111)$

答：111 元

☞ 教學活動 4：計算題

答：(1)2368 (2)1178 (3)1517 (4)3195

☞ 教學活動 4：重新布題

$38 \times 24 = (912)$

答：912 元

☞ 教學活動 5：計算題

答：(1)2118 (2)3258 (3)1140 (4)1872

☞ 教學活動 5：重新布題

$629 \times 5 = (3145)$

答：3145 元

➤ 例題講解 1：換你試試看

$2 \times 25 = (50)$

答：50 顆

➤ 例題講解 2：換你試試看

$5 \times 256 = (1280)$

答：1280 顆

➤ 例題講解 3：換你試試看

$32 \times 40 = (1280)$

答：1280 元

➤ 例題講解 4：換你試試看

$60 \times 30 = (1800)$

答：1800 元

3-3-1 練習回 (p.87)

一、選擇題

1. ②

2. ①





3. ②

4. ②





5. ①

## 二、連連看

1.

- (1) 10 的 13 倍  ㄅ. 0  
(2) 0 的 15 倍  ㄆ. 130  
(3)  $20 \times 4$   ㄇ. 80  
(4)  $30 \times 3$   ㄉ. 90

2.

- (1)  $700 \times 4$   ㄅ. 2500  
(2)  $500 \times 5$   ㄆ. 1800  
(3)  $800 \times 2$   ㄇ. 2800  
(4)  $600 \times 3$   ㄉ. 1600

## 三、選出正確的答案

- ( )
- (✓)
- ( )
- (✓)
- ( )

## 四、應用題，寫出直式算算看

(請自行列出直式)

1.  $8 \times 24 = (192)$

答：192 顆

2.  $5 \times 123 = (615)$

答：615 瓶

3.  $24 \times 15 = (360)$

答：360 元

4.  $3 \times 300 = (900)$

答：900 圈

5.  $190 \times 7 = (1330)$

答：1330 元

6.  $258 \times 9 = (2322)$

答：2322 元

7.  $24 \times 17 = (408)$

答：408 組

8.  $2 \times 18 = (36)$

答：36 枝

## 3-3-2 乘法兩步驟計算 (p.91)

☞ 教學活動 1：重新布題

$15 \times 8 = 120$

$120 + 5 = (125)$

答：125 朵

☞ 教學活動 2：重新布題

$6 + 2 = 8$

$23 \times 8 = (184)$

答：184 元

☞ 教學活動 3：重新布題

$42 \times 6 = 252$

$252 - 10 = (242)$

答：242 元

☞ 教學活動 4：重新布題

$6 - 4 = 2$

$32 \times 2 = (64)$

答：64 元

☞ 教學活動 5：重新布題

$9 \times 8 = 72$

$72 \times 4 = (288)$

答：288 顆

➤ 例題講解 1：換你試試看

$56 \times 3 = (168)$

$200 - 168 = (32)$

答：共 168 元，找 32 元

➤ 例題講解 2：換你試試看

$15 + 23 = 38$

$38 \times 3 = (114)$

答：114 元

### 3-3-2 練習回 (p.97)

#### 一、選擇題

1. ②
2. ①
3. ②
4. ①

#### 二、填填看

1.  $13 \times 3 = 39$   
 $100 - 39 = 61$   
答：61 元
2.  $215 \times 4 = 860$   
 $860 + 50 = 910$   
答：910 公分

#### 三、填充題

1. 434
2. 623
3. 2765

#### 四、應用題

1.  $23 + 27 = 50$   
 $50 \times 6 = (300)$   
答：300 元
2.  $55 \times 9 = 495$   
 $500 - 495 = (5)$   
答：5 元
3.  $190 \times 8 = 1520$   
 $1520 + 99 = (1619)$   
答：1619 元
4.  $12 + 6 = 18$   
 $18 \times 48 = (864)$   
答：864 朵
5.  $30 \times 85 = 2550$   
 $2550 - 127 = (2423)$   
答：2423 顆

### 3-3 綜合回 第一回 (p.101)

#### 一、選擇題

1. ①
2. ①
3. ②

#### 二、寫出直式算算看 (請自行列出直式)

1. 64
2. 252
3. 765
4. 864
5. 570
6. 2720
7. 875
8. 4077

#### 三、連連看

- |                   |   |         |
|-------------------|---|---------|
| 1. $307 \times 4$ | ↘ | ㄉ. 4100 |
| 2. $820 \times 5$ | ↗ | ㄎ. 1228 |
| 3. $649 \times 2$ | ↘ | ㄏ. 1464 |
| 4. $488 \times 3$ | ↗ | ㄏ. 1298 |

#### 四、應用題

1.  $48 \times 5 = (240)$   
答：240 個
2.  $250 \times 7 = 1750$   
 $1257 + 1750 = 3007$   
 $3007 > 2999$   
答：足夠
3.  $452 \times 6 = (2712)$   
答：2712 張
4.  $24 \times 15 = 360$   
 $360 - 18 = (342)$   
答：342 瓶
5.  $80 \times 45 = (3600)$   
答：3600 顆









### 3-3 綜合回 第二回 (p.105)

#### 一、選擇題











- ③
- ②
- ③

#### 二、將正確答案連起來

1.

- (1) 17 的 5 倍   ㄅ.  $17 \times 9$   
(2)  $9 \times 17$    ㄆ.  $17 \times 5$   
(3)  $0 \times 4$    ㄏ.  $6 \times 310$   
(4)  $31 \times 60$    ㄏ.  $187 \times 0$

2.

- (1) 155 的 2 倍   ㄅ. 486  
(2) 6 個 111   ㄆ. 310  
(3) 9 的 54 倍   ㄏ. 666  
(4)  $12 \times 23$    ㄏ. 276  
(5) 73 個 13   ㄆ. 949

#### 三、寫成直式算算看 (請自行列出直式)

- 894
- 624
- 735
- 1248
- 286
- 1140
- 4740
- 480

#### 四、應用題

- $99 \times 50 = (4950)$   
答：4950 元
- $79 \times 90 = (7110)$   
答：7110 元

$$3. 5 + 2 = 7$$

$$18 \times 7 = (126)$$

答：126 顆

$$4. 40 \times 4 = 160$$

$$160 + 35 = (195)$$

答：195 瓶

$$5. 7 - 4 = 3$$

$$45 \times 3 = (135)$$









答：135 元

### 3-3 進階挑戰區 (p.109)

#### 一、選擇題

- ②
- ②
- ①
- ③
- ①

#### 二、連連看

1.  $65 \times 22$    ㄅ.  $81 \times 20$   
2.  $36 \times 45$    ㄆ.  $55 \times 28$   
3.  $44 \times 35$    ㄏ.  $70 \times 20$   
4.  $56 \times 25$    ㄏ.  $26 \times 55$

#### 三、完成下列直式紀錄

- ( 5 )  $\times$  ( 2 )  
( 40 )  $\times$  ( 2 )  
( 5 )  $\times$  ( 20 )  
( 40 )  $\times$  ( 50 )  
( 990 )

#### 四、在 ( ) 中填入 $>$ 、 $<$ 或 $=$

- =
- $>$
- =
- =
- $>$

## 五、應用題

1.  $22 - 2 = 20$

$20 + 80 = 100$

$100 \times 5 = ( 500 )$

答：500 元

2.  $200 \times 2 = 400$

$400 \times 2 = ( 800 )$

答：800 元

3.  $101 \times 5 = 505$

答：505 個

4.  $15 + 20 = 35$

$35 + 15 = 50$

$50 \times 10 = ( 500 )$

答：500 元

5.  $17 \times 2 = 34$

$34 - 5 = ( 29 )$

答：29 片

6.  $390 \times 3 = 1170$

$140 \times 2 = 280$

$1170 + 280 = ( 1450 )$

答：1450 元

7.  $15 + 20 = 35$

$35 \times 9 = ( 315 )$

答：315 元

8.  $17 \times 9 = 153$

$153 + 11 = ( 164 )$

答：164 元