

2-4-1  
練習回

一、選擇題：(每題 4 分，共 12 分)

- ( ) 1. 1 件外套比 1 件裙子貴 80 元，  
1 件裙子 290 元，買 1 件外套  
要幾元？ ( ① 210  
② 298 ③ 370 ) 元。
- ( ) 2. 妹妹有 285 元，姐姐比妹妹多  
37 元，姐姐有多少元？  
( ① 322 ② 248 ③ 297 ) 元。
- ( ) 3. 媽媽煮了一些水餃，全家吃了  
263 顆，還剩下 15 顆沒吃。  
媽媽一共煮了幾顆水餃？  
( ① 278 ② 258 ③ 248 ) 顆。

二、計算題，用直式計算看：(每題 5 分，  
共 30 分)

1.  $643 + 47$

2.  $754 + 25$

3.  $289 + 50$

4.  $126 + 294$

5.  $422 + 381$

6.  $552 + 127$

三、連連看：(每線 3 分，共 12 分)

把答案相同的連起來：

- |                |   |   |        |
|----------------|---|---|--------|
| 1. $289 + 502$ | ● | ● | ㄅ. 791 |
| 2. $334 + 529$ | ● | ● | ㄆ. 486 |
| 3. $129 + 357$ | ● | ● | ㄇ. 863 |
| 4. $527 + 165$ | ● | ● | ㄏ. 692 |

四、應用題：（每題 7 分，共 56 分）

1. 農夫昨天摘了 127 個蜜棗，農夫今天摘了 281 個，二天共摘了幾個蜜棗？

2. 老師送給學生 275 支鉛筆，還剩下 127 支，老師原有幾支鉛筆？

3. 1 盒蛋捲賣 275 元，1 盒巧克力比 1 盒蛋捲貴 80 元，1 盒巧克力賣幾元？

4. 快樂課輔班的閱讀角落有 328 本故事繪本和 150 本科學探索，二種書合起來共有幾本？

5. 操場上原有一些人，其中 32 人進教室後，操場上還剩下 408 人，操場上原有多少人？

6. 哥哥昨天看了 185 頁安徒生童話故事，今天繼續看了 137 頁，二天共看了幾頁？

7. 香香麵包店做蛋糕用去 437 顆雞蛋，  
做麵包用去 102 顆，香香麵包店共用  
去幾顆雞蛋？

8. 佳琪有 382 張小熊貼紙，哥哥又給他  
118 張，現在佳琪有幾張小熊貼紙？

2-4-2  
練習回

一、選擇題：(每題 5 分，共 10 分)

( ) 1. 姑姑想買 1 條 929 元的絲巾，但是她只有 760 元，她還需要多少元才夠？ ( ① 189 ② 179 ③ 169 ) 元。

( ) 2. 姐姐採了一些草莓，再採 68 顆，就有 335 顆，姐姐採了多少顆草莓？ ( ① 267 ② 308 ③ 403 ) 顆。

二、計算題，用直式計算看：(每題 6 分，共 36 分)

1.  $568 - 277$

2.  $587 - 179$

3.  $775 - 392$

4.  $526 - 94$

5.  $318 - 107$

6.  $100 - 53$

三、連連看：(每線 3 分，共 12 分)

把答案相同的連起來：

- |                |   |   |        |
|----------------|---|---|--------|
| 1. $167 - 23$  | ● | ● | ㄅ. 242 |
| 2. $289 - 47$  | ● | ● | ㄆ. 144 |
| 3. $358 - 124$ | ● | ● | ㄇ. 234 |
| 4. $585 - 482$ | ● | ● | ㄏ. 103 |



四、應用題：（每題 7 分，共 42 分）

1. 果園裡有 827 個蜜棗，農夫今天摘了 281 個，果園裡還剩下幾個蜜棗？
2. 老師原有 275 支鉛筆，送給學生 127 支後，還剩下幾支鉛筆？
3. 1 盒蛋捲賣 275 元，1 盒巧克力比 1 盒蛋捲便宜 150 元，1 盒巧克力賣幾元？

4. 快樂課輔班的閱讀角落有 605 本故事繪本和 482 本科學探索，二種書相差幾本？

5. 操場上原有 100 個人，一些小朋友進教室後，還有 32 個人在操場上，進教室的小朋友有幾個？

6. 安徒生童話故事有 963 頁，哥哥昨天看了 250 頁，還剩下幾頁沒看？

2-4-3  
練習回

一、計算題，用直式計算，並驗算：  
(每題 6 分，共 30 分)

1.  $643 + 47$                       驗算：

2.  $587 - 179$                       驗算：

3.  $775 - 392$                       驗算：

4.  $126 + 294$                       驗算：

5.  $422 + 381$                       驗算：

二、在( )中填入 $>$ 、 $<$ 或 $=$ ：(每格 4 分，共 16 分)

1.  $399 + 210$  ( )  $620 - 19$
2.  $700 - 190$  ( )  $650 - 141$
3.  $625 + 185$  ( )  $545 + 265$
4.  $880 + 103$  ( )  $993 - 30$

三、應用題：(每題 9 分，共 54 分)

1. 小晴身上有 365 元，買蔥油餅花去 18 元，媽媽又給他 55 元，小晴現在有多少元？

2. 心算大賽共有女生 163 個人、男生 236 人和老師 57 個人共同參與，請問心算大賽共有多少個人參與？

3. 魚<sub>口</sub>塢<sub>裏</sub>有<sub>了</sub> 255 隻<sub>魚</sub>大<sub>肚</sub>魚<sub>口</sub>、 374 隻<sub>魚</sub>吳<sub>郭</sub>魚<sub>口</sub>， 爸<sub>爸</sub>撈<sub>走</sub>了<sub>了</sub> 80 隻<sub>魚</sub>魚<sub>口</sub>， 魚<sub>口</sub>塢<sub>裏</sub>還<sub>剩</sub>下<sub>了</sub>幾<sub>隻</sub>魚<sub>口</sub>？
4. 圖<sub>書</sub>館<sub>裏</sub>科<sub>學</sub>類<sub>的</sub>書<sub>籍</sub>有<sub>了</sub> 395 本<sub>書</sub>、 文<sub>學</sub>類<sub>的</sub>書<sub>籍</sub> 208 本<sub>書</sub>， 還<sub>有</sub>各<sub>類</sub>期<sub>刊</sub> 103 本<sub>書</sub>， 請<sub>問</sub>圖<sub>書</sub>館<sub>共</sub>有<sub>了</sub>幾<sub>本</sub>書<sub>？</sub>
5. 文<sub>具</sub>店<sub>裏</sub>原<sub>有</sub> 590 支<sub>筆</sub>， 上<sub>週</sub>賣<sub>掉</sub> 107 支<sub>筆</sub>， 這<sub>週</sub>又<sub>賣</sub>掉<sub>了</sub> 35 支<sub>筆</sub>， 現<sub>在</sub>還<sub>剩</sub>下<sub>了</sub>幾<sub>枝</sub>筆<sub>？</sub>
6. 商<sub>店</sub>裏<sub>有</sub> 154 瓶<sub>果</sub>汁<sub>，</sub> 上<sub>午</sub>賣<sub>掉</sub> 62 瓶<sub>，</sub> 下<sub>午</sub>又<sub>進</sub>貨<sub>了</sub> 24 瓶<sub>，</sub> 現<sub>在</sub>商<sub>店</sub>裏<sub>還</sub>有<sub>了</sub>幾<sub>瓶</sub>果<sub>汁</sub>？

2-4 綜合回  
第一回

一、計算題，用直式計算看：  
(每題 5 分，共 40 分)

1.  $403 + 95$

2.  $516 + 385$

3.  $245 + 236$

驗算：

4.  $298 + 331$

驗算：

5.  $345 - 113$

$$6. 100 - 49$$

$$7. 605 - 124$$

驗算：

$$8. 729 - 355$$

驗算：

二、應用題：（每題 7 分，共 35 分）

1. 用直式記錄下來，並驗算。

老師有 234 顆糖，送給小朋友 109 顆

後，還剩下幾顆糖？

2. 用直式記錄下來。

比 699 多 101 的數字是多少？





3. 1 本貼紙簿可以收集 350 張貼紙，東東 買了 2 本貼紙簿，他最多可以收集幾張貼紙？

4. 小兵 有 520 元，他買了 1 包 60 元的餅乾和 1 組 90 元的文具後，請問他還剩下多少元？

5. 佳佳 花了 785 元買了 1 件 173 元洋裝後，又買了 1 雙 250 元的鞋子，請問佳佳 還剩下多少元？



三、看圖做做看：(每題 5 分，共 25 分)

外套	毛衣	西裝	洋裝
			
342 元	457 元	570 元	265 元

- 1 件外套和 1 件毛衣相差幾元？
- 買 1 件洋裝和 1 套西裝共要幾元？
- 佳佳有 580 元，買了 1 件洋裝後，還剩下多少元？
- 君君原有 286 元，媽媽又給他 237 元，他現在的錢足夠買 1 套西裝嗎？
- 這四種服飾中，最貴的與最便宜的相差多少元？

2-4 綜合回  
第二回

一、用直式計算看：(每題 6 分，共 42 分)

1.  $472 + 86$

2.  $584 - 65$

3.  $147 + 299$

4.  $658 - 352$

5.  $264 + 156$

6.  $100 - 18$

7.  $287 + 113$

二、應出題：(每題 8 分，共 48 分)

1. 哥哥有 309 元，姐姐有 217 元，二人合起來有多少元？

2. 小香原有 100 元，買故事書用去一些錢後，還剩下 26 元，買故事書用去多少元？

3. 中秋烤肉活動，原有 167 位男生和 154 位女生報名，後來有 17 位取消，請問共有幾位報名？

4. 小偉折了 128 隻紙鶴，明美比小偉多 83 隻，請問明美折了幾隻紙鶴？
5. 家驊上個月存了一些錢，這個月又存了 226 元，家驊現在有 469 元，請問家驊上個月存了多少元？
6. 故事書 1 本 299 元，資料夾的價錢比故事書便宜 35 元，顏料組又比資料夾便宜 18 元，請問顏料組多少元？

三、比大小，填入  $>$ 、 $=$ 、 $<$ ：(每格 2 分，共 10 分)

1.  $605 - 124$  (            )  $400 + 57$
2.  $100 - 24$  (            )  $729 - 635$
3.  $347 - 124$  (            )  $342 - 138$
4.  $381 + 245$  (            )  $298 + 331$
5.  $654 - 140$  (            )  $500 + 57$

2-4  
進階挑戰區

一、連<sub>カ</sub>連<sub>カ</sub>看<sub>テ</sub>：(每<sub>ク</sub>線<sub>テ</sub> 4 分<sub>テ</sub>，共<sub>ク</sub> 20 分<sub>テ</sub>)

將<sub>シ</sub>答<sub>ヲ</sub>案<sub>ヲ</sub>相<sub>ト</sub>同<sub>ク</sub>的<sub>カ</sub>算<sub>ス</sub>式<sub>ヲ</sub>連<sub>カ</sub>起<sub>シ</sub>來<sub>カ</sub>。

- |              |   |   |             |
|--------------|---|---|-------------|
| 1. $95+556$  | ● | ● | ウ. $526-13$ |
| 2. $438+75$  | ● | ● | エ. $826-18$ |
| 3. $276+59$  | ● | ● | カ. $660-9$  |
| 4. $408+400$ | ● | ● | キ. $904-52$ |
| 5. $700+152$ | ● | ● | ク. $398-63$ |

二、用<sub>シ</sub>直<sub>ス</sub>式<sub>ヲ</sub>算<sub>ス</sub>算<sub>ス</sub>看<sub>テ</sub>，並<sub>ニ</sub>驗<sub>テ</sub>算<sub>ス</sub>：(每<sub>ク</sub>題<sub>ヲ</sub> 6 分<sub>テ</sub>，共<sub>ク</sub> 30 分<sub>テ</sub>)

1.  $438+62$
2.  $179+621$
3.  $351-260$
4.  $573-34$

5.  $96+282$

三、做做看看：(每題 6 分，共 18 分)

1. 大同 存了 494 元，他想要買 1 本 627 元的字典，他的錢不夠幾元？

答：不夠( )元

2. 哥哥有 307 元，妹妹有 258 元，2 個人的錢合起來可不可以買 1 個 550 元的玩偶？

答：

3. 小美 撲滿裡全部是 270 元，如果小美 買了 1 個 65 元的小熊玩偶，她還剩下多少元？

答：剩下( )元

四、應用題：（每題 8 分，共 32 分）

1. 張小明 這一次定期考查國語、數學和生活分的總分是 268 分，他的國語考了 92 分，數學考了 85 分，請問他的生活考了幾分？
2. 博幼課輔班一年級有 265 個人，二年級比一年級多 78 個人，請問一、二年級合起來共有幾個人？
3. 大同書局 七月份賣了 146 本書、八月份賣了 125 本、九月份賣了 96 本書，這三個月共賣出幾本書？
4. 電影院前有 285 個人在排隊，小嘉 排在第 24 個，排在小嘉 後面的有幾個？