

2-5-1 練習回

一、選擇題：(每題 2 分，共 10 分)

- () 1. 3 個 2 和 7 個 2 合起來是幾個 2? (① 14 ② 10 ③ 20)
- () 2. 美勞課每人要用 2 張色紙，1 組有 6 人，1 組共要準備幾張色紙才夠?
(① 6 ② 8 ③ 12) 張
- () 3. 桌上有 8 個盤子，每個盤子都放 4 顆蘋果，全部盤子裡共幾顆蘋果?
(① $8 \times 4 = 32$ ② $4 \times 8 = 32$
③ $8 + 4 = 12$)
- () 4. 1 個豆莢有 4 顆豆子，8 個豆莢有幾顆豆子?
(① 32 ② 34 ③ 36) 顆
- () 5. 1 籠包子有 8 個，買 7 籠包子，共買了幾個包子?
(① 15 ② 54 ③ 56) 個

二、連_カ連_カ看_看：(每_只題_ち 2 分_分，共_共 10 分_分)

1. 把_の意_思一_一樣_の的_の連_カ起_起來_來：

(1) 2的 _の 5倍 _の 。	•	ㄟ 5有 _有 3個 _個 。
(2) 5有 _有 5個 _個 。	•	ㄨ 2+2+2+2+2
(3) 2× 4	•	ㄒ 5 + 5
(4) 5× 2	•	ㄑ 5× 5
(5) 5 + 5 + 5	•	ㄨ 2有 _有 4個 _個 。

三、做_做做_做看_看：(每_只小_小題_ち 4 分_分，共_共 20 分_分)

1. 每_只張_張圖_圖畫_畫紙_紙賣_賣 4 元_元。

(1) 3 張_張圖_圖畫_畫紙_紙賣_賣幾_幾元_元? () 元_元

(2) 4 張_張圖_圖畫_畫紙_紙賣_賣幾_幾元_元? () 元_元

(3) 5 張_張圖_圖畫_畫紙_紙賣_賣幾_幾元_元? () 元_元

2. 每_只隻_隻章_章魚_魚有_有 8 隻_隻腕_腕足_足。

(1) 5 隻_隻章_章魚_魚共_共有_有幾_幾隻_隻腕_腕足_足?

加_加法_法算_算式_式：

乘_乘法_法算_算式_式：

() 隻_隻

(2) 再加 1 隻章魚，共有幾隻腕足？

加法算式：

乘法算式：

() 隻

四、把作法記下來：(每題 5 分，共 10 分)

1. 1 隻鳥有 2 隻腳，9 隻鳥共有幾隻腳？

() 隻

2. 1 輛車可坐 5 人，6 輛車可坐幾人？

() 人

五、填充題：(每格 5 分，共 20 分)

1. (1) 1 輛電車有 8 節車廂，5 輛電車共有

() 節車廂。

(2) 再加 4 輛是 () 輛電車，共有

() 節車廂。

2. 4×8 比 4×3 多 () 個 4。

六、應用題：(每題 6 分，共 30 分)

1. 阿惠每天喝 2 瓶鮮奶，8 天共喝了幾瓶鮮奶？

2. 小華整理故事書，每次拿 4 本，小華拿了 5 次，共拿了多少本故事書？

3. 1 包色紙有 5 張，8 包共有幾張色紙？

4. 1 包花片有 8 個，妹妹只有 8 包，共有幾個花片？

5. 隊伍一排有 8 位小朋友，4 排共有幾位小朋友？

2-5-2
練習回

一、選擇題：(每題 2 分，共 10 分)

() 1. 「 $9 \times 5 = 45$ 」這個算式中，被乘數是比乘數多或少？ (① 9 ② 5 ③ 45)

() 2. $9 \times 7 = 63$ ， $7 \times \square = 63$ ， \square 中的數字是比 9 多或少？
(① 63 ② 9 ③ 7)

() 3. 4 個 7 比 10 個 7 少幾個 7？
(① 8 ② 7 ③ 6) 個。

() 4. 6×8 和 6×4 相差幾個 6？
(① 4 ② 5 ③ 6) 個。

() 5. 1 包糖果有 7 顆，9 包糖果共有幾顆糖果？ (① 70 ② 63
③ 36) 顆。

二、計算題：(每題 2 分，共 12 分)

1. $3 \times 4 = (\quad)$

2. $9 \times 3 = (\quad)$

3. $6 \times 5 = (\quad)$

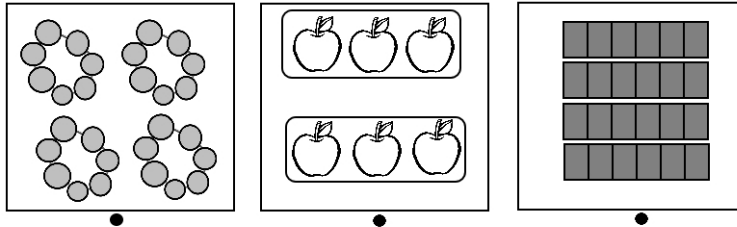
4. $7 \times 5 = (\quad)$

5. $9 \times 8 = (\quad)$

6. $7 \times 9 = (\quad)$

三、連_カ連_カ看_カ：(每_カ線_カ 2 分_カ，共_カ 12 分_カ)

把_カ意_カ思_カ一_カ樣_カ的_カ連_カ起_カ來_カ：



6 的_カ4 倍_カ 2 個_カ3 4 個_カ7

6X4 7X4 3X2

四、比_カ一_カ比_カ，在_カ() 裡_カ填_カ入_カ>、< 或_カ=：(每_カ

小_カ題_カ 2 分_カ，共_カ 8 分_カ)

1. $7 \times 3 (\quad) 23$

2. $36 (\quad) 6 \times 6$

3. $80 (\quad) 9 \times 9$

4. $9 \times 8 (\quad) 70$

五、填充題：(每格 2 分，共 28 分)

1. 1 盒壽司有 7 個。

(1) 小美買 4 盒，是 () 個 7，共有 () 個壽司。


(2) 小貞買 6 盒，是 () 個 7，共有 () 個壽司。

(3) 小貞比小美多了 () 個 7，共多了 () 個壽司。

2. (1) 1 支關東煮有 3 個丸子，8 支關東煮共有 () 個丸子。

(2) 再加 1 支是 () 支關東煮，共有 () 個丸子。

3. 下圖是 () 的 () 倍，共有 () 個圓形。



4. 9 的 4 倍和 9 的 2 倍合起來是 9 的 () 倍，也就 ()。

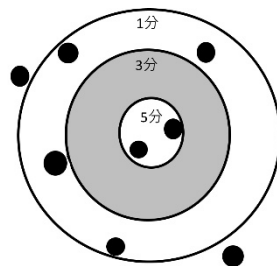
六、應用題：(每題 6 分，共 30 分)

- 1 盒花生糖有 6 個，媽媽買了 4 盒，共買了多少個花生糖？
- 遊樂場的小火車 1 節長 9 公尺，7 節共長多少公尺？
- 1 盒毛巾有 6 條，櫃子裡有 8 盒，共有幾條毛巾？
- 安安 1 次可以搬 3 個箱子，9 次共可以搬幾個箱子？
- 1 盒雞精有 7 罐，爸爸買了 5 盒，共有幾罐雞精？

2-5-3 練習回

一、填填看看：(每格1分，共14分)

1. 小魯在沙包比賽中，丟擲了8個沙包，請你數一數小魯在本沙包比賽中，得到幾分？



(1). 數一數在每個區域的沙包數量，完成表格。

得分	5分	3分	1分	0分
沙包個數				

(2). 算算看看，小魯得到幾分？

$$5 \times (\quad) = (\quad), \text{ 共 } (\quad) \text{ 分。}$$

$$3 \times (\quad) = (\quad), \text{ 共 } (\quad) \text{ 分。}$$

$$1 \times (\quad) = (\quad), \text{ 共 } (\quad) \text{ 分。}$$

$$0 \times (\quad) = (\quad), \text{ 共 } (\quad) \text{ 分。}$$

小魯的總分是()分。

二、回想乘法表，想想看看答案相同的算式是哪一個？(每格1分，共14分)

(1) 哪二個數相乘答案是63？

$$(\quad) \times (\quad) = 63$$

$$(\quad) \times (\quad) = 63$$

(2) 哪二個數相乘答案是56？

$$(\quad) \times (\quad) = 56$$

$$(\quad) \times (\quad) = 56$$

(3) 哪₃二₂個₂數₂相₁乘₁答₂案₂是₁ 16?

$$(\quad) \times (\quad) = 16$$

$$(\quad) \times (\quad) = 16$$

$$(\quad) \times (\quad) = 16$$

三₂、 填₂填₂看₂：(每₁格₂ 2 分₂， 共₂ 14 分₂)

1. $1+1+1+1+1+1+1= 1 \times (\quad) = (\quad)$

2. 池₁塘₂裡₂有₂ 0 隻₂青₂蛙₂， 共₂有₂(\quad)張₂嘴₂，

有₂(\quad)個₂眼₂睛₂， 有₂(\quad)條₂腿₂。

3. 8 個₂ 10 減₂少₂ 5 個₂ 10 是₁(\quad)個₂ 10， 共₂是₁

(\quad)。

四₂、 寫₁出₁乘₁法₂算₂式₁， 做₂做₂看₂：(每₁小₂題₂ 4

分₂， 共₂ 28 分₂)

1. 一₁副₂眼₂鏡₂有₂ 2 片₂鏡₂片₂。

(1) 9 副₂眼₂鏡₂共₂有₂幾₂片₂鏡₂片₂?

(\quad) 片₂

(2) 10 副₂眼₂鏡₂共₂有₂幾₂片₂鏡₂片₂?

(\quad) 片₂

(3) 7 副₂眼₂鏡₂共₂有₂幾₂片₂鏡₂片₂?

(\quad) 片₂

2. 模型小火车的 1 節車廂長 10 公分。

(1) 3 節車廂共長多少公分？

() 公分

(2) 4 節車廂共長多少公分？

() 公分

3. 校慶活動時，每一個班級有 3 頂遮陽帳。

(1) 9 個班級共幾頂遮陽帳？

() 頂

(2) 7 個班級共幾頂遮陽帳？

() 頂

五、寫出乘法算式，並用直式記錄下來。(每題 6 分，共 30 分)

1. 1 包牙刷有 3 支，4 包牙刷共幾支？

2. 6 個氣球綁成 1 串，7 串共幾個氣球？

3. 桌上有 3 個花瓶，每個花瓶都插著 6 朵花，全部有幾朵花？

4. 1 隻章魚有 8 隻腕足，10 隻章魚共有幾隻腕足？

5. 1 串衛生紙有 8 包，5 串共有幾包衛生紙？

2-5 綜合回 第一回

一、先完成九九乘法表，再回答問題。

(乘法表每格 1 分，每格 2 分，共 35 分)

×	1	2	3	4	5	6	7	8	9
1	1	2	3	4	5		7	8	9
2	2	4	6		10	12	14	16	18
3	3	6		12	15	18		24	
4	4	8	12	16		24	28	32	36
5	5	10	15	20	25	30	35	40	45
6	6	12	18	24	30	36	42		54
7	7			28	35			56	63
8		16	24		40	48	56	64	72
9	9	18		36	45	54	63	72	

1. 8×6 比 8×3 多 () 個 8，也就 是 多 ()。

2. 比 7×9 少 2 個 7 的 是 () \times ()。

3. 和 4×3 答 案 相 同 的 算 式 有：

() \times ()、() \times ()、() \times ()。

二、比一比，在 () 裡 填 入 $>$ 、 $<$ 或 $=$ ：
(每小題 3 分，共 12 分)

1. 8×2 () 14

2. 2×9 () 20

3. 4×8 () 8×4

4. 40 () 5×8

三、計算題：(每格 2 分，共 10 分)

1. $4 \times 6 = 8 \times (\quad)$

2. $5 \times 6 = 6 \times (\quad)$

3. $2 \times 8 = 4 \times (\quad)$

4. $8 \times 5 = 5 \times (\quad)$

5. $3 \times 9 = 9 \times (\quad)$

四、圈出正確的算式，並寫出答案。(圈選 3 分，答案 3 分，共 18 分)

1. 大隊接力二年級有 9 組，1 組有 4 個小朋友，二年級共有幾個小朋友參加大隊接力？

$9 + 4$

9×4

4×9

答：(\quad) 個

2. 1 個箱子需要 2 人來搬，4 個箱子共需要幾人來搬？

$4 + 4$

4×2

$2 + 2 + 2 + 2$

答：(\quad) 人

3. 麵包店每個麵包特價 5 元，小玉買了 9 個，共要付幾元？

5×9

$9 + 5$

9×5

答：(\quad) 元

五、寫出乘法算式，並算出答案：(每題 5 分，共 25 分)

- 1 隻手有 5 根手指頭，6 隻手共有幾根手指頭？
- 1 輛小巴士限乘 8 人，客運公司有 9 輛小巴士，最多可坐幾人？
- 1 串香蕉有 10 根，6 串香蕉共有幾根？
- 1 張貼紙上有 7 個星星，5 張貼紙上共有幾個星星？
- 1 輛三輪車有 3 個輪子，6 輛三輪車共有幾個輪子？

2-5 綜合回
第二回

一、依照指示填寫。 (每格 2 分，共 12 分)

1. 1 盒雞蛋有 8 顆。

幾盒雞蛋	1	3	7	9
幾顆雞蛋	8			

2. 1 串香蕉有 7 根。

幾串香蕉	1	2	5	8
幾根香蕉	7			

二、在()中填入 $+$ 或 \times ，讓算式正確。(每格 2 分，共 12 分)

1. $2(\quad)6=12$

2. $10(\quad)10=20$

3. $5(\quad)5=25$

4. $10(\quad)5=15$

5. $10(\quad)8=80$

6. $7(\quad)7=49$

三、用乘法算式紀錄下來，並填寫上答案。(每題 5 分，共 30 分)

1. 1 個花盆種 3 棵仙人掌。

(1) 4 個花盆共種幾棵仙人掌?

() 棵

(2) 5 個花盆共種幾棵仙人掌?

() 棵

(3) 6 個花盆共種幾棵仙人掌?

() 棵

2. 1 束氣球有 9 顆。

(1) 3 束共有幾顆氣球？

() 顆

(2) 5 束共有幾顆氣球？

() 顆

(3) 7 束共有幾顆氣球？

() 顆

四、先算出答案，再用直式記錄下來。

(每題 3 分，共 18 分)

1. $5 \times 6 = (\quad)$

	十位	個位
×		
<hr/>		

4. $6 \times 8 = (\quad)$

	十位	個位
×		
<hr/>		

2. $9 \times 4 = (\quad)$

	十位	個位
×		
<hr/>		

5. $2 \times 8 = (\quad)$

	十位	個位
×		
<hr/>		

3. $7 \times 3 = (\quad)$

	十位	個位
×		
<hr/>		

6. $3 \times 8 = (\quad)$

	十位	個位
×		
<hr/>		

五、應用題：（每題 7 分，共 28 分）

1. 1 把直尺 9 元，嘉嘉 買了 3 把尺，付給老闆 50 元，可以找回多少元？
2. 1 包色紙有 10 張，姐姐買了 3 包，妹妹買了 4 包，2 人一共買了幾張色紙？
3. 1 盒水蜜桃有 6 顆，爸爸買了 6 盒，送給朋友 4 盒後，還剩下幾顆水蜜桃？
4. 1 支鉛筆 5 元，弟弟買了 5 支，妹妹買了 3 支，二個人共要付幾元？

2-5
進階挑戰區

一、填_空填_空看_看：(每_格格_格 3 分_分，共_共 15 分_分)

1. $5+5+5+5+5+5=5\times(\quad)=(\quad)$
2. 7×9 比_比 7×2 多_多 (\quad) 個_個 7。
3. $4\times 3=(\quad)\times 4$
4. $(\quad)\times 9=9\times 8$

二、圈_圈圈_圈看_看。(每_每個_個算_算式_式 1 分_分，共_共 30 分_分)

1. 把_把答_答案_案比_比 30 大_大的_的算_算式_式 圈_圈起_起來_來。

5×9	2×3	6×4	1×9	3×7	9×5
0×8	7×9	7×0	4×8	10×5	6×8
9×9	0×3	1×5	10×4	6×2	3×9

2. 圈_圈出_出答_答案_案是_是 32 的_的算_算式_式。

6×4	4×8	6×2	8×3
3×8	6×3	2×9	4×6
3×6	8×4	4×5	9×2

三、連_連連_連看_看，意_意思_思相_相同_同的_的連_連起_起來_來。

(每_每線_線 3 分_分，共_共 15 分_分)

- | | |
|------------------|--|
| 1. 7×9 ● | ● ㄅ. $6+6+6$ |
| 2. 6×3 ● | ● ㄆ. 7 的 _的 9 倍 _倍 |
| 3. 5×9 ● | ● ㄇ. 5 個 _個 9 |
| 4. 3×6 ● | ● ㄏ. 3 的 _的 6 倍 _倍 |
| 5. 9×5 ● | ● ㄏ. 5 的 _的 9 倍 _倍 |

四、應用題：（每題 8 分，共 40 分）

1. 小狗汪汪重 5 公斤，巧巧的體重是汪汪的 6 倍，巧巧有幾公斤重？
2. 1 支冰淇淋 9 元，妹妹帶了 60 元，買 5 支冰淇淋後，還剩下多少元？
3. 10 個氣球綁成 1 束，哥哥訂了 7 束布置展覽會的會場，不小心破了 5 個，還剩下幾個？
4. 一輛計程車可以坐 5 個人，9 輛計程車最多可以坐幾個人？
5. 一條緞帶長 4 公分，小美把 10 條緞帶接排起來，一共長多少公分？