

1-2-1 練習回

一、看圖填填看：

(每個答案 2 分，共 32 分)

例		10 顆拿走 (1) 顆，
:		剩下 (9) 顆蘋果。
1.		10 顆拿走 () 顆，
		剩下 () 顆蘋果。
2.		10 顆拿走 () 顆，
		剩下 () 顆蘋果。
3.		10 顆拿走 () 顆，
		剩下 () 顆蘋果。
4.		10 顆拿走 () 顆，
		剩下 () 顆蘋果。
5.		10 顆拿走 () 顆，
		剩下 () 顆蘋果。
6.		10 顆拿走 () 顆，
		剩下 () 顆蘋果。
7.		10 顆拿走 () 顆，
		剩下 () 顆蘋果。
8.		10 顆拿走 () 顆，
		剩下 () 顆蘋果。

二、 加^し起^こ來^き是^は 10 :

(每^ひ個^ご答^{こた}案^あ 2 分^{ふん} , 共^{くわ} 18 分^{ふん})

1. $8 + () = 10$

2. $7 + () = 10$

3. $6 + () = 10$

4. $5 + () = 10$

5. $4 + () = 10$

6. $3 + () = 10$

7. $2 + () = 10$















8. $1 + () = 10$

9. $9 + () = 10$

三、 數^{かず}一^{いっ}數^{かず} , 寫^か上^う數^{かず}字^じ 後^{のち}再^{また}將^し左^{ひだり}右^{みぎ}兩^{りょう}邊^へ合^あ起^こ來^き是^は 10 的^の數^{かず}連^つ起^こ來^き :

起^こ來^き是^は 10 的^の數^{かず}連^つ起^こ來^き :

(每^ひ個^ご數^{かず}字^じ 1 分^{ふん} , 每^ひ條^{じょう}線^{せん} 3 分^{ふん} , 共^{くわ} 30 分^{ふん})

例 ^{れい} : 	(5)	—		(5)
1. 	()	•	勺 	()
2. 	()	•	夕 	()
3. 	()	•	冂 	()
4. 	()	•	匚 	()
5. 	()	•	勹 	()
6. 	()	•	去 	()

四、列出算式並計算出答案：（每題 4 分，
算式及答案各 2 分，共 20 分）

1. 鉛筆盒裡有 5 枝鉛筆和 5 枝原子筆，鉛筆盒裡共有幾枝筆？

算式：

鉛筆盒裡共有（ ）枝筆。

2. 冰箱裡有 7 杯紅茶和 3 杯綠茶，冰箱裡共有幾杯飲料？

算式：

冰箱裡共有（ ）杯飲料。

3. 弟弟吃了 4 塊蜂蜜蛋糕和 6 塊起士蛋糕，弟弟共吃了幾塊蛋糕？

算式：

弟弟共吃了（ ）塊蛋糕。

4. 樹上原本有 10 隻小鳥，飛走了 2 隻小鳥後，請問現在樹上還有幾隻小鳥？

算式：

現在樹上還有（ ）隻小鳥。

5. 盒子裡原有 10 個蛋塔，吃掉 9 個蛋塔後，請問現在盒子裡還剩下幾個蛋塔？


算式：

現在盒子裡還剩下（ ）個蛋塔。

1-2-2 練習回

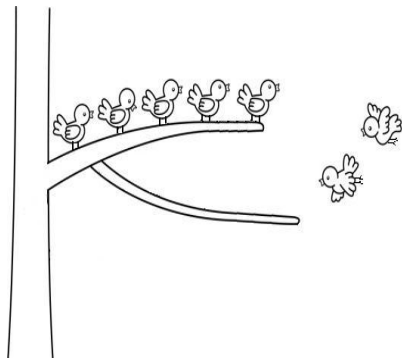
一、看圖填填看：(每格 3 分，共 18 分)

1.



左邊框框裡有
() 匹馬，右邊
框框裡有 () 匹
馬，左邊框框裡和右邊
邊框框裡總共有
() 匹馬。

2.



樹枝上原本有 ()
隻小鳥，後來又飛來
() 隻小鳥，最後
樹枝上共有 ()
隻小鳥。

二、依照題意，畫○表示數量，並列出正確
的算式，算出答案：

(每個答案 3 分，共 30 分)

1. 小明 原本有 3 枝鉛筆，再買 2 枝鉛筆後，
請問 小明 共有幾枝鉛筆？

	畫○表示
原本有幾枝鉛筆	
再買幾枝鉛筆	
總共有幾枝鉛筆	

算式：()

答： 小明 總共有 () 枝鉛筆。

2. 小華有 6 張黃色紙和 5 張紅色紙，請

問小華總共有幾張紙？

	畫○表示
幾張黃色紙	
幾張紅色紙	
總共有幾張紙	

算式：()

答：小華總共有 () 張紙

三、計算題，請在()中填上正確答案：

(每題 4 分，共 40 分)

1. $3 + 5 = ()$ 2. $7 + 0 = ()$

3. $9 + 6 = ()$ 4. $11 + 3 = ()$

5. $7 + 8 = ()$ 6. $5 + 7 = ()$

7. $13 + 4 = ()$ 8. $17 + 0 = ()$

9. $18 + 2 = ()$ 10. $10 + 7 = ()$

四、依照題意，列出正確的算式，再算出答案：
（每題 4 分，算式及答案各 2 分，共 12 分）

1. 魚池裡原本有 10 條魚，再放入 3 條魚後，請問魚池裡共有幾條魚？
算式：

答案：

2. 姊姊吃了 11 顆梅子，媽媽吃了 6 顆梅子，請問姊姊與媽媽共吃了幾顆梅子？
算式：

答案：


3. 操場上原有 6 位學生，又來了 6 位學生，請問現在操場上共有多少位學生？
算式：

答案：

1-2-3
練習回

一、看圖回答问题：（每格2分，共8分）

1.



荷葉上原來有9隻


青蛙，跳走了

() 隻，現在荷

葉上還剩下 ()

隻青蛙。

2.



樹枝上原來有6隻

小鳥，飛走了

() 隻，現在樹

枝上還剩下 ()

隻小鳥。

二、算算看看：（每格4分，共40分）

1. $8 - 5 = ()$ 2. $11 - 4 = ()$

3. $18 - 6 = ()$ 4. $20 - 5 = ()$

5. $13 - 0 = ()$ 6. $16 - 5 = ()$

7. $10 - 6 = ()$ 8. $4 + 6 = ()$

9. $6 + 9 = ()$ 10. $8 + 7 = ()$

三、依照提示填入正確的答：

(每格 3 分，共 27 分)

1. 小明 原有 12 枝鉛筆，給弟弟 3 枝鉛筆後，請問小明 剩下幾枝鉛筆？

(1) 小明 原本有多少枝鉛筆？ ()

枝。

(2) 給弟弟 3 枝鉛筆後，該如何表示小明

剩下幾枝鉛筆，在正確的 中打 \checkmark ：

$12 + 3 = ()$ $12 - 3 = ()$

(3) 小明 剩下幾枝鉛筆？ () 枝。

2. 丁丁 有 9 顆巧克力，拉拉 比丁丁 多 4 顆巧克力，請問拉拉 有多少顆巧克力？

(1) 丁丁 有幾顆巧克力 \rightarrow () 顆。

(2) 拉拉 比丁丁 多 4 顆巧克力，請問要如何

表示拉拉 有多少顆巧克力，在正確的

的 中打 \checkmark ：

$9 + 4 = ()$ $9 - 4 = ()$

(3) 拉拉 有 () 顆巧克力。

3. 海綿寶寶有 20 個美味蟹堡，派大星的美味蟹堡比海綿寶寶少 7 個，請問派大星有幾個美味蟹堡？

(1) 海綿寶寶有幾個美味蟹堡 → () 個。

(2) 派大星的美味蟹堡比海綿寶寶少 7 個，請問要如何表示派大星有幾個美味蟹堡，在正確的 打 ：

$20 + 7$ 個

$20 - 7$ 個

(3) 派大星有 () 個美味蟹堡。

四、應用題：(每題 5 分，列式 2 分、答案 3 分，共 25 分)

1. 松鼠原本有 19 顆松果，吃了 7 顆松果後，還剩下幾顆松果？

列式：

答案：

2. 小華有 15 本書，小明有 7 本書，請問小華與小明相差幾本書？

列式：

答案：

3. 奇_レ奇_レ有_一 11 枝_ニ筆_ク， 而_ル且_ニ奇_レ奇_レ比_ク蒂_ク蒂_ク多_ク 5
枝_ニ筆_ク， 請_ク問_ク蒂_ク蒂_ク有_一幾_ニ枝_ニ筆_ク?

列_カ式_ハ：

答_ケ案_ハ：

4. 老_カ皮_ク有_一 16 顆_ニ彈_ク珠_ク， 阿_ヤ寶_ク比_ク老_カ皮_ク少_ク 8 顆_ニ
彈_ク珠_ク， 請_ク問_ク阿_ヤ寶_ク有_一幾_ニ顆_ニ彈_ク珠_ク?

列_カ式_ハ：

答_ケ案_ハ：

5. 小_ト博_ク有_一 10 顆_ニ巧_ク克_ク力_カ， 阿_ヤ幼_ニ比_ク小_ト博_ク多_ク 3
顆_ニ巧_ク克_ク力_カ， 請_ク問_ク阿_ヤ幼_ニ有_一幾_ニ顆_ニ巧_ク克_ク力_カ?


列_カ式_ハ：


答_ケ案_ハ：

1-2 綜合回
第一回



一、填填看看：(每格 3 分，共 12 分)



1. 數一數，並回答問題：





(1)  有 () 顆。

(2)  有 () 顆。

(3)  與  哪一種的數量多？

請圈出來。( 、 )

(4)  與  相差幾顆？() 顆。

二、填填看看：(每格 4 分，共 8 分)

1. 桌上有 7 顆蘋果，再多 () 顆蘋果就會有 10 顆蘋果。

2. 冰箱有 10 瓶養樂多，喝掉 () 瓶會剩下 4 瓶養樂多。

三、根據提示寫出正確答案：

(每格 3 分，共 18 分)

1. $4 + 3 = 7$

2. $10 - 7 = 3$

(1) $7 - 3 = ()$

(1) $10 - 3 = ()$

(2) $7 - 4 = ()$

(2) $7 + 3 = ()$

(3) $3 + 4 = ()$

(3) $3 + 7 = ()$

四、算算看看：（每格 3 分，共 30 分）

1. $8 + () = 10$
2. $10 - () = 4$
3. $1 + 9 = ()$
4. $20 - 7 = ()$
5. $14 - 8 = ()$
6. $17 - 5 = ()$
7. $10 - 8 = ()$
8. $9 - 3 = ()$
9. $7 + 9 = ()$
10. $11 + 9 = ()$

五、應用題：

（每題 4 分，列式、答案各 2 分，共 32 分）

1. 魚缸裡原本有 5 條魚，再放進 2 條魚，現在魚缸裡共有幾條魚？
列式：
答案：
2. 教室裡有 7 個男生和 9 個女生，請問教室裡總共有幾個人？
列式：
答案：
3. 以琳原本有 9 朵花，給靖雯 4 朵花後，請問以琳還剩下幾朵花？
列式：
答案：

4. 冰箱裡有 5 顆蘋果和 3 顆柳丁，請問蘋果比柳丁多幾顆？

列式：

答案：

5. 桌上有 11 張紅色紙，有 7 張黃色紙，請問紅色紙與黃色紙相差幾張？

列式：

答案：

6. 奇奇有 17 條橡皮筋，而且奇奇比蒂蒂多 4 條橡皮筋，請問蒂蒂有幾條橡皮筋？

列式：

答案：

7. 老皮有 13 顆彈珠，阿寶比老皮少 8 顆彈珠，請問阿寶有幾顆彈珠？

列式：

答案：









8. 小博有 13 顆巧克力，阿幼比小博多 7 顆巧克力，請問阿幼有幾顆巧克力？

列式：






答案：

1-2 綜合回
第二回

一、將^上排^圖形^和下^排圖^形合^起來^是 10 的^連起^來：(每^條線³分[，]共¹²分⁾

1. 	2. 	3. 	4. 
●	●	●	●
●	●	●	●
ㄅ 	ㄆ 	ㄏ 	ㄏ 

二、填^填看^看：(每^格 4 分[，]共¹²分⁾

	1.  有 ^() 把 [，]  有 ^() 把 [。]
	2.  比 ^() 多 ^() 把 [。]

三、根^據提^示寫^出正^確答^案：

(每^格 3 分[，]共¹⁸分⁾

- | | |
|--------------------|--------------------|
| 1. $4 + 6 = 10$ | 2. $10 - 2 = 8$ |
| (1) $10 - 4 = ()$ | (1) $10 - 8 = ()$ |
| (2) $10 - 6 = ()$ | (2) $2 + 8 = ()$ |

(3) $6 + 4 = (\quad)$ (3) $8 + 2 = (\quad)$

四、算算看看：(每格 3 分，共 30 分)

1. $9 + (\quad) = 10$ 2. $10 - (\quad) = 5$

3. $3 + 9 = (\quad)$ 4. $20 - 5 = (\quad)$

5. $14 - 6 = (\quad)$ 6. $18 - 4 = (\quad)$

7. $15 - 8 = (\quad)$ 8. $17 - 3 = (\quad)$

9. $5 + 8 = (\quad)$ 10. $14 + 6 = (\quad)$

五、應用題：

(每題 4 分，列式、答案各 2 分，共 28 分)

1. 阿甘 買了 7 瓶果汁，喝掉 2 瓶後，還剩下幾瓶果汁？

列式：

答案：

2. 花園裡原本有 9 隻蝴蝶，後來又飛來了 9 隻，現在花園裡總共有幾隻蝴蝶？

列式：

答案：

3. 王老先 生了 7 隻雞和 3 隻小豬，請問王老先 共養了幾隻動物？

列式：

答 案 ：

4. 冰 箱 裡 有 17 顆 蘋 果 和 3 顆 柳 丁 ， 請 問 蘋 果 和 柳 丁 的 數 量 相 差 幾 顆 ？

列 式 ：

答 案 ：

5. 媽 媽 給 弟 弟 8 根 棒 棒 糖 ， 哥 哥 比 弟 弟 多 拿 到 6 根 ， 請 問 哥 哥 拿 到 幾 根 棒 棒 糖 ？

列 式 ：

答 案 ：

6. 樹 上 有 20 隻 松 鼠 ， 地 上 的 松 鼠 比 樹 上 的 松 鼠 少 7 隻 ， 請 問 地 上 有 多 少 隻 松 鼠 ？

列 式 ：

答 案 ：

7. 老 皮 有 13 顆 彈 珠 ， 而 且 老 皮 比 阿 寶 少 7 顆 彈 珠 ， 請 問 阿 寶 有 幾 顆 彈 珠 ？

列 式 ：

答 案 ：

1-2
進階挑戰區

一、想一想，算一算：（每題 4 分，共 40 分）

- | | |
|-----------------------------|------------------------------|
| 1. $2 + 8 + 5 = (\quad)$ | 2. $8 + 7 + 3 = (\quad)$ |
| 3. $9 + 4 + 1 = (\quad)$ | 4. $13 - 3 - 5 = (\quad)$ |
| 5. $10 - 8 + 5 = (\quad)$ | 6. $10 - 2 - 3 = (\quad)$ |
| 7. $20 - 8 - 5 = (\quad)$ | 8. $20 - 2 - 5 = (\quad)$ |
| 9. $9 + 6 + 5 = (\quad)$ | 10. $12 + 8 - 5 = (\quad)$ |

二、依照提示填入正確答案：

（每格 3 分，共 36 分）

1. 芒果和楊桃共有 8 顆。
- (1) 其中芒果有 2 顆，那麼楊桃有幾顆？
- 算式： (\quad) 。
- 答：楊桃有 (\quad) 顆。
- (2) 芒果和楊桃相差幾顆？
- 算式： (\quad) 。
- 答：芒果和楊桃相差 (\quad) 顆。
2. 小明 有 11 張貼紙，小天 有 9 張貼紙。
- (1) 2 人共有多少張貼紙？
- 算式： (\quad) 。
- 答：兩人共有 (\quad) 張貼紙。

(2) 小天給小明 6 張貼紙後，小天還有幾張貼紙？

算式： (\quad) 。

答：小天還有 (\quad) 張貼紙。

(3) 小明現在有幾張貼紙？

算式： (\quad) 。

答：小明現在有 (\quad) 張貼紙。

(4) 小天給小明 6 張貼紙後，小天和小明相差幾張貼紙？

算式： (\quad) 。

答：小天和小明相差 (\quad) 張貼紙。

三、應用題：

(每題 4 分，列式及答各 2 分，共 24 分)

1. 海綿寶寶現在有 9 張獎狀，請問海綿寶寶還要蒐集幾張獎狀，才能夠有 20 張獎狀？

列式：

答：

2. 華軒每天跑 6 公里，請問華軒 3 天總共跑了幾公里？

列式：

答：

3. 籃子裡有 7 顆蘋果和 3 顆柳丁，小芬 吃掉了 1 顆蘋果，籃子裡總共剩下多少顆水果？

列式：

答案：

4. 阿甘 今年 6 歲，阿達 比 阿甘 大 5 歲，阿 比 阿達 大 3 歲，請問 阿 今年幾歲？

列式：

答案：

5. 孟庭 有 13 張卡片，華軒 比 孟庭 少 6 張，玫君 比 華軒 少 2 張，請問 玫君 有幾張卡片？

列式：

答案：

6. 阿拉蕾 有 20 顆彈珠，而且 阿拉蕾 比 大雄 多 4 顆彈珠，後來 大雄 和 胖虎 玩彈珠輸了 8 顆，請問 大雄 最後剩下幾顆彈珠？

列式：

答案：