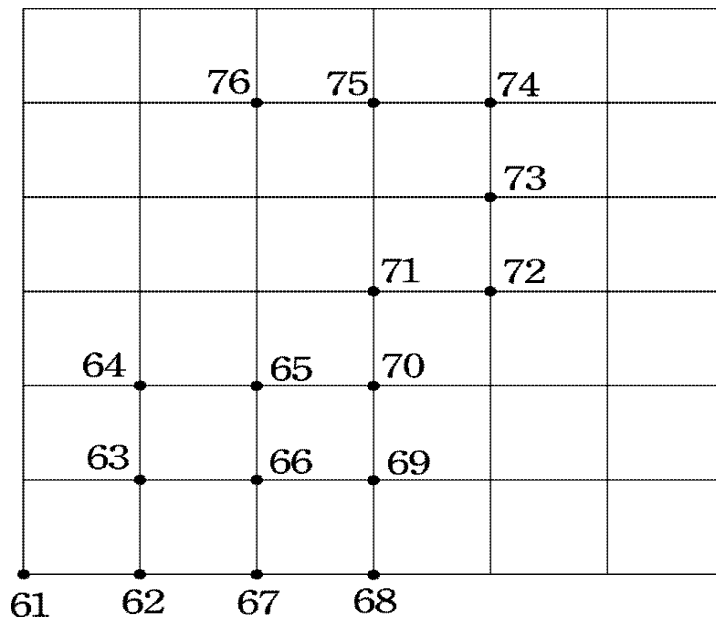


1-3-1  
練習回

一、選擇題：（每題4分，共20分）


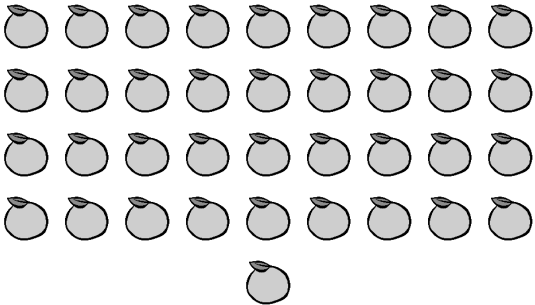


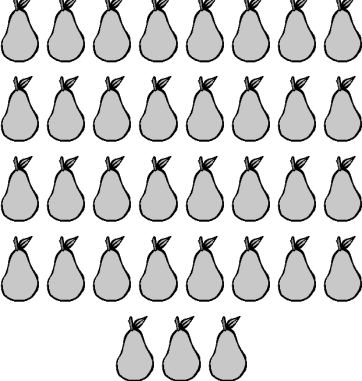
- ( ) 1. 「50」讀作什麼？  
 ( ①五 ②五十一 ③五零 )
- ( ) 2. 32 → 34 → □ → 38 → 40，□中應填入哪一個數？ ( ①35 ②36 ③37 )
- ( ) 3. 10 → 20 → 30 → □ → 50，□中應填入哪一個數？ ( ①31 ②35 ③40 )
- ( ) 4. 「七十有五」記作多少？  
 ( ①70 ②75 ③705 )
- ( ) 5. 20 → 25 → 30 → 35 → □，□中應填入哪一個數？ ( ①40 ②36 ③39 )

二、將數字由61按照順序連到76：（5分）




三、把三個數及相同數的數用線連起來：

(每題 4 分 共 20 分)

	.	28
	.	22
	.	46
	.	37
	.	35

四、圈出看：(5分)

圈出 40 顆蘋果。



五、填寫看：(每格 5 分，共 50 分)

1. 在空格裡填上正確的數：

88 → ( ) → 86 → 85 → ( )。

2. 在空格裡填上正確的數：

58 → ( ) → 54 → 52 → ( )。

3. 在空格裡填上正確的數：

100 → ( ) → 90 → 85 → ( ) →  
( )。

4. 「87」讀作 ( )；「九十二」記作

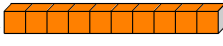


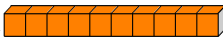


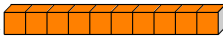

( )。

5. 小韻和小涵排隊買車票，小韻排在第 19

個，小涵排在第 20 個，請問誰會先買到車票？ ( )

## 1-3-2 練習回

### 一、選擇題：（每題4分，共16分）

- ( ) 1. 3 條  和 幾 個  合 起 來 一 樣 多 ？ ( ① 30 ② 33 ③ 35 ) 個
- ( ) 2. 80 個  合 起 來 和 幾 條  一 樣 多 ？ ( ① 7 ② 8 ③ 9 ) 條
- ( ) 3. 3 條  、 8 個  合 起 來 和 幾 個  一 樣 多 ？ ( ① 35 ② 83 ③ 38 ) 個
- ( ) 4. 8 條  、 7 個  合 起 來 和 幾 個  一 樣 多 ？ ( ① 87 ② 78 ③ 88 ) 個

### 二、填充題：（每格4分，共48分）

1. 水果攤上有 很 多 柳 丁 ， 回 答 下 面 問 題 ：

(1) 把 10 顆 柳 丁 裝 成 1 袋 ， 25 顆 柳 丁 最 多 可 裝 成 ( ) 袋 ， 還 剩 下 ( ) 顆 ； 「 25 」 表 示 有 ( ) 個 10 和 ( ) 個 1 。

(2) 把 10 顆 柳 丁 裝 成 1 袋 ， 37 顆 柳 丁 最 多 可 裝 成 ( ) 袋 ， 還 剩 下 ( ) 顆 。

2. (1) 3 個 10 和 7 個 1 合 起 來 的 數 。

(2) 7 個 10 和 3 個 1 合 起 來 的 數 。

十 位	個 位

十 位	個 位

(3) 8 個 10 和 3 個 1 合起來的數。

十位	個位

三、將數字大的打√：(每題 4 分，共 8 分)

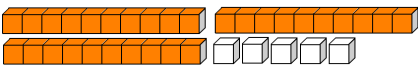
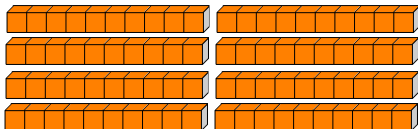
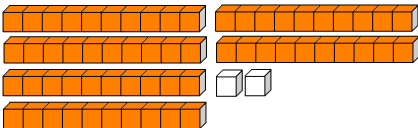
1.

46	49

2.

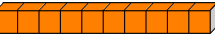



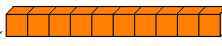
69	72

四、連連看：(每條線 4 分，共 28 分)

十位數字為 4 個位數字為 5	•	•	76
5 個 10 和 4 個 1 合起來	•	•	67
十位數字為 7 個位數字為 6	•	•	45
6 個 10 和 7 個 1 合起來	•	•	54
	•	•	62
	•	•	35
	•	•	80

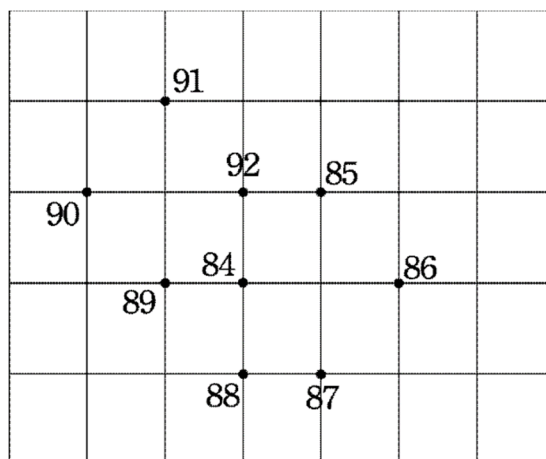
1-3 綜合回  
第一回

一、選擇題：(每題 4 分，共 20 分)

- (      ) 1.  $42 \rightarrow 44 \rightarrow \square \rightarrow 48 \rightarrow 50$ ， $\square$  中應填入哪一個數？ ( ① 45 ② 46 ③ 47 )
- (      ) 2.  $60 \rightarrow 55 \rightarrow \square \rightarrow 45 \rightarrow 40$ ， $\square$  中應填入哪一個數？ ( ① 49 ② 50 ③ 51 )
- (      ) 3. 5 條  和 6 個 ，合起來和幾個  一樣多？ ( ① 55 ② 56 ③ 57 個 )
- (      ) 4. 70 個  合起來和幾條  一樣多？ ( ① 7 ② 8 ③ 9 條 )
- (      ) 5. 「82」讀作：  
( ① 八十二 ② 八十零二 ③ 八零二 )

二、按照順序連接看：(每條線 1 分，共 8 分)

1. 把數字由 84 按照順序連到 92：



三、填充題：(每個空格 4 分，共 48 分)

1. 「五十六」寫作 ( )。

2. 在空格裡填上正確的數：

(1) 40 → 50 → ( ) → 70 → ( ) → ( )

(2) 64 → 62 → ( ) → 58 → 56

(3) 25 → 30 → ( ) → 40 → 45

3. 老皮跟阿寶去看電影，買電影票時有好多人排在排隊。老皮前面有 42 人，則老皮是排在第 ( ) 個。阿寶排在第 38 個，則阿寶前面排了 ( ) 個人。

4. 「87」的十位數字是 ( )，個位數字是 ( )。

5. 在定位板上寫出 3 個 10 和 4 個 1 合起來的數。

十位	個位

四、將數字大的打√：(每題 2 分，共 4 分)

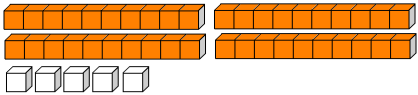
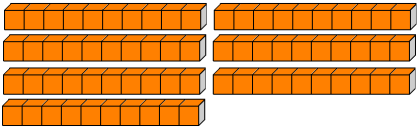
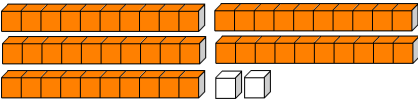
1.

36	42

2.

66	69

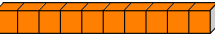



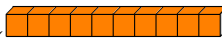
五、連々連々看々：（毎々條々線々 4 分々， 共々 20 分々）

<p>十位数字为 6 个位数字为 4</p>	•	• 46
<p>4 个 10 和 6 个 1 合起来</p>	•	• 64
	•	• 52
	•	• 45
	•	• 70



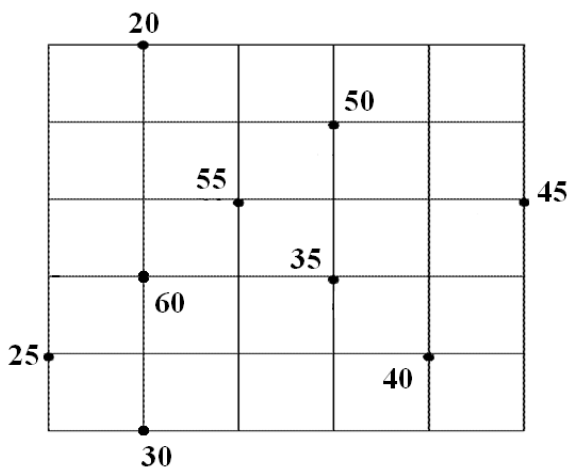
## 1-3 綜合回 第二回

一、選擇題：（每題 4 分，共 20 分）

- ( ) 1.  $98 \rightarrow 96 \rightarrow \square \rightarrow 92 \rightarrow 90$ ， $\square$  中應填入哪一個數？（① 93 ② 94 ③ 95）
- ( ) 2.  $50 \rightarrow 60 \rightarrow \square \rightarrow 80 \rightarrow 90$ ， $\square$  中應填入哪一個數？（① 65 ② 70 ③ 75）
- ( ) 3. 9 條  和 6 個 ，合起來和幾個  一樣多？（① 69 ② 96 ③ 66）個
- ( ) 4. 50 個  合起來和幾條  一樣多？（① 4 ② 5 ③ 6）條
- ( ) 5. 「七十<sub>二</sub>八<sub>七</sub>」寫作：  
（① 708 ② 78 ③ 87）

二、按照順序連接看：（每條線 1 分，共 8 分）

1. 把數字由 20 按照 5 個 1 數的順序連到 60：



三、填充題：(每個空格 4 分，共 48 分)

1. 「九十九」寫作 ( )。

2. 在空格裡填上正確的數：

(1) 85 → 80 → ( ) → 70 → ( ) → ( )

(2) 48 → 50 → ( ) → 54 → 56

(3) 60 → 50 → ( ) → 30 → 20

3. 阿拉蕾 跟 小少爺 去遊樂園，有好多人排在排隊。阿拉蕾前面有 25 人，則阿拉蕾是排在第 ( ) 個。小少爺排在第 48 個，則小少爺前面排了 ( ) 個人。

4. 「56」是由 ( ) 個 10 和 ( ) 個 1 所組成的。

5. 在定位板上寫出 4 個 10 和 7 個 1 合起來的數。

十位	個位

四、將數字大小的打√：(每題 2 分，共 4 分)

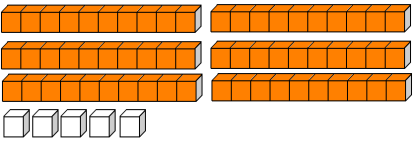
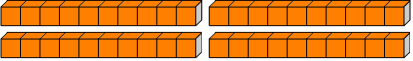
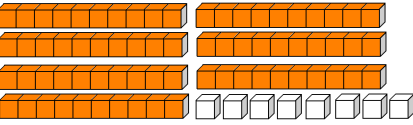
1.

98	89

2.

35	39

五、連々連々看々：（每々條々線々 4 分々， 共々 20 分々）

<p>十々位々數々字々為々 9 個々位々數々字々為々 3</p>	•	39
<p>3 個々 10 和々 9 個々 1 合々起々來々</p>	•	93
	•	78
	•	65
	•	40

1-3  
進階挑戰區

一、選擇題：（每題 4 分，共 12 分）

- ( ) 1. 哪一個選項中的數比 76 大，而且比 80 小？（① 75 ② 77 ③ 81）
- ( ) 2. 數字「38」中的 3 代表的是：  
（① 3 ② 30 ③ 13）
- ( ) 3. 數字「57」中的 7 代表的是：  
（① 7 ② 70 ③ 17）

二、依照數的大小順序：

（每個空格 3 分，共 24 分）

1. 把 77、85、68、90，「由大到小」排順序。

( ) ( ) ( ) ( )

大  小



2. 把 55、88、77、66，「由小到大的」排順序。




( ) ( ) ( ) ( )

小  大

三、根據下列表格，回答問題：

(每題 4 分，共 16 分)

1	2	3	4	5	6	7	8	9	10
11	12	13	14	15	16	17	18	19	20
21	22	23	24	25	26	27	28	29	30
31		33	34	35	36	37	38	39	40
41	42	43		45	46	47	48		50

-  在第 ( ) 格。
-  在第 ( ) 格。
- 這個表格共有 ( ) 格。
-  在第 ( ) 格。

四、圈圈看看：(每題 4 分，共 16 分)

<p>例：哪一個 3 表示 3 個 10。</p> <p>1 3                      3 5</p>	<p>例：哪一個 5 表示 5 個 1。</p> <p>5 2                      3 5</p>
<p>1. 哪一個 7 表示 7 個 10。</p> <p>7 5                      2 7</p>	<p>2. 哪一個 4 表示 4 個 1。</p> <p>3 4                      4 5</p>
<p>3. 哪一個 8 表示 8 個 10。</p> <p>2 8                      8 2</p>	<p>4. 哪一個 6 表示 6 個 1。</p> <p>6 3                      3 6</p>

五、在規定位板中填入正確答案：

(每格 4 分，共 16 分)

1. 有 1 個二十位數比 21 小，它的十位數數字是 2，請問它的個位數數字是多多少？

十位	個位
2	

2. 有 1 個二十位數比 86 大，它的個位數數字是 2，請問它的十位數數字是多多少？

十位	個位
	2

3. 有 1 個二十位數比 24 小，它的個位數數字是 5，請問它的十位數數字是多多少？

十位	個位
	5

4. 有 1 個二十位數比 36 大、比 52 小，而且它的個位數數字是 5，請問它的十位數數字是多多少？

十位	個位
	5

六、應用題：（每題 8 分，共 16 分）

1. 糕餅店有 52 個太陽餅，老闆把 10 個太陽餅裝成 1 盒，最多可裝成幾盒？還剩下幾個？

2. 水果店有 86 顆蘋果，老闆把 10 顆蘋果裝成 1 盒，最多可裝成幾盒？還剩下幾顆？