

整數 2-1 200 以內的數

綜合題 第一回

一、將正確的讀法與寫法連在一起。

(每條線 4 分，共 20 分)

- | | | | |
|-------|---|---|-----|
| 一百六十九 | ● | ● | 107 |
| 一百一十八 | ● | ● | 180 |
| 一百八十九 | ● | ● | 133 |
| 一百三十三 | ● | ● | 169 |
| 一百零七 | ● | ● | 118 |

二、數一數，填入正確的數。(每題 12 分，共 24 分)

1. $\textcircled{10} \textcircled{10} \textcircled{10} \textcircled{10} \textcircled{10} \textcircled{10} \textcircled{10} \textcircled{1} \textcircled{1} \textcircled{1} \textcircled{1} \textcircled{1} \textcircled{1} \textcircled{1} \textcircled{1} \textcircled{1}$

$\textcircled{10}$ 有幾個？ () 個

$\textcircled{1}$ 有幾個？ () 個

共是多少钱？ () 元

2. $\textcircled{50}$ $\textcircled{50}$ $\textcircled{1}$ $\textcircled{1}$ $\textcircled{1}$ $\textcircled{1}$ $\textcircled{1}$ $\textcircled{1}$

$\textcircled{50}$ 有幾個？ () 個

$\textcircled{1}$ 有幾個？ () 個

共是元多少元？ () 元

三、按照順序填填看看 (每題4分，共20分)

1.	163	164			
2.			171	172	
3.		118	119		
4.	145	146			
5.		180	181		

四、想一想，填填看看 (每題6分，共36分)

1. 在 159 中，數字「5」在_____位，個位的數字是_____。

2. 在 173 中，數字「3」在_____位，百位的數字是_____。




3. 1個百，9個十，8個一，共是()。

4. 1個百，4個十，2個一，共是()。

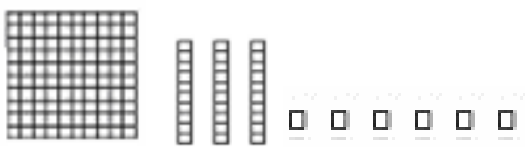
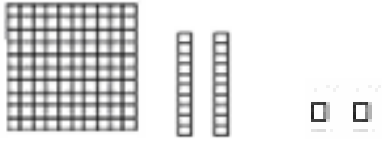
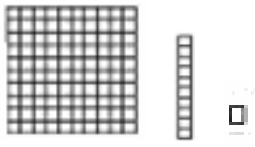

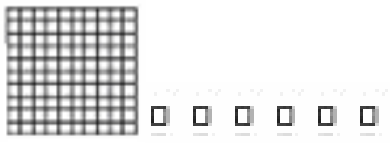
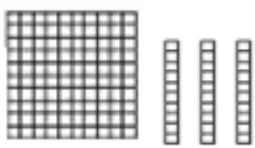
5. 184 是 1 個百、 8 個十和 4 個一。

6. 101 是 1 個百、 0 個十和 1 個一。

綜合題
第二回

一、數數看， 表示1， 表示10， 表示100

(每題5分，共30分)

<p>1. </p>	<p>_____ 個百， _____ 個十， _____ 個一， 共是 _____。</p>
<p>2. </p>	<p>_____ 個百， _____ 個十， _____ 個一， 共是 _____。</p>
<p>3. </p>	<p>_____ 個百， _____ 個十， _____ 個一， 共是 _____。</p>
<p>4. </p>	<p>_____ 個百， _____ 個十， _____ 個一， 共是 _____。</p>
<p>5. </p>	<p>_____ 個百， _____ 個十， _____ 個一， 共是 _____。</p>
<p>6. </p>	<p>_____ 個百， _____ 個十， _____ 個一， 共是 _____。</p>

一、將正確的數字圈出來(每題10分，共20分)

1. 個位數是3的數

123	192	163
156	138	174

2. 十位の数は5の倍数

145	169	157
197	152	115

三、比一比，将比较大的数打√ (每小题5分，共30分)

1.	111	112
3.	139	159
5.	86	186

2.	175	178
4.	100	200
6.	190	109

四、国文字换成数字，数字换成国文字 (每小题5分，共20分)

1. 一百零八 ()	2. 196 ()
3. 一百四十四 ()	4. 151 ()
5. 一百七十三 ()	6. 184 ()
7. 一百二十一 ()	8. 165 ()

綜合題
第三回

一、數一數，填入正確的數 (每格4分，共32分)

1. $\boxed{100}$ $\textcircled{10}$ $\textcircled{10}$ $\textcircled{10}$ $\textcircled{10}$ $\textcircled{1}$ $\textcircled{1}$ $\textcircled{1}$ $\textcircled{1}$

$\boxed{100}$ 有幾個？ () 個

$\textcircled{10}$ 有幾個？ () 個

$\textcircled{1}$ 有幾個？ () 個

共是多少元？ () 元

2. $\boxed{100}$ $\textcircled{10}$ $\textcircled{10}$ $\textcircled{10}$ $\textcircled{10}$ $\textcircled{10}$ $\textcircled{10}$ $\textcircled{10}$ $\textcircled{10}$ $\textcircled{1}$ $\textcircled{1}$ $\textcircled{1}$ $\textcircled{1}$ $\textcircled{1}$ $\textcircled{1}$ $\textcircled{1}$ $\textcircled{1}$

$\boxed{100}$ 有幾個？ () 個

$\textcircled{10}$ 有幾個？ () 個

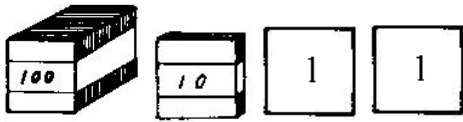
$\textcircled{1}$ 有幾個？ () 個

共是多少元？ () 元

二、數數看，寫出正確的數量

(每格2分，共32分)

1.



()個百 ()個十和 ()個一，共是 ()。

2.



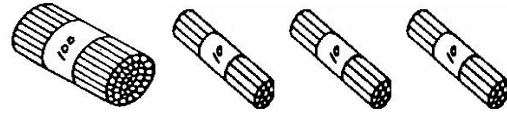
()個百 ()個十和 ()個一，共是 ()。

3.



()個百 ()個十和 ()個一，共是 ()。

4.



()個百 ()個十和 ()個一，共是 ()。

三、將正確的打勾 (每題6分，共36分)

1. 131 3個百 3個十 3個一

2. 198 8個百 8個十 8個一

3. 186 1個百 1個十 1個一

4. 119的「9」是 900 90 9

5. 145的「1」是 100 10 1

6. 193的「9」是 900 90 9

綜合題
第四回

一、比一比，圈出最大的數。（每題6分，共30分）


- | | | | | |
|-------|-----|-----|-----|-----|
| 1. | 183 | 185 | 180 | 181 |
| <hr/> | | | | |
| 2. | 134 | 137 | 139 | 136 |
| <hr/> | | | | |
| 3. | 175 | 185 | 115 | 135 |
| <hr/> | | | | |
| 4. | 161 | 191 | 111 | 100 |
| <hr/> | | | | |
| 5. | 145 | 154 | 137 | 173 |

二、依照題目用不同的方式圈出正確的數量。


（每小題5分，共20分）

1. 哪一個是100元？

(1)



(2)



2. 哪一個是350元？

(1)

(2)

100 100

50 50 50 50 50 50 50

10 10 10 10 10 10 10 10

10 10

100 100

50 50 50 50 50 50 50

10 10 10 10 10 10 10 10

10 10

二、將正確的讀法與寫法連在一起。

(每條線4分，共20分)

- 一百一十四 ● ● 161
- 一百六十三 ● ● 130
- 一百九十七 ● ● 163
- 一百三十九 ● ● 197
- 一百六十一 ● ● 114

四、想一想，填填看看。(每格5分，共30分)

1. 在126中，數字「6」在_____位，百位的數字是_____。
2. 1個百，9個十，8個一，共是()。
3. 184是()個百、()個十和()個一。

綜合題
第五回

一、連_カ連_カ看_テ，將_テ正_シ確_シ的_ニ數_ノ字_ヲ與_テ數_ノ量_ヲ連_カ在_テ一_ニ起_ス

(每_ク條_ノ線_ノ4_ノ分_ヲ， 共_シ20_ノ分_ヲ)

122元 _ヲ ●	●	<div style="display: flex; align-items: center; gap: 10px;"> (50) (50) (5) (5) </div> <hr style="border: 0.5px dashed black;"/>
161元 _ヲ ●	●	<div style="display: flex; align-items: center; gap: 10px;"> 100 (50) (10) (1) </div> <hr style="border: 0.5px dashed black;"/>
197元 _ヲ ●	●	<div style="display: flex; align-items: center; gap: 10px;"> 100 (10) (10) (1) (1) </div> <hr style="border: 0.5px dashed black;"/>
148元 _ヲ ●	●	<div style="display: flex; align-items: center; gap: 10px;"> 100 (50) (10) (10) (10) (10) (5) (1) (1) </div> <hr style="border: 0.5px dashed black;"/>
110元 _ヲ ●	●	<div style="display: flex; align-items: center; gap: 10px;"> (50) (50) (10) (10) (10) (10) (5) (1) (1) (1) </div>

二、比_ベ一_ニ比_ベ，將_テ較_シ大_キ的_ヲ打_テ● (每_ク題_ニ6_ノ分_ヲ， 共_シ48_ノ分_ヲ)

1.	166	162	2.	134	138
3.	157	167	4.	101	121
5.	44	144	6.	99	111

7.




166	116

8.

10	100

三、請依照題目只用法 **100** **50** **10** **5** **1** 付錢。

(每題 6 分，共 18 分)

1.	
2.	
3.	

四、圈圈看看(每題 6 分，共 18 分)

1. 比 116 大的數 (4 個)

122	103	175	186	115	109	152
-----	-----	-----	-----	-----	-----	-----

2. 比 162 小的數 (3 個)

122	143	175	186	117	190	163
-----	-----	-----	-----	-----	-----	-----

3. 比 125 大的數 (4 個)

118	136	195	186	109	108	172
-----	-----	-----	-----	-----	-----	-----

