

2-5-1  
練習回

一、選擇題：(每題 5 分，共 15 分)

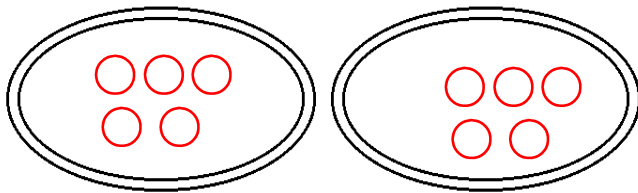
( 3 ) 1. 李老師有 35 枝鉛筆，她想送給小朋友每人 5 枝，可以送給幾個小朋友？ ( ①9 ②8 ③7 ) 個。

( 3 ) 2. 24 瓶牛奶每人 4 瓶，可以分給幾人？ ( ①4 ②5 ③6 ) 人。

( 3 ) 3. 1 塊橡皮擦 8 元，32 元可以買幾塊橡皮擦？選出正確的算式。  
( ① $32 \times 8$  ② $32 - 8$  ③ $8 \times \square = 32$  )

二、畫畫看看：(畫圈 5 分，填空 5 分，共 10 分)

1. 10 個水餃平分成 2 盤，1 盤有幾個水餃？在盤子裡畫○分分看看：




1 盤有 ( 5 ) 個水餃

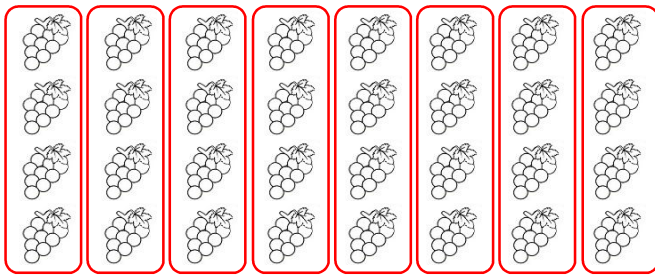
三、圈圖看再另填入答案：(圈圖看 5 分、填

空 5 分，共 20 分)

1. 每間車庫可以停 3 輛車，18 輛車共需要 ( 6 ) 間車庫來停放。(圈法不唯一)



2. 32 串葡萄，每盒裝 4 串，共可以裝成 ( 8 ) 盒。(圈法不唯一)



四、連連看：(每線 5 分，共 15 分)

現在有 20 顆湯圓，在每個碗裡放 5 顆湯圓，共有幾碗湯圓？

千千用乘法算式記成： $5 \times (4) = 20$

算式中各數字各表示什麼意思？

(1) 4 表示

(2) 5 表示

(3) 20 表示

● ㄅ. 每個碗放了 4 顆湯圓

● ㄆ. 每個碗放了 5 顆湯圓

● ㄏ. 全部有 20 顆湯圓

● ㄉ. 有 4 碗

五、應用題：(每題 8 分，共 40 分)

1. 1 枝鉛筆賣 10 元，小華有 60 元，他可以買幾枝鉛筆？把做法用減法算式記下來。

答：6 枝。(省略減法算式)

2. 有 32 個蘋果，每 4 個裝 1 盒，可以裝成幾盒？把做法用減法算式記下來。

答：8 盒。(省略減法算式)

3. 媽媽烤了 45 片餅乾，每 5 片裝成 1 盤，共可裝幾盤？把做法用乘法算式記下來。

答：9 盤。(省略乘法算式)

4. 一盒柳丁有 6 顆，18 個柳丁可以裝成

幾盒？把做法用乘法算式記下來。

答：3 盒。（省略乘法算式）

5. 把 48 元平均存進 8 個撲滿裡，每個撲滿裡有幾元？把做法用乘法算式記下來。

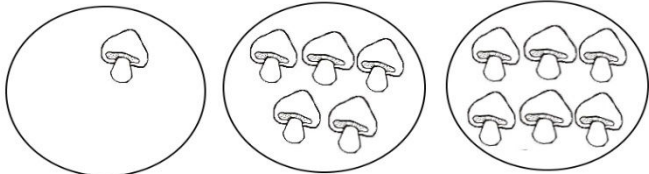

答：6 元。（省略乘法算式）

2-5-2  
練習回

一、填填看看：(每小題 5 分，共 10 分)

12 朵香菇分給 3 人，下面的分法有平等的

分的在  中打  $\checkmark$ ，沒有的打  $\times$ ：


1.		$\times$
2.		$\checkmark$

二、要怎么分？圈圈看看：(共 8 分)

大銘將 36 顆草莓平均分給他的 9 位同學

學，每位同學可以分到幾顆？(圈法不

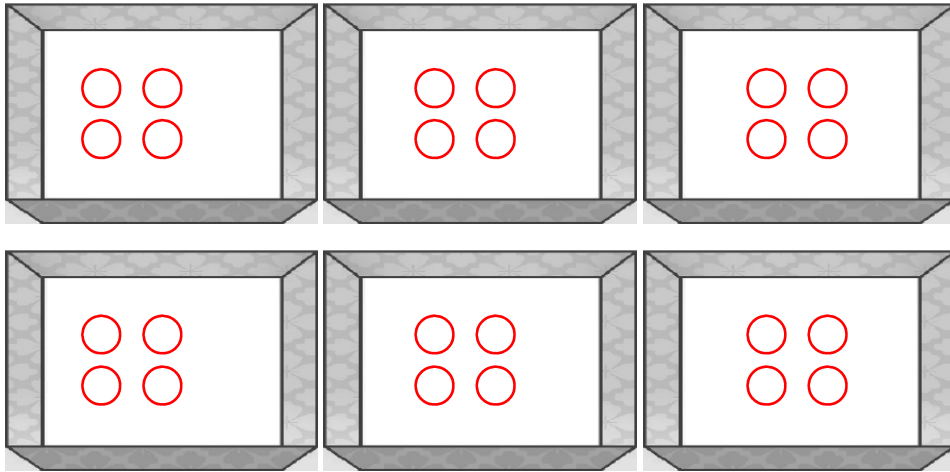
唯一)         



( 4 ) 顆草莓

三、畫○分分看：(每題 8 分，共 16 分)

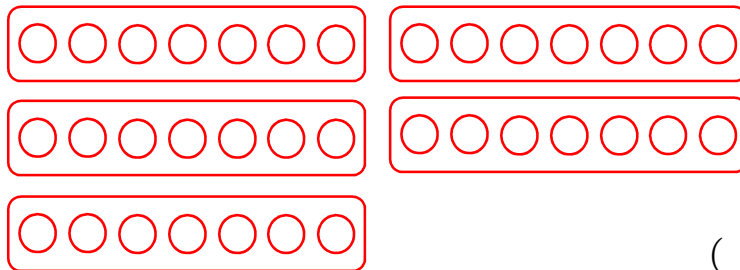
1. 24 個棒球平分成 6 盒，1 盒有幾個棒球？



( 4 ) 個

2. 畫「○」做做看，並寫出答案：

35 張椅子，7 張排成 1 排，可以排成幾排？



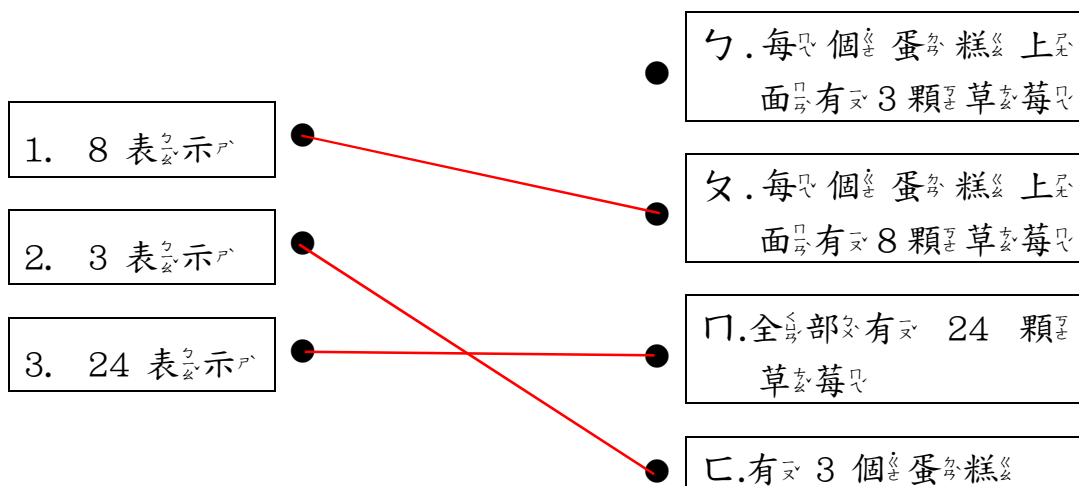
( 5 ) 排

四、想一想，連連看：(每題 4 分，共 12 分)

24 顆草莓平分放在 3 個蛋糕上，1 個蛋糕上面有幾顆草莓？

安安 用乘法算式記成： $8 \times 3 = 24$

算式中的數字各表示什麼？



五、把做法用減法算式記下來：(每題 8 分，共 24 分)

1. 媽媽煮 20 個水餃，平分成 5 盤，每盤有幾顆水餃？

答：4 顆。(省略減法算式)

2. 24 枝冰棒，平均裝成 4 盒，每一盒有幾枝冰棒？

答：6 枝。(省略減法算式)

3. 二年<sup>3</sup>甲<sup>4</sup>班<sup>2</sup>有<sup>2</sup> 35 人<sup>1</sup>，平<sup>2</sup>分<sup>5</sup>成<sup>2</sup> 7 組<sup>2</sup>，每<sup>1</sup>一<sup>1</sup>組<sup>2</sup>有<sup>2</sup> 幾<sup>1</sup>個<sup>1</sup>人<sup>1</sup>？

答<sup>2</sup>： 5 人<sup>1</sup>。(省<sup>2</sup>略<sup>2</sup>減<sup>1</sup>法<sup>5</sup>算<sup>2</sup>式<sup>1</sup>)

六<sup>2</sup>、應<sup>2</sup>用<sup>1</sup>題<sup>2</sup>：(每<sup>1</sup>題<sup>2</sup> 6 分<sup>5</sup>，共<sup>2</sup> 30 分<sup>5</sup>)

1. 有<sup>2</sup> 24 顆<sup>2</sup>巧<sup>1</sup>克<sup>1</sup>力<sup>1</sup>，平<sup>2</sup>分<sup>5</sup>成<sup>2</sup> 6 包<sup>2</sup>，每<sup>1</sup>包<sup>2</sup>有<sup>2</sup> 幾<sup>1</sup>顆<sup>2</sup>巧<sup>1</sup>克<sup>1</sup>力<sup>1</sup>？把<sup>2</sup>做<sup>1</sup>法<sup>5</sup>用<sup>1</sup>乘<sup>1</sup>法<sup>5</sup>算<sup>2</sup>式<sup>1</sup>記<sup>1</sup>下<sup>1</sup>來<sup>2</sup>。

答<sup>2</sup>： 4 顆<sup>2</sup>。(省<sup>2</sup>略<sup>2</sup>乘<sup>1</sup>法<sup>5</sup>算<sup>2</sup>式<sup>1</sup>)

2. 把<sup>2</sup> 21 張<sup>2</sup>明<sup>1</sup>信<sup>1</sup>片<sup>2</sup>平<sup>2</sup>分<sup>5</sup>給<sup>2</sup> 3 人<sup>1</sup>，每<sup>1</sup>人<sup>2</sup>可<sup>1</sup>以<sup>1</sup>分<sup>5</sup>得<sup>2</sup> 幾<sup>1</sup>張<sup>2</sup>明<sup>1</sup>信<sup>1</sup>片<sup>2</sup>？把<sup>2</sup>做<sup>1</sup>法<sup>5</sup>用<sup>1</sup>乘<sup>1</sup>法<sup>5</sup>算<sup>2</sup>式<sup>1</sup>記<sup>1</sup>下<sup>1</sup>來<sup>2</sup>。

答<sup>2</sup>： 7 張<sup>2</sup>。(省<sup>2</sup>略<sup>2</sup>乘<sup>1</sup>法<sup>5</sup>算<sup>2</sup>式<sup>1</sup>)



3. 有 48 朵玫瑰花，每一束花都一樣多，共有 6 束花，請問每一束有幾朵花？把做法用乘法算式記下來。

答：8 朵。(省略乘法算式)

4. 把 54 盒布丁平分給 6 人，每人可以分到幾盒布丁？把做法用乘法算式記下來。

答：9 盒。(省略乘法算式)


5. 有 21 片餅乾，平分成 7 包，每包可以裝幾片？把做法用乘法算式記下來。

答：3 片。(省略乘法算式)

2-5 綜合回  
第一回

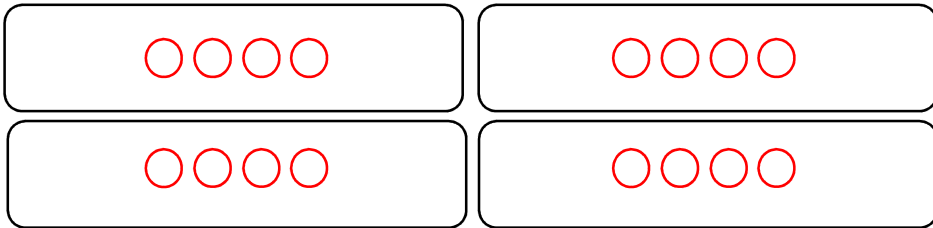
一、畫○做做看看，並寫出答案。(畫圈3分，填空2分，共15分)

1. 把15顆蘋果平分成3盒，每盒有幾顆蘋果？



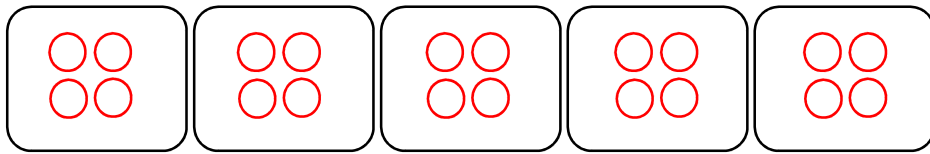
每盒有( 5 )顆蘋果。

2. 有16枝鉛筆，平分成4包，每包有幾枝鉛筆？



每包有( 4 )枝鉛筆。

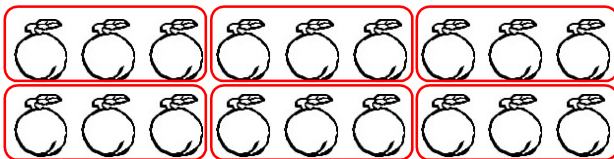
3. 有20顆雞蛋，平分成5盒，每盒有幾顆雞蛋？



每盒有( 4 )顆雞蛋。

二、要怎麼分？圈出來。(畫圖3分，填空2分，共5分)

有18顆水蜜桃，每人分到3顆，可以分給幾個個人？



可以分給

( 6 ) 個

個人。

三、把作法用減法算式記下來：（每題 10 分，共 40 分）

1. 有 45 顆彈珠，每 9 顆裝一袋，一共可以裝成幾袋？

答：4 袋。

2. 把 12 公分長的壽司平分成 4 塊，一塊長幾公分？

答：3 公分。

3. 把 32 顆冰塊平分成 8 個杯子裡，一個杯子可以裝幾顆冰塊？

答：4 顆。

4. 有 21 塊餅乾，每 7 塊裝成一包，一共可以裝成幾包？

答：3 包。

四、把作除法用乘法算式記下來，乘法算式中的答案，請用( )括起來：(每題 10 分，共 40 分)

1. 每 5 枝冰棒裝成一盒，40 枝冰棒可以裝成幾盒？

答：8 盒。

2. 把 54 瓶飲料，平均分給 6 人，一人可以分到幾瓶？

答：9 瓶。

3. 有 56 朵花，每 8 朵綁成一束，一共可以綁成幾束？

答：7 束。

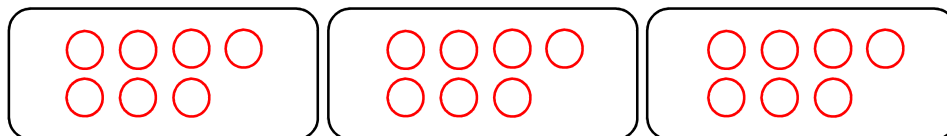
4. 一包糖果有 27 顆，平均分給 3 個小朋友，一人可以分到幾顆？

答：9 顆。

2-5 綜合回  
第二回

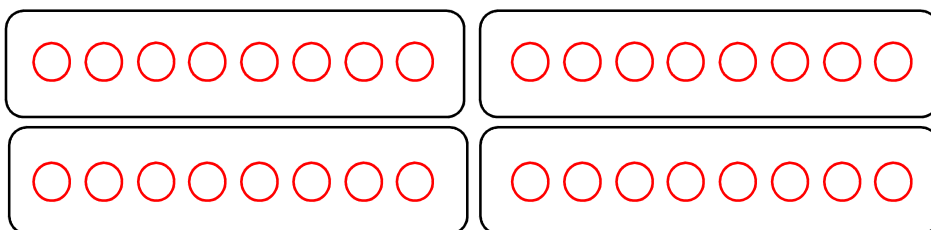
一、畫○做做看看，並寫出答案。(畫圈3分，填空2分，共15分)

1. 把21顆梨子平分成3袋，每袋有幾顆梨子？



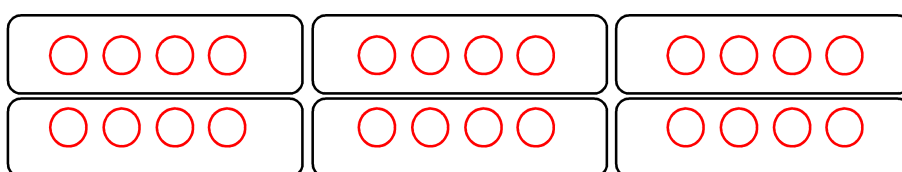
每袋有( 7 )顆梨子。

2. 有32枝鉛筆，平分成4包，每包有幾枝鉛筆？



每包有( 8 )枝鉛筆。

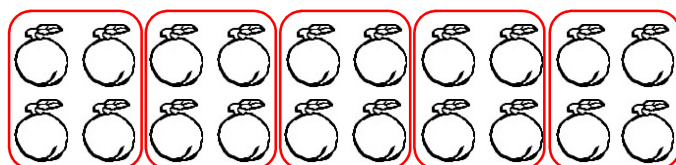
3. 有24顆皮球，平分成6籃，每籃有幾顆皮球？



每籃有( 4 )顆皮球。

二、要怎麼分？圈出來。(畫圖3分，填空2分，共5分)

有20顆水蜜桃，每人分到4顆，可以分給幾個小朋友？(圈法不唯一)



可以分給  
( 5 ) 個小朋友。

三、把作法用減法算式記下來：（每題 10 分，共 40 分）

1. 有 16 個人要搭計程車，每輛計程車可以載 4 位乘客，需要幾輛計程車？

答：4 輛。

2. 二年級的課輔班共有 25 人，每 5 個人一組進行活動，可以分成幾組？

答：5 組。

3. 閱讀角落每次可以提供 8 個人進行共讀，二年級共有 32 人，要分幾次進行？

答：4 次。

4. 將 56 公分長的繩子，每 8 公分剪成一段，可以剪成幾段？

答：7 段。

四、把作法用乘法算式記下來，乘法算式中<sup>的</sup>答案，請用( )括起來：(每題 10 分，共 40 分)

1. 媽媽採收了 63 朵玫瑰花，每 9 朵綁成一束，可以綁成幾束？

答： 7 束。

2. 超市販賣飲料時，要將飲料每 6 瓶裝成一組，現在有 48 瓶飲料，可以裝成幾組？

答： 8 組。

3. 將 15 顆糖果平分給 3 個人，每個人可以分到幾顆？

答： 5 顆。

4. 老師有 72 張色紙，要平分給 8 組同學做摺紙，每組會分到幾張色紙？

答： 9 張。

2-5  
進階挑戰區

一、選擇題：(每題4分，共20分)

( 3 ) 1. 有 12 顆糖果，每 2 顆裝一袋，共可以裝幾袋？( ①4 ②5 ③6 ) 袋。

( 1 ) 2. 有 18 個布丁，每 3 個裝一盒，共可以裝幾盒？( ①6 ②4 ③5 ) 盒。

( 2 ) 3. 24 瓶牛奶平分給 6 位小朋友，每位小朋友分到幾瓶牛奶？( ①2 ②4 ③6 ) 瓶。

( 2 ) 4. 18 件雨衣平分給 6 組小朋友，每組小朋友分到幾件雨衣？( ①2 ②3 ③6 ) 件。

( 3 ) 5. 一個禮物包裝需要 7 公分長的緞帶，姐姐買了 35 公分的緞帶，最多可以包裝幾個禮物？( ①3 個 ②4 個 ③5 個 )。

二、填填看看：(每題4分，共28分)

1. 一個橡皮擦 8 元：

(1) 買 1 個橡皮擦要付 ( 8 ) 元。

(2) 買 2 個橡皮擦要付 ( 16 ) 元。



(3) 買 3 個 橡 皮 擦 要 付 ( 24 ) 元。

(4) 哥哥帶了 64 元，剛好可以買 ( 8 ) 個 橡 皮 擦。

2. 農夫今天採收了 30 顆 蘋果：

(1) 每 5 顆 裝 1 袋，可以裝成 ( 6 ) 袋。

(2) 每 6 顆 裝 1 袋，可以裝成 ( 5 ) 袋。

(3) 每 10 顆 裝 1 袋，可以裝成 ( 3 ) 袋。

三、將 正 確 的 答 案 在 ( ) 內 打  $\bigcirc$ 。(每題 6 分，共 12 分)

將 35 顆 糖 果 平 分 給 5 位 小 朋 友，每 人 得 到 幾 顆 糖 果？用 乘 法 算 式  $【 5 \times 7 = 35 】$  計算 出 答 案 後，請 問 在 算 式 中，5 和 7 分 別 表 示 什 麼？

1. 5 表 示

(  $\bigcirc$  ) 共 有 5 位 小 朋 友

( ) 一 人 分 到 5 顆 糖 果

2. 7 表 示

( ) 共 有 7 位 小 朋 友

(  $\bigcirc$  ) 一 人 分 到 7 顆 糖 果

四、應用題：（每題8分，共40分）

1. 用乘法算式記下來。

一顆巧克力7元，42元可以買幾顆巧克力？

答：6顆。

2. 用乘法算式記下來。

24個學生分組玩遊戲，每4個學生分成一組，可以分成幾組？

答：6組。

3. 用乘法算式記下來。

40枝冰棒，每10枝裝成一盒，共可以裝成幾盒？

答：4盒。

4. 用減法算式記下來。

32枝鉛筆，每8枝裝成一包，剛剛好可以裝成幾包？

答：4包。

5. 用減法算式記下來。

超市一瓶牛奶特價10元，爸爸帶了70元去超市，可以買幾瓶牛奶？

答：7瓶。