

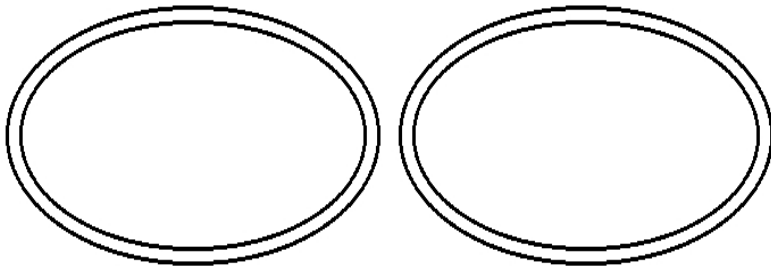
2-5-1  
練習回

一、選擇題：(每題 5 分，共 15 分)

- ( ) 1. 李老師有 35 枝鉛筆，她想送給小朋友每人 5 枝，可以送給幾個小朋友？  
( ① 9    ② 8    ③ 7 ) 個。
- ( ) 2. 24 瓶牛奶每人 4 瓶，可以分給幾人？( ① 4    ② 5    ③ 6 ) 人。
- ( ) 3. 1 塊橡皮擦 8 元，32 元可以買幾塊橡皮擦？選出正確的算式。( ①  $32 \times 8$     ②  $32 - 8$     ③  $8 \times \square = 32$  )

二、畫畫看看：(畫圈 5 分，填空 5 分，共 10 分)


1. 10 個水餃平分成 2 盤，1 盤有幾個水餃？在盤子裡畫○分分看看：




1 盤有 ( ) 個水餃

三、圈圖看再填入答案：(圈圖看 5 分、填空 5 分，共 20 分)

1. 每間車庫可以停 3 輛車，18 輛車共需要( )間車庫來停放。



2. 32 串葡萄，每盒裝 4 串，共可以裝成( )盒。



四、連連看：(每線 5 分，共 15 分)

現在有 20 顆湯圓，在每個碗裡放 5 顆湯圓，共有幾碗湯圓？

用乘法算式記成： $5 \times (4) = 20$

算式中各數字各表示什麼意思？

- |           |   |                |
|-----------|---|----------------|
| (1) 4 表示  | ● | A. 每個碗放了 4 顆湯圓 |
| (2) 5 表示  | ● | B. 每個碗放了 5 顆湯圓 |
| (3) 20 表示 | ● | C. 全部有 20 顆湯圓  |
|           | ● | D. 有 4 碗       |

五、應用題：(每題 8 分，共 40 分)

1. 1 枝鉛筆賣 10 元，小華有 60 元，他可以買幾枝鉛筆？把做法用減法算式記下來。
  
2. 有 32 個蘋果，每 4 個裝 1 盒，可以裝成幾盒？把做法用減法算式記下來。
  
3. 媽媽烤了 45 片餅乾，每 5 片裝成 1 盤，共可裝幾盤？把做法用乘法算式記下來。

4. 一盒柳丁有 6 顆，18 個柳丁可以裝成幾盒？把做法用乘法算式記下來。

5. 把 48 元平均存進 8 個撲滿裡，每個撲滿裡有幾元？把做法用乘法算式記下來。

2-5-2  
練習回

一、填填看看：(每小題 5 分，共 10 分)

12 朵香菇分給 3 人，下面的分法有平均的在  中打  $\checkmark$ ，沒有的打  $\times$ ：

1.		
2.		

二、要怎么分？圈圈看看：(共 8 分)

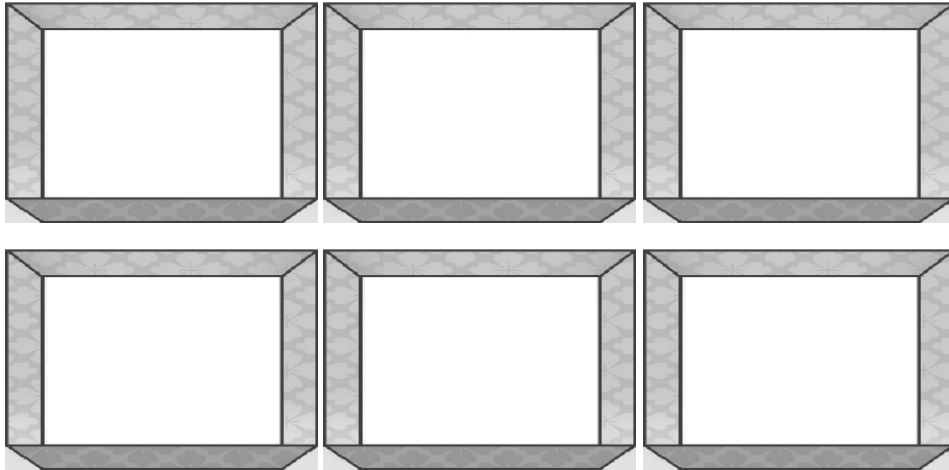
大銘將 36 顆草莓平均分給他的 9 位同學，每位同學可以分到幾顆？



(            ) 顆草莓

三、畫○分分看：(每題8分，共16分)

1. 24個棒球平分成6盒，1盒有幾個棒球？



( ) 個

2. 畫「○」做做看，並寫出答案：

35張椅子，7張排成1排，可以排成幾排？

( ) 排

四、想一想，連連看：(每題4分，共12分)

24顆草莓平分放在3個蛋糕上，1個蛋糕上表面有幾顆草莓？

安安用乘法算式記成： $8 \times 3 = 24$

算式中的數字各表示什麼？

1. 8 表示

2. 3 表示

3. 24 表示

● 每盒蛋糕上面有 3 顆草莓

● 每盒蛋糕上面有 8 顆草莓

● 全部共有 24 顆草莓

● 共有 3 個蛋糕

五、把做法用減法算式記下來：(每題 8 分，共 24 分)

1. 媽媽煮 20 個水餃，平均分成 5 盤，每盤有幾顆水餃？

2. 24 枝冰棒，平均裝成 4 盒，每盒有幾枝冰棒？

3. 二年級甲班有 35 人，平均分成 7 組，每一組有幾個人？

六、應用題：（每題 6 分，共 30 分）

1. 有 24 顆巧克力，平均分成 6 包，每包有幾顆巧克力？把做法用乘法算式記下來。

2. 把 21 張明信片平均分給 3 人，每人可以分到幾張明信片？把做法用乘法算式記下來。



3. 有 48 朵玫瑰花，每一束花都一樣多，共有 6 束花，請問每一束有幾朵花？把做法用乘法算式記下來。
4. 把 54 盒布丁平分給 6 人，每人可以分到幾盒布丁？把做法用乘法算式記下來。
5. 有 21 片餅乾，平分成 7 包，每包可以裝幾片？把做法用乘法算式記下來。

2-5 綜合回  
第一回

一、畫○做做看，並寫出答案。(畫圈3分，填空2分，共15分)

1. 把15顆蘋果平分成3盒，每盒有幾顆蘋果？

每盒有( )顆蘋果。

2. 有16枝鉛筆，平分成4包，每包有幾枝鉛筆？

每包有( )枝鉛筆。

3. 有20顆雞蛋，平分成5盒，每盒有幾顆雞蛋？

每盒有( )顆雞蛋。

二、要怎麼分？圈出來。(畫圖3分，填空2分，共5分)

有18顆水蜜桃，每人分到3顆，可以分給幾個小朋友？

可以分給( )個小朋友。

三、把作法用減法算式記下來：（每題 10 分，共 40 分）

1. 有 45 顆彈珠，每 9 顆裝一袋，一共可以裝成幾袋？
2. 把 12 公分長的壽司平分成 4 塊，一塊長幾公分？
3. 把 32 顆冰塊平分成 8 個杯子裡，一個杯子可以裝幾顆冰塊？
4. 有 21 塊餅乾，每 7 塊裝成一包，一共可以裝成幾包？

四、把作法用乘法算式記下來，乘法算式中<sub>2</sub>的答<sub>2</sub>案<sub>2</sub>，請<sub>2</sub>用<sub>2</sub>( )括<sub>2</sub>起<sub>2</sub>來<sub>2</sub>：(每<sub>2</sub>題<sub>2</sub> 10 分<sub>2</sub>，共<sub>2</sub> 40 分<sub>2</sub>)

1. 每<sub>2</sub> 5 枝<sub>2</sub>冰<sub>2</sub>棒<sub>2</sub>裝<sub>2</sub>成<sub>2</sub>一<sub>2</sub>盒<sub>2</sub>，40 枝<sub>2</sub>冰<sub>2</sub>棒<sub>2</sub>可<sub>2</sub>以<sub>2</sub>裝<sub>2</sub>成<sub>2</sub>幾<sub>2</sub>盒<sub>2</sub>？

2. 把<sub>2</sub> 54 瓶<sub>2</sub>飲<sub>2</sub>料<sub>2</sub>，平<sub>2</sub>分<sub>2</sub>給<sub>2</sub> 6 人<sub>2</sub>，一<sub>2</sub>人<sub>2</sub>可<sub>2</sub>以<sub>2</sub>分<sub>2</sub>到<sub>2</sub>幾<sub>2</sub>瓶<sub>2</sub>？

3. 有<sub>2</sub> 56 朵<sub>2</sub>花<sub>2</sub>，每<sub>2</sub> 8 朵<sub>2</sub>綁<sub>2</sub>成<sub>2</sub>一<sub>2</sub>束<sub>2</sub>，一<sub>2</sub>共<sub>2</sub>可<sub>2</sub>以<sub>2</sub>綁<sub>2</sub>成<sub>2</sub>幾<sub>2</sub>束<sub>2</sub>？

4. 一<sub>2</sub>包<sub>2</sub>糖<sub>2</sub>果<sub>2</sub>有<sub>2</sub> 27 顆<sub>2</sub>，平<sub>2</sub>分<sub>2</sub>給<sub>2</sub> 3 個<sub>2</sub>小<sub>2</sub>朋<sub>2</sub>友<sub>2</sub>，一<sub>2</sub>人<sub>2</sub>可<sub>2</sub>以<sub>2</sub>分<sub>2</sub>到<sub>2</sub>幾<sub>2</sub>顆<sub>2</sub>？

2-5 綜合回  
第二回

一、畫○做做看，並寫出答案：(畫圈3分，填空2分，共15分)

1. 把21顆梨子平分成3袋，每袋有幾顆梨子？

--	--	--

每袋有( )顆梨子。

2. 有32枝鉛筆，平分成4包，每包有幾枝鉛筆？



每包有( )枝鉛筆。

3. 有24顆皮球，平分成6籃，每籃有幾顆皮球？


每籃有( )顆皮球。

二、要怎麼分？圈出來。(畫圖3分，填空2分，共5分)

有20顆水蜜桃，每人分到4顆，可以分給幾個小朋友？



可分給  
( ) 個小朋友。

三、把作乘法用減法算式記下來：（每題 10 分，共 40 分）

1. 有 16 個人要搭計程車，每輛計程車可以載 4 位乘客，需要幾輛計程車？
2. 二年級課輔班共有 25 人，每 5 個人一組進行活動，可以分成幾組？
3. 閱讀角落每次可以提供 8 個人進行共讀，二年級共有 32 人，要分幾次進行？
4. 將 56 公分長的繩子，每 8 公分剪成一段，可以剪成幾段？

四、把作法用乘法算式記下來，乘法算式中<sub>的</sub>答案，請用( )括起來：(每題 10 分，共 40 分)

1. 媽媽採收了 63 朵玫瑰花，每 9 朵綁成一束，可以綁成幾束？

2. 超市販賣飲料時，要將飲料每 6 瓶裝成一組，現在有 48 瓶飲料，可以裝成幾組？

3. 將 15 顆糖果平分給 3 個人，每個人可以分到幾顆？

4. 老師有 72 張色紙，要平分給 8 組同學做摺紙，每組會分到幾張色紙？

2-5  
進階挑戰區

一、選擇題：(每題 4 分，共 20 分)

- (        ) 1. 有 12 顆糖果，每 2 顆裝一袋，共可以裝幾袋？( ① 4    ② 5  
③ 6 ) 袋。
- (        ) 2. 有 18 個布丁，每 3 個裝一盒，共可以裝幾盒？( ① 6    ② 4  
③ 5 ) 盒。
- (        ) 3. 24 瓶牛奶平分給 6 位小朋友，每位小朋友分到幾瓶牛奶？  
( ① 2    ② 4    ③ 6 ) 瓶。
- (        ) 4. 18 件雨衣平分給 6 組小朋友，每組小朋友分到幾件雨衣？  
( ① 2    ② 3    ③ 6 ) 件。
- (        ) 5. 一個禮物包裝需要 7 公分長的緞帶，姐姐買了 35 公分的緞帶，最多可以包裝幾個禮物？( ① 3    ② 4    ③ 5 ) 個。

二、填填看看：(每題 4 分，共 28 分)

1. 一個橡皮擦 8 元：

(1) 買 1 個橡皮擦要付 (        ) 元。

(2) 買 2 個橡皮擦要付 (        ) 元。



(3) 買 3 個 橡 皮 擦 要 付 ( ) 元。

(4) 哥哥帶了 64 元，剛好可以買 ( ) 個 橡 皮 擦。

2. 農夫今天採收了 30 顆蘋果：

(1) 每 5 顆裝 1 袋，可以裝成 ( ) 袋。

(2) 每 6 顆裝 1 袋，可以裝成 ( ) 袋。

(3) 每 10 顆裝 1 袋，可以裝成 ( ) 袋。

三、將正確的答案在 ( ) 內打○。(每題 6 分，共 12 分)

將 35 顆糖果平均分給 5 位小朋友，每人得到幾顆糖果？用乘法算式【 $5 \times 7 = 35$ 】計算出答案後，請問在算式中，5 和 7 分別表示什麼？

1. 5 表示

( ) 共有 5 位小朋友

( ) 一人分到 5 顆糖果

2. 7 表示

( ) 共有 7 位小朋友

( ) 一人分到 7 顆糖果

四、應用題：（每題8分，共40分）

1. 用乘法算式記下來。

一顆巧克力 7 元，42 元可以買幾顆巧克力？

2. 用乘法算式記下來。

24 個學生分組玩遊戲，每 4 個學生分成一組，可以分成幾組？

3. 用乘法算式記下來。

40 枝冰棒，每 10 枝裝成一盒，共可以裝成幾盒？

4. 用減法算式記下來。

32 枝鉛筆，每 8 枝裝成一包，剛剛剛好可以裝成幾包？

5. 用減法算式記下來。

超市一瓶牛奶特價 10 元，爸爸帶了 70 元去超市，可以買幾瓶牛奶？