

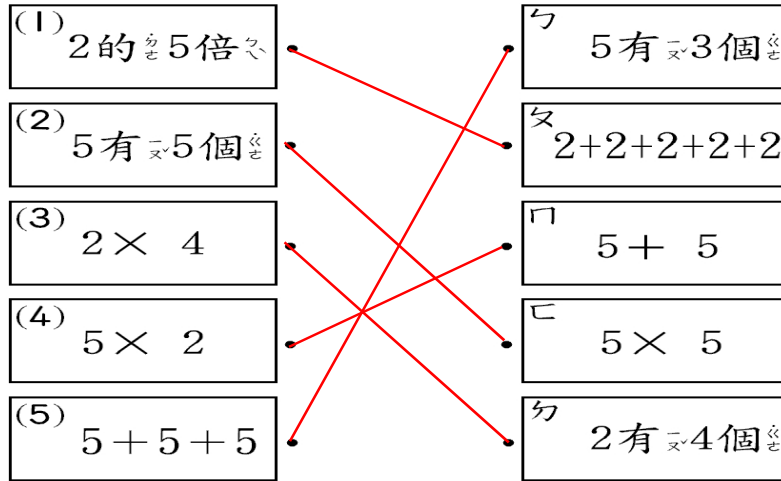
2-4-1
練習回

一、選擇題：(每題 2 分，共 10 分)

- (2) 1. 3 個 2 和 7 個 2 合起來是幾個 2?
(①14 ②10 ③20)
- (3) 2. 美勞課每人要用 2 張彩色紙，一組有 6 人，一組共要準備幾張彩色紙才夠?
(①6 張 ②8 張 ③12 張)
- (2) 3. 桌上有 8 個盤子，每個盤子都放了 4 顆蘋果，全部的盤子裡共有幾顆蘋果?
(① $8 \times 4 = 32$ ② $4 \times 8 = 32$ ③ $8 + 4 = 12$)
- (1) 4. 一個豆莢有 4 顆豆子，8 個豆莢有幾顆豆子?
(①32 顆 ②34 顆 ③36 顆)
- (3) 5. 一籠包子有 8 個，買 7 籠包子，共買了幾個包子?
(①15 個 ②54 個 ③56 個)

二、連_カ連_カ看_看：(每_小題_カ 2 分_分，共_カ 10 分_分)

1. 把_カ意_カ思_カ一_カ樣_カ的_カ連_カ起_カ來_カ：



三、做_カ做_カ看_看：(每_小題_カ 4 分_分，共_カ 20 分_分)

1. 每_張圖_カ畫_カ紙_カ賣_カ 4 元_元。

(1) 3 張_張圖_カ畫_カ紙_カ賣_カ幾_カ元_元? (12) 元_元

(2) 4 張_張圖_カ畫_カ紙_カ賣_カ幾_カ元_元? (16) 元_元

(3) 5 張_張圖_カ畫_カ紙_カ賣_カ幾_カ元_元? (20) 元_元

2. 每_隻章_カ魚_カ有_カ 8 隻_隻腕_カ足_カ。

(1) 5 隻_隻章_カ魚_カ共_カ有_カ幾_カ隻_隻腕_カ足_カ?

加_カ法_カ算_カ式_カ：

乘_カ法_カ算_カ式_カ：

(40) 隻_隻。

(2) 再加 1 隻章魚，共有幾隻腕足？

加法算式：

乘法算式：

(48) 隻。

四、把作法記下來：(每題 5 分，共 10 分)

1. 1 隻鳥有 2 隻腳，9 隻鳥共有幾隻腳？

(18) 隻。

2. 1 輛車可坐 5 人，6 輛車可坐幾人？

(30) 人。

五、填充題：(每格 5 分，共 20 分)

1. (1) 1 輛電車有 8 節車廂，5 輛電車共有

(40) 節車廂。

(2) 再加 4 輛是 (9) 輛電車，共有

(72) 節車廂。

2. 4×8 比 4×3 多 (5) 個 4。

六、應用題：(每題 6 分，共 30 分)

1. 阿惠每天喝 2 瓶鮮奶，8 天共喝了幾瓶鮮奶？

答：(16) 瓶鮮奶。

2. 小華整理故事書，每次拿 4 本，小華拿了 5 次，共拿了多少本故事書？

答：(20) 本故事書。

3. 1 包色紙有 5 張，8 包共有幾張色紙？

答：(40) 張色紙。

4. 1 包花片有 8 個，妹妹只有 8 包，共有幾個花片？

答：(64) 個花片。

5. 隊伍一排有 8 位小朋友，4 排共有幾位小朋友？

答：(32) 位小朋友。

2-4-2
練習回

一、選擇題：(每題 2 分，共 10 分)

- (1) 1. 「 $9 \times 5 = 45$ 」這個算式中，被乘數是比多少？(①9 ②5 ③45)
- (2) 2. $9 \times 7 = 63$ ， $7 \times \square = 63$ ， \square 中的數字是比多少？(①63 ②9 ③7)
- (3) 3. 4 個 7 比 10 個 7 少幾個 7？(①8 個 ②7 個 ③6 個)
- (1) 4. 6×8 和 6×4 相差幾個 6？(①4 個 ②5 個 ③6 個)
- (3) 5. 1 包糖果有 7 顆，9 包糖果共有幾顆糖果？(①70 顆 ②63 顆 ③36 顆)

二、計算題：(每題 2 分，共 12 分)

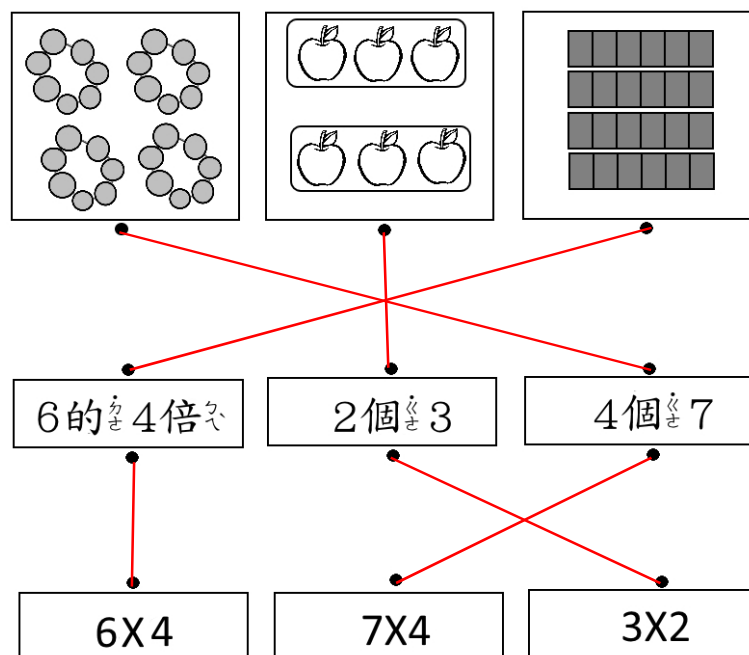
1. $3 \times 4 = (12)$
2. $9 \times 3 = (27)$
3. $6 \times 5 = (30)$
4. $7 \times 5 = (35)$

5. $9 \times 8 = (72)$

6. $7 \times 9 = (63)$

三、連連看：(每線 2 分，共 12 分)

把意思一樣的先連起來：



四、比一比，在 () 裡填入 $>$ 、 $<$ 或 $=$ ：(每

小題 2 分，共 8 分)

1. $7 \times 3 (<) 23$

2. $36 (=) 6 \times 6$

3. $80 (<) 9 \times 9$

4. $9 \times 8 (>) 70$

五、填充題：(每格 2 分，共 28 分)

1. 1 盒壽司有 7 個。

(1) 小美買 4 盒，是 (4) 個 7，共有 (28) 個壽司。


(2) 小貞買 6 盒，是 (6) 個 7，共有 (42) 個壽司。

(3) 小貞比小美多了 (2) 個 7，共多了 (14) 個壽司。

2. (1) 1 枝關東煮有 3 個丸子，8 枝關東煮共有 (24) 個丸子。

(2) 再加 1 枝是 (9) 枝關東煮，共有 (27) 個丸子。

3. 下圖是 (4) 的 (6) 倍，共有 (24) 個圓形。



4. 9 的 4 倍和 9 的 2 倍合起來是 9 的 (6) 倍，也就是 (42)。

六、應用題：(每題 6 分，共 30 分)

1. 1 盒花生糖有 6 個，媽媽買了 4 盒，共買了多少個花生糖？

答：(24) 個。

2. 遊樂場的小火車 1 節長 9 公尺，7 節共長多少公尺？

答：(63) 公尺。

3. 1 盒毛巾有 6 條，櫃子裡有 8 盒，共有幾條毛巾？

答：(48) 條。

4. 安安 1 次可以搬 3 個箱子，9 次共可以搬幾個箱子？

答：(27) 個。

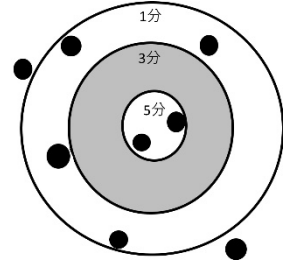
5. 1 盒雞精有 7 罐，爸爸買了 5 盒，共有幾罐雞精？

答：(35) 罐。

2-4-3
練習回

一、填填看看：(每格1分，共14分)

1. 小魯在沙包比賽中，丟擲了8個沙包，請你數一數小魯在本次沙包比賽中，得到幾分？



(1). 數一數在每個區域的沙包數量，完成表格。

得分	5分	3分	1分	0分
沙包個數	2	0	4	2

(2). 算算看看，小魯得到幾分？

$$5 \times (2) = (10), \text{ 共 } (10) \text{ 分。}$$

$$3 \times (0) = (0), \text{ 共 } (0) \text{ 分。}$$

$$1 \times (4) = (4), \text{ 共 } (4) \text{ 分。}$$

$$0 \times (2) = (0), \text{ 共 } (0) \text{ 分。}$$

$$\text{小魯的總分是 } (14) \text{ 分。}$$

二、回想乘法表，想想看看答案相同的算式

式是哪一個？(每格1分，共14分)

(1) 哪二個數相乘答案是63？

$$(7) \times (9) = 63$$

$$(9) \times (7) = 63$$

(2) 哪二個數相乘答案是56？

$$(8) \times (7) = 56$$

$$(7) \times (8) = 56$$

(3) 哪二個數相乘，答案是 16?

$$(2) \times (8) = 16$$

$$(8) \times (2) = 16$$

$$(4) \times (4) = 16$$

三、填填看看：(每格 2 分，共 14 分)

1. $1+1+1+1+1+1+1 = 1 \times (7) = (7)$

2. 池塘裡有 0 隻青蛙，共有 (0) 張嘴，
有 (0) 個眼睛，有 (0) 條腿。

3. 8 個 10 減少 5 個 10 是 (3) 個 10，共是 (30)。

四、寫出乘法算式，做做看看：(每小題 4 分，共 28 分)

1. 一副眼鏡有 2 片鏡片。

(1). 9 副眼鏡共有幾片鏡片?

(18) 片

(2). 10 副眼鏡共有幾片鏡片?

(20) 片

(3). 11 副眼鏡共有幾片鏡片?

(22) 片

2. 模型小火車的 1 節車廂長 10 公分。

(1). 3 節車廂共長多少公分？

(30) 公分

(2). 4 節車廂共長多少公分？

(40) 公分

3. 校慶活動時，每一個班級有 3 頂遮陽帳。

(3). 9 個班級共幾頂遮陽帳？

(27) 頂

(4). 11 個班級共幾頂遮陽帳？

(33) 頂

五、寫出乘法算式，並用直式記錄下來。
(每題 6 分，共 30 分)

1. 1 包牙刷有 3 枝，4 包牙刷共幾枝？

答：12 枝。

2. 6 個氣球綁成 1 串，7 串共幾個氣球？

答：42 個。

3. 桌上有 3 個花瓶，每個花瓶都插著 6

朵花，全部有幾朵花？

答： 18 朵。

4. 1 隻章魚有 8 隻腕足，10 隻章魚共有幾

隻腕足？

答： 80 隻。

5. 1 串衛生紙有 8 包，5 串共有幾包衛生

紙？

答： 40 包。

2-4 綜合回
第一回

一、先完成九九乘法表，再回答問題。
(乘法表每格 1 分，每格 2 分，共 35 分)

×	1	2	3	4	5	6	7	8	9
1	1	2	3	4	5	6	7	8	9
2	2	4	6	8	10	12	14	16	18
3	3	6	9	12	15	18	21	24	27
4	4	8	12	16	20	24	28	32	36
5	5	10	15	20	25	30	35	40	45
6	6	12	18	24	30	36	42	48	54
7	7	14	21	28	35	42	49	56	63
8	8	16	24	32	40	48	56	64	72
9	9	18	27	36	45	54	63	72	81

1. 8×6 比 8×3 多 (3) 個 8，也就 是 多 (24)。

2. 比 7×9 少 2 個 7 的 是 (7) \times (7)

3. 和 4×3 答 案 相 同 的 算 式 有 :

(3) \times (4)，(6) \times (2)，(2) \times (6)。

二、比一比，在 () 裡 填 入 $>$ 、 $<$ 或 $=$: (每小題 3 分，共 12 分)

1. 8×2 ($>$) 14

2. 2×9 ($<$) 20

3. 4×8 ($=$) 8×4

4. $40 (\quad = \quad) 5 \times 8$

三、計算題：(每格 2 分，共 10 分)

1. $4 \times 6 = 8 \times (3)$

2. $5 \times 6 = 6 \times (5)$

3. $2 \times 8 = 4 \times (4)$

4. $8 \times 5 = 5 \times (8)$

5. $3 \times 9 = 9 \times (3)$

四、圈出正確的算式，並寫出答案。(圈選 3 分，答案 3 分，共 18 分)

1. 大隊接力二年級有 9 組，1 組有 4 個小朋友，二年級共有幾個小朋友參加大隊接力？

$9 + 4$

9×4

4×9

答：(36) 個。

2. 1 個箱子需要 2 人來搬，4 個箱子共需要幾人來搬？

$4 + 4$

4×2

$2 + 2 + 2 + 2$

答：(8) 人。

4. 麵包店每個麵包特價 5 元，小玉買了 9 個，共要付幾元？

5×9

$9 + 5$

9×5

答：(45) 元。

五、寫出乘法算式，並算出答案：(每題5分，共25分)

1. 1隻手有5根手指頭，6隻手共有幾根手指頭？

答：(30) 根。

2. 1輛小巴士限乘8人，客運公司有9輛小巴士，最多可坐幾人？

答：(72) 人。

3. 1串香蕉有10根，6串香蕉共有幾根？

答：(60) 根。

4. 1張貼紙上有7個星星，5張貼紙上共有幾個星星？

答：(35) 個。

5. 1輛三輪車有3個輪子，6輛三輪車共有幾個輪子？

答：(18) 個。

2-4 綜合回
第二回

一、依照指示填寫看看。(每格 2 分，共 12 分)

1. 1 盒雞蛋有 8 顆。

幾盒雞蛋	1	3	7	9
幾顆雞蛋	8	24	56	72

2. 1 串香蕉有 7 根。

幾串香蕉	1	2	5	8
幾根香蕉	7	14	35	56

二、在()中填入 $+$ 或 \times ，讓算式正確。(每格 2 分，共 12 分)

1. $2(\times)6=12$

2. $10(+)10=20$

3. $5(\times)5=25$

4. $10(+)5=15$

5. $10(\times)8=80$

6. $7(\times)7=49$

三、用乘法算式紀錄下來，並填上答案。(每題 5 分，共 30 分)

1. 1 個花盆種 3 棵仙人掌。

(1) 4 個花盆共種幾棵仙人掌?

(12) 棵

(2) 5 個花盆共種幾棵仙人掌?

(15) 棵

(3) 6 個花盆共種幾棵仙人掌?

(18) 棵

2. 1 束氣球有 9 顆。

(1) 3 束共有幾顆氣球？

(27) 顆

(2) 5 束共有幾顆氣球？

(45) 顆

(3) 7 束共有幾顆氣球？

(63) 顆

四、先算出答案，再用直式記錄下來。

(每題 3 分，共 18 分)

1. $5 \times 6 = (30)$

	十位	個位
		5
×		6
<hr/>		
	3	0

4. $6 \times 8 = (48)$

	十位	個位
		6
×		8
<hr/>		
	4	8

2. $9 \times 4 = (36)$

	十位	個位
		9
×		4
<hr/>		
	3	6

5. $2 \times 8 = (16)$

	十位	個位
		2
×		8
<hr/>		
	1	6

3. $7 \times 3 = (21)$

	十位	個位
		7
×		3
<hr/>		
	2	1

6. $3 \times 8 = (24)$

	十位	個位
		3
×		8
<hr/>		
	2	4

五、應用題：（每題 7 分，共 28 分）

1. 一把直尺 9 元，嘉嘉 買了 3 把尺，付給老闆 50 元，可以找回多少錢？

答： 23 元。

2. 一包色紙有 10 張，姐姐買了 3 包，妹妹買了 4 包，二人一共買了幾張色紙？

答： 70 張。

3. 一盒水蜜桃有 6 顆，爸爸買了 6 盒，送給朋友 4 盒後，還剩下幾顆水蜜桃？

答： 12 顆。

4. 一枝鉛筆賣 5 元，弟弟買了 5 枝，妹妹買了 3 枝，二人共要付幾元？

答： 40 元。

2-4
進階挑戰區

一、填填看看：(每格 3 分，共 15 分)

1. $5+5+5+5+5+5=5\times(6)=(30)$

2. 7×9 比 7×2 多 (7) 個 7。

3. $4\times 3=(3)\times 4$

4. $(8)\times 9=9\times 8$

二、圈圈看看。(每個算式 1 分，共 30 分)

1. 把答案比 30 大的算式圈起來。

5×9	2×3	6×4	1×9	3×7	9×5
8×5	7×9	7×0	4×8	10×5	6×8
9×9	0×3	1×5	10×4	6×2	3×9

2. 圈出答案是 32 的算式。

6×4	4×8	6×2	8×3
3×8	6×3	2×9	4×6
3×6	8×4	4×5	9×2

三、連連看看，意思相同的連起來。

(每線 3 分，共 15 分)

- | | | | |
|----------------|---|---|------------|
| 1. 7×9 | ● | ● | ㄅ. $6+6+6$ |
| 2. 6×3 | ● | ● | ㄆ. 7 的 9 倍 |
| 3. 5×9 | ● | ● | ㄇ. 5 個 9 |
| 4. 3×6 | ● | ● | ㄊ. 3 的 6 倍 |
| 5. 9×5 | ● | ● | ㄊ. 5 的 9 倍 |

四、應用題：（每題 8 分，共 40 分）

1. 小汪汪重 5 公斤，巧巧的體重是汪汪的 6 倍，巧巧有幾公斤重？

答：30 公斤。

2. 一枝冰淇淋 9 元，妹妹帶了 60 元，買 5 枝冰淇淋後，還剩下多少元？

答：15 元。

3. 10 個氣球綁成一束，哥哥訂了 7 束布置展覽會的會場，不小心破了 5 個，還剩下幾個？

答：65 個。

4. 一輛計程車可以坐 5 個人，9 輛計程車最多可以坐幾個人？

答：45 人。

5. 一條緞帶長 4 公分，小美把 10 條緞帶接排起來，一共長多少公分？

答：40 公分。