

2-4-1
練習回

一、選擇題：(每題 2 分，共 10 分)

() 1. 3 個 2 和 7 個 2 合起來是幾個 2? (① 14 ② 10 ③ 20)

() 2. 美勞課每人要用 2 張彩色紙，一組有 6 人，一組共要準備幾張彩色紙才夠?
(① 6 ② 8 ③ 12) 張。

() 3. 桌上有 8 個盤子，每個盤子都放 4 顆蘋果，全部盤子裡共幾顆蘋果?
(① $8 \times 4 = 32$ ② $4 \times 8 = 32$
③ $8 + 4 = 12$)

() 4. 一個豆莢有 4 顆豆子，8 個豆莢有幾顆豆子?
(① 32 ② 34 ③ 36) 顆。

() 5. 一籠包子有 8 個，買 7 籠包子，共買了幾個包子?
(① 15 ② 54 ③ 56) 個。

二、連_カ連_カ看_看：(每_只題_ち 2 分_分，共_共 10 分_分)

1. 把_の意_思一_一樣_の的_の連_カ起_起來_來：

(1) 2的 _の 5倍 _倍 。	•	ㄟ 5有 _有 3個 _個
(2) 5有 _有 5個 _個 。	•	ㄨ 2+2+2+2+2
(3) 2 × 4	•	ㄒ 5 + 5
(4) 5 × 2	•	ㄑ 5 × 5
(5) 5 + 5 + 5	•	ㄨ 2有 _有 4個 _個

三、做_做做_看看_看：(每_只小_小題_ち 4 分_分，共_共 20 分_分)

1. 每_只張_張圖_圖畫_畫紙_紙賣_賣 4 元_元。

(1) 3 張_張圖_圖畫_畫紙_紙賣_賣幾_幾元_元? () 元_元

(2) 4 張_張圖_圖畫_畫紙_紙賣_賣幾_幾元_元? () 元_元

(3) 5 張_張圖_圖畫_畫紙_紙賣_賣幾_幾元_元? () 元_元

2. 每_只隻_隻章_章魚_魚有_有 8 隻_隻腕_腕足_足。

(1) 5 隻_隻章_章魚_魚共_共有_有幾_幾隻_隻腕_腕足_足?

加_加法_法算_算式_式：

乘_乘法_法算_算式_式：

() 隻_隻

(2) 再加 1 隻章魚，共有幾隻腕足？

加法算式：

乘法算式：

() 隻

四、把作法記下來：(每題 5 分，共 10 分)

1. 1 隻鳥有 2 隻腳，9 隻鳥共有幾隻腳？

() 隻

2. 1 輛車可坐 5 人，6 輛車可坐幾人？

() 人

五、填充題：(每格 5 分，共 20 分)

1. (1) 1 輛電車有 8 節車廂，5 輛電車共有

() 節車廂。

(2) 再加 4 輛是 () 輛電車，共有

() 節車廂。

2. 4×8 比 4×3 多 () 個 4。

六、應用題：(每題 6 分，共 30 分)

1. 阿惠每天喝 2 瓶鮮奶，8 天共喝了幾瓶鮮奶？

答：() 瓶鮮奶。

2. 小華整理故事書，每次拿 4 本，小華拿了 5 次，共拿了多少本故事書？

答：() 本故事書。

3. 1 包色紙有 5 張，8 包共有幾張色紙？

答：() 張色紙。

4. 1 包花片有 8 個，妹妹只有 8 包，共有幾個花片？

答：() 個花片。

5. 隊伍一排有 8 位小朋友，4 排共有幾位小朋友？

答：() 位小朋友。

2-4-2
練習回

一、選擇題：(每題 2 分，共 10 分)

- () 1. 「 $9 \times 5 = 45$ 」這個算式中，被乘數是比多少少？ (① 9 ② 5 ③ 45)
- () 2. $9 \times 7 = 63$ ， $7 \times \square = 63$ ， \square 中的數字是比多少少？
(① 63 ② 9 ③ 7)
- () 3. 4 個 7 比 10 個 7 少幾個 7？
(① 8 ② 7 ③ 6) 個。
- () 4. 6×8 和 6×4 相差幾個 6？
(① 4 ② 5 ③ 6) 個。
- () 5. 1 包糖果有 7 顆，9 包糖果共有幾顆糖果？ (① 70 ② 63 ③ 36) 顆。

二、計算題：(每題 2 分，共 12 分)

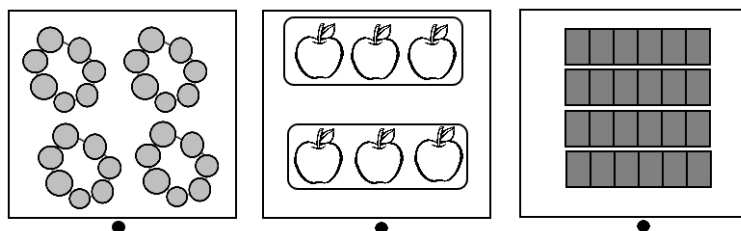
1. $3 \times 4 = (\quad)$
2. $9 \times 3 = (\quad)$
3. $6 \times 5 = (\quad)$
4. $7 \times 5 = (\quad)$

5. $9 \times 8 = (\quad)$

6. $7 \times 9 = (\quad)$

三、連_カ連_カ看_テ：(每_ク線_ノ 2 分_ヲ，共_ト 12 分_ヲ)

把_カ意_ヲ思_ハ一_ニ樣_ノ的_ヲ連_カ起_シ來_カ：



6 的_カ 4 倍_ヲ 2 個_ノ 3 4 個_ノ 7

6×4 7×4 3×2

四、比_ビ一_ニ比_ビ，在_テ () 裡_ニ填_キ入_ル >、< 或_ハ =：(每_ク題_ト 2 分_ヲ，共_ト 8 分_ヲ)

1. $7 \times 3 (\quad) 23$

2. $36 (\quad) 6 \times 6$

3. $80 (\quad) 9 \times 9$

4. $9 \times 8 (\quad) 70$

五、填充題：(每格 2 分，共 28 分)

1. 1 盒壽司有 7 個。

(1) 小美買 4 盒，是 () 個 7，共有 () 個壽司。


(2) 小貞買 6 盒，是 () 個 7，共有 () 個壽司。

(3) 小貞比小美多了 () 個 7，共多了 () 個壽司。

2. (1) 1 枝關東煮有 3 個丸子，8 枝關東煮共有 () 個丸子。

(2) 再加 1 枝是 () 枝關東煮，共有 () 個丸子。

3. 下圖是 () 的 () 倍，共有 () 個圓形。



4. 9 的 4 倍和 9 的 2 倍合起來是 9 的 () 倍，也就是 ()。

六、應用題：(每題 6 分，共 30 分)

1. 1 盒花生糖有 6 個，媽媽買了 4 盒，共買了多少個花生糖？

答：() 個。

2. 遊樂場的小火車 1 節長 9 公尺，7 節共長多少公尺？

答：() 公尺。

3. 1 盒毛巾有 6 條，櫃子裡有 8 盒，共有幾條毛巾？

答：() 條。

4. 安安 1 次可以搬 3 個箱子，9 次共可以搬幾個箱子？

答：() 個。

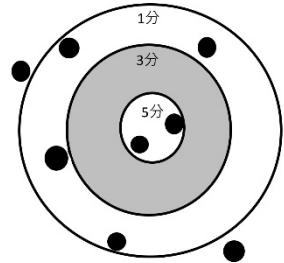
5. 1 盒雞精有 7 罐，爸爸買了 5 盒，共有幾罐雞精？

答：() 罐。

2-4-3
練習回

一、填填看看：(每格1分，共14分)

1. 小魯在沙包比賽中，丟擲了8個沙包，請你數一數小魯在本次沙包比賽中，得到幾分？



(1). 數一數在每個區域的沙包數量，完成表格。

得分	5分	3分	1分	0分
沙包個數				

(2). 算算看看，小魯得到幾分？

$5 \times (\quad) = (\quad)$ ，共()分。

$3 \times (\quad) = (\quad)$ ，共()分。

$1 \times (\quad) = (\quad)$ ，共()分。

$0 \times (\quad) = (\quad)$ ，共()分。

小魯的總分是()分。

二、回想乘法表，想想看看答案相同的算式是哪一個？(每格1分，共14分)

(1) 哪二個數相乘答案是63？

$(\quad) \times (\quad) = 63$

$(\quad) \times (\quad) = 63$

(2) 哪二個數相乘答案是56？

$(\quad) \times (\quad) = 56$

$(\quad) \times (\quad) = 56$

(3) 哪₃二₂個₂數₂相₂乘₂答₂案₂是₂ 16?

$$(\quad) \times (\quad) = 16$$

$$(\quad) \times (\quad) = 16$$

$$(\quad) \times (\quad) = 16$$

三₃、 填₃填₃看₃：(每₃格₃ 2 分₃， 共₃ 14 分₃)

1. $1+1+1+1+1+1+1= 1 \times (\quad) = (\quad)$

2. 池₂塘₂裡₂有₂ 0 隻₂青₂蛙₂， 共₂有₂(\quad)張₂嘴₂，
有₂(\quad)個₂眼₂睛₂， 有₂(\quad)條₂腿₂。

3. 8 個₂ 10 減₂少₂ 5 個₂ 10 是₂(\quad)個₂ 10， 共₂是₂
(\quad)。

四₄、 寫₄出₄乘₄法₄算₄式₄， 做₄做₄看₄：(每₄小₄題₄ 4
分₄， 共₄ 28 分₄)

1. 一₂副₂眼₂鏡₂有₂ 2 片₂鏡₂片₂。

(1) 9 副₂眼₂鏡₂共₂有₂幾₂片₂鏡₂片₂?

(\quad) 片₂

(2) 10 副₂眼₂鏡₂共₂有₂幾₂片₂鏡₂片₂?

(\quad) 片₂

(3) 11 副₂眼₂鏡₂共₂有₂幾₂片₂鏡₂片₂?

(\quad) 片₂

2. 模型小火車的 1 節車廂長 10 公分。

(1) 3 節車廂共長多少公分？

() 公分

(2) 4 節車廂共長多少公分？

() 公分

3. 校慶活動時，每一個班級有 3 頂遮陽帳。

(1) 9 個班級共幾頂遮陽帳？

() 頂

(2) 11 個班級共幾頂遮陽帳？

() 頂

五、寫出乘法算式，並用直式記錄下來。(每題 6 分，共 30 分)

1. 1 包牙刷有 3 枝，4 包牙刷共幾枝？

2. 6 個氣球綁成 1 串，7 串共幾個氣球？

3. 桌上有 3 個花瓶，每個花瓶都插著 6 朵花，全部有幾朵花？

4. 1 隻章魚有 8 隻腕足，10 隻章魚共有幾隻腕足？

5. 1 串衛生紙有 8 包，5 串共有幾包衛生紙？

2-4 綜合回
第一回

一、先完成九九乘法表，再回答問題。
(乘法表每格 1 分，每格 2 分，共 35 分)

×	1	2	3	4	5	6	7	8	9
1	1	2	3	4	5		7	8	9
2	2	4	6		10	12	14	16	18
3	3	6		12	15	18		24	
4	4	8	12	16		24	28	32	36
5	5	10	15	20	25	30	35	40	45
6	6	12	18	24	30	36	42		54
7	7			28	35			56	63
8		16	24		40	48	56	64	72
9	9	18		36	45	54	63	72	

1. 8×6 比 8×3 多 () 個 8，也就是多 ()。

2. 比 7×9 少 2 個 7 的是 () \times ()。

3. 和 4×3 答案相同的算式有：

() \times ()、() \times ()、() \times ()。

二、比一比，在 () 裡填入 $>$ 、 $<$ 或 $=$ ：
(每小題 3 分，共 12 分)

1. 8×2 () 14

2. 2×9 () 20

3. 4×8 () 8×4

4. $40 (\quad) 5 \times 8$

三、計算題：(每格 2 分，共 10 分)

1. $4 \times 6 = 8 \times (\quad)$

2. $5 \times 6 = 6 \times (\quad)$

3. $2 \times 8 = 4 \times (\quad)$

4. $8 \times 5 = 5 \times (\quad)$

5. $3 \times 9 = 9 \times (\quad)$

四、圈出正確的算式，並寫出答案。(圈選 3 分，答案 3 分，共 18 分)

1. 大隊接力二年級有 9 組，1 組有 4 個小朋友，二年級共有幾個小朋友參加大隊接力？

$9 + 4$

9×4

4×9

答：(\quad) 個

2. 1 個箱子需要 2 人來搬，4 個箱子共需要幾人來搬？

$4 + 4$

4×2

$2 + 2 + 2 + 2$

答：(\quad) 人

4. 麵包店每個麵包特價 5 元，小玉買了 9 個，共要付幾元？

5×9

$9 + 5$

9×5

答：(\quad) 元

五、寫出乘法算式，並算出答案：(每題5分，共25分)

1. 1隻手有5根手指頭，6隻手共有幾根手指頭？

答：() 根。

2. 1輛小巴士限乘8人，客運公司有9輛小巴士，最多可坐幾人？

答：() 人。

3. 1串香蕉有10根，6串香蕉共有幾根？

答：() 根。

4. 1張貼紙上有7個星星，5張貼紙上共有幾個星星？

答：() 個。

5. 1輛三輪車有3個輪子，6輛三輪車共有幾個輪子？

答：() 個。

2-4 綜合回
第二回

一、依照指示填寫。 (每格 2 分，共 12 分)

1. 1 盒雞蛋有 8 顆。

幾盒雞蛋	1	3	7	9
幾顆雞蛋	8			

2. 1 串香蕉有 7 根。

幾串香蕉	1	2	5	8
幾根香蕉	7			

二、在()中填入 $+$ 或 \times ，讓算式正確。(每格 2 分，共 12 分)

1. $2()6=12$ 2. $10()10=20$
 3. $5()5=25$ 4. $10()5=15$
 5. $10()8=80$ 6. $7()7=49$

三、用乘法算式紀錄下來，並填上答案。(每題 5 分，共 30 分)

1. 1 個花盆種 3 棵仙人掌。

(1) 4 個花盆共種幾棵仙人掌?
() 棵

(2) 5 個花盆共種幾棵仙人掌?
() 棵

(3) 6 個花盆共種幾棵仙人掌?
() 棵

2. 1 束氣球有 9 顆。

(1) 3 束共有幾顆氣球？

() 顆

(2) 5 束共有幾顆氣球？

() 顆

(3) 7 束共有幾顆氣球？

() 顆

四、先算出答案，再用直式記錄下來。

(每題 3 分，共 18 分)

1. $5 \times 6 = (\quad)$

	十位	個位
\times		

4. $6 \times 8 = (\quad)$

	十位	個位
\times		

2. $9 \times 4 = (\quad)$

	十位	個位
\times		

5. $2 \times 8 = (\quad)$

	十位	個位
\times		

3. $7 \times 3 = (\quad)$

	十位	個位
\times		

6. $3 \times 8 = (\quad)$

	十位	個位
\times		

五、應用題：（每題 7 分，共 28 分）

1. 1 把直尺 9 元，嘉嘉 買了 3 把尺，付給老闆 50 元，可以找回多少錢？

2. 1 包色紙有 10 張，姐姐買了 3 包，妹妹買了 4 包，二人一共買了幾張色紙？

3. 1 盒水蜜桃有 6 顆，爸爸買了 6 盒，送給朋友 4 盒後，還剩下幾顆水蜜桃？

4. 1 枝鉛筆 5 元，弟弟買了 5 枝，妹妹買了 3 枝，二人共要付幾元？

2-4
進階挑戰區

一、填填看看：(每格 3 分，共 15 分)

1. $5+5+5+5+5+5=5\times(\quad)=(\quad)$
2. 7×9 比 7×2 多()個 7。
3. $4\times 3=(\quad)\times 4$
4. $(\quad)\times 9=9\times 8$

二、圈圈看看。(每個算式 1 分，共 30 分)

1. 把答案比 30 大的算式圈起來。

5×9	2×3	6×4	1×9	3×7	9×5
8×5	7×9	7×0	4×8	10×5	6×8
9×9	0×3	1×5	10×4	6×2	3×9

2. 圈出答案是 32 的算式。

6×4	4×8	6×2	8×3
3×8	6×3	2×9	4×6
3×6	8×4	4×5	9×2

三、連連看看，意思相同的連起來。

(每線 3 分，共 15 分)

- | | |
|------------------|--------------|
| 1. 7×9 ● | ● ㄅ. $6+6+6$ |
| 2. 6×3 ● | ● ㄆ. 7 的 9 倍 |
| 3. 5×9 ● | ● ㄇ. 5 個 9 |
| 4. 3×6 ● | ● ㄏ. 3 的 6 倍 |
| 5. 9×5 ● | ● ㄏ. 5 的 9 倍 |

四、應用題：（每題 8 分，共 40 分）

1. 小狗汪汪重 5 公斤，巧巧的體重是汪汪的 6 倍，巧巧有幾公斤重？
2. 一枝冰淇淋 9 元，妹妹帶了 60 元，買 5 枝冰淇淋後，還剩下多少元？
3. 10 個氣球綁成一束，哥哥訂了 7 束布置展覽會的會場，不小心破了了 5 個，還剩下幾個？
4. 一輛計程車可以坐 5 個人，9 輛計程車最多可以坐幾個人？
5. 一條緞帶長 4 公分，小美把 10 條緞帶接排起來，一共長多少公分？