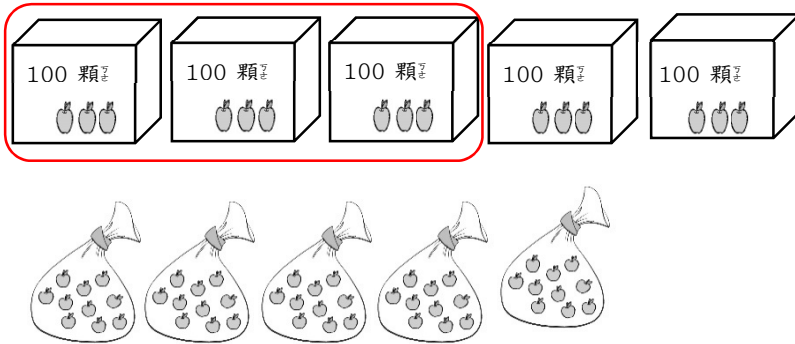


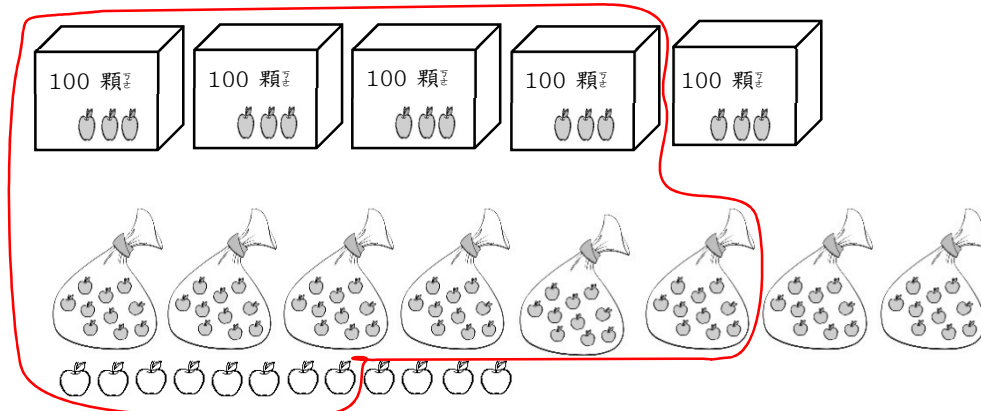
2-3-1
練習回

一、畫畫看看：(每題 10 分，共 20 分)

1. 圈出 300 個蘋果。(圈法不唯一)



2. 圈出 468 個蘋果。(圈法不唯一)



二、連連看看：(每題 4 分，共 16 分)

把正確的寫法和讀法連起來：

- | | | | |
|--------|---|---|---------|
| 1. 427 | ● | ● | 二、二百四十七 |
| 2. 724 | ● | ● | 七、四百二十七 |
| 3. 274 | ● | ● | 四、七百二十七 |
| 4. 247 | ● | ● | 七、二百七十四 |

三、做做看看：(每小題 4 分，共 16 分)

怎麼讀？怎麼寫？填一填：

1. 「三百一十五」寫作 (315)。
2. 「912」讀作 (九百一十二)。
3. 「340」讀作 (三百四十)。
4. 「七百九十一」寫作 (719)。

四、填填看看：(每格 8 分，共 48 分)

1 箱鉛筆有 100 枝，1 盒鉛筆有 10 枝。

1. 3 箱鉛筆共有 (300) 枝。
2. 5 箱又 4 盒鉛筆共有 (540) 枝。
3. 2 箱、7 盒和 8 枝鉛筆共有 (278) 枝。
4. 349 枝鉛筆可裝成 (3) 箱、(4) 盒和 (9) 枝。

2-3-2
練習回

一、選擇題：(每題 5 分，共 20 分)

(1) 1. 一張 500 元鈔票可以換幾張



(① 5 ② 10 ③ 15) 張。

(3) 2. 一張 500 元鈔票可以換幾個十元

元硬幣？

(① 10 ② 15 ③ 50) 個。

(2) 3. 一張 500 元鈔票可以換幾個



50 圓硬幣？ (① 5 ② 10 ③ 15) 個。

(3) 4. 一張 500 元鈔票可以換幾個一

元硬幣？

(① 50 ② 100 ③ 500) 個。

二、比较大小，在 () 裡填入 $>$ 或 $<$ ：(每

小題 4 分，共 40 分)：

1. 906 ($>$) 690

2. 301 ($<$) 三百一十

3. 四百五十九 ($<$) 495

4. 1000 ($>$) 999

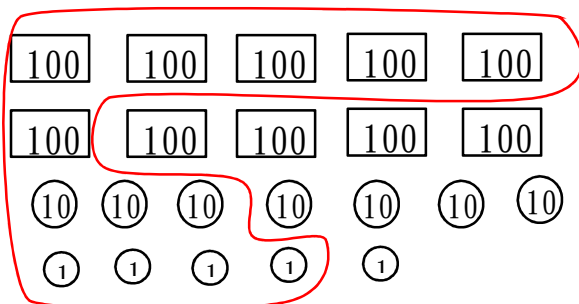
5. 473 ($>$) 374

6. $189 < 289$

7. $599 < 601$

8. $752 < 802$

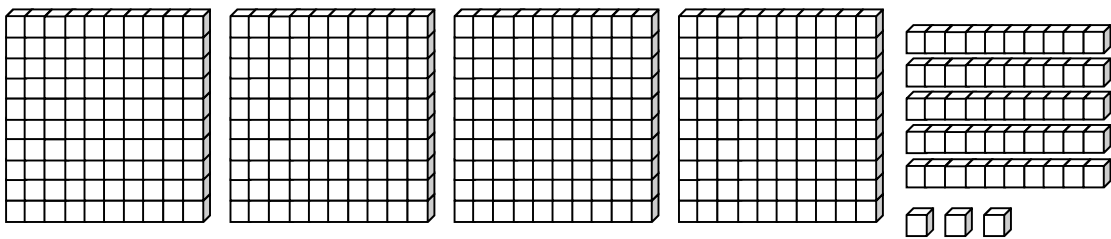
三、圈出 634 元，並回答問題(圈出錢幣 8 分、每格 4 分，共 20 分) (畫法不唯一)



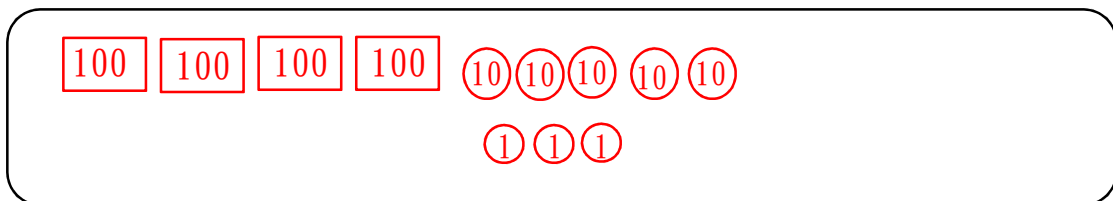
634 有 (6) 個 100、(3) 個 10 和 (4) 個 1。

四、畫畫看看：(畫圖 8 分，每格 3 分，共 20 分)

1. 畫 100、10、1 來表示下面積木的數量，並回答問題：



畫畫看看：



共有 (4) 個 100，(5) 個 10，(3) 個 1，合起

來是 (453)。

2-3-3
練習回

一、選擇題：(每題 4 分，20 分)

- (3) 1. 一件外套比一件裙子貴 80 元，一件裙子 290 元，買一件外套要幾元？ (① 210 ② 298 ③ 370) 元。
- (1) 2. 妹妹只有 285 元，姐姐比妹妹多 37 元，姐姐有多少元？ (① 322 ② 248 ③ 297) 元。
- (3) 3. 姑姑想要買一條 929 元的絲巾，但是她只有 760 元，她還需要多少錢才夠？ (① 189 ② 179 ③ 169) 元。
- (1) 4. 媽媽煮了一些水餃，全家吃了 263 顆，還剩下 15 顆沒吃。媽媽一共煮了幾顆水餃？ (① 278 ② 258 ③ 248) 顆。
- (1) 5. 姐姐採了一些草莓，再採 68 顆，就有 335 顆，姐姐採了多少顆草莓？ (① 267 ② 308 ③ 403) 顆。

二、計算問題を、用直式で計算看：(毎題を 4 分、
20 分)

1. $643 + 47 = 690$

2. $587 - 179 = 408$

3. $775 - 392 = 383$

4. $126 + 294 = 420$

5. $422 + 381 = 803$

三、連_カ連_カ看_テ：(每_ヒ線_ヲ 2 分_ヲ，16 分_ヲ)

1. 把_レ答_ヲ案_ヲ相_ト同_ク的_ヲ連_カ起_シ來_カ：

(1) $289 + 502$ ●————● ㄅ. 791

(2) $334 + 529$ ●————● ㄆ. 486

(3) $129 + 357$ ●————● ㄏ. 863

(4) $527 + 165$ ●————● ㄘ. 692

2. 把_レ答_ヲ案_ヲ相_ト同_ク的_ヲ連_カ起_シ來_カ：

(1) $167 - 23$ ●————● ㄅ. 242

(2) $289 - 47$ ●————● ㄆ. 144

(3) $358 - 124$ ●————● ㄏ. 234

(4) $585 - 482$ ●————● ㄘ. 103

四、在_レ()中_ニ填_キ入_ル >、< 或_チ =：(每_ヒ格_ヲ 3 分_ヲ，
12 分_ヲ)

1. $399 + 210$ (>) $620 - 19$

2. $700 - 190$ (>) $650 - 141$

3. $625 + 185$ (=) $545 + 265$

4. $880 + 103$ (>) $993 - 30$

五、應用題：（每題 4 分，共 32 分）

1. 果園裡有 827 個蜜棗，農夫今天摘了 281 個，果園裡還剩下幾個蜜棗？

答： 546 個。

2. 老師原有 275 枝鉛筆，送給學生 127 枝後，還剩下幾枝鉛筆？

答： 148 枝。

3. 一盒蛋捲賣 275 元，一盒巧克力比一盒蛋捲便宜 80 元，一盒巧克力賣幾元？

答： 195 元。

4. 快樂課輔班的閱讀角落有 328 本故事繪本和 150 本科學探索，二種書合起來共有幾本？

答： 478 本。

5. 用有()的算式記錄下來，再算出答案。

操場上原有 408 人，一些小朋友進教室後，還有 32 人在操場上，進教室的小朋友有幾人？

答： 376 人。

6. 安徒生童話故事有 950 頁，哥哥昨天看了 105 頁，今天看了 137 頁，還剩下幾頁沒看？

答： 708 頁。

7. 用有()的算式記錄下來，再算出答案。

香香麵包店做蛋糕用去 437 顆雞蛋，
還剩下 65 顆，香香麵包店原來有幾顆
雞蛋？

答： 502 顆。

8. 佳琪有 382 張小熊貼紙，哥哥又給他
118 張，現在佳琪有幾張小熊貼紙？

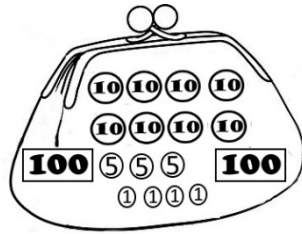
答： 500 張。

2-3 綜合回
第一回

一、選擇題：(每題 4 分，共 20 分)

(2) 1. 這是小明的錢包，小明有多少元？

(① 294 ② 299 ③ 301) 元。



(3) 2. 1 張  可以換成

(① 3 張  ② 10 張 
③ 10 張 ) 。

(3) 3. 下面哪一個數最小？

(① 590 ② 509 ③ 395) 。

(1) 4. 三位數比大小時，應該先比較哪一個位上的數字？

(① 百位 ② 十位 ③ 個位) 。

(1) 5. 十位數字是 0、百位數字是 7、個位數字是 9 的數是

(① 709 ② 907 ③ 970) 。

二、連讀連看：(每題線 3 分，共 12 分)

把正確的讀法與寫法連起來：

1. 803 ㄅ. 九百三十
2. 576 ㄆ. 八百零三
3. 421 ㄇ. 五百七十六
4. 930 ㄏ. 四百二十一

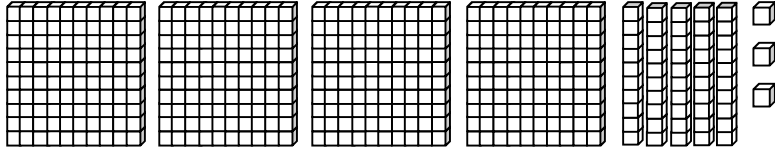
三、填填看：(每題 2 分，共 36 分)

1. 690 的百位數字是 (6)、十位數字是 (9)、個位數字是 (0)。
2. 804 有 (4) 個一、(0) 個十和 (8) 個百。
3. 100 顆彈珠裝成一盒，10 顆彈珠裝成一袋。
- (1) 哥哥有 4 盒又 3 袋彈珠，是 (430) 顆。
- (2) 姐姐有 360 顆彈珠，最多可以裝成 (3) 盒，剩下 (6) 袋。
- (3) 小寶有 408 顆彈珠，最多可以裝成 (4) 盒，剩下 (8) 顆。
4. 100 支筷子裝成一袋，爸爸有 399 支筷子，還差 (1) 支就可以裝滿 4 袋。
5. 依序填入數字：
- (1) 458 → 459 → (460) → (461) → (462) → 463
- (2) 805 → 810 → (815) → (820) → 825 → 830

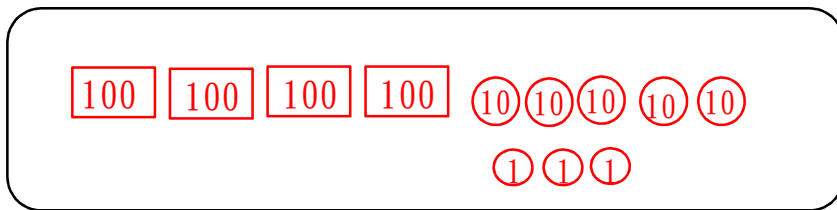
四、畫畫看看：（畫圖 4 分，每格 1 分，共 7 分）

用 $\boxed{100}$ 、 $\textcircled{10}$ 、 $\textcircled{1}$ 來表示積木的數量，並回答

問題：



畫畫看看：



共畫了 (4) 個 $\boxed{100}$ ，(5) 個 $\textcircled{10}$ 和

(3) 個 $\textcircled{1}$ ，合起來是 (453) 個 $\textcircled{1}$ 。

(本題做法不唯一，請依據學生作圖批改。)

五、應用題：（每題 5 分，共 25 分）

1. 用直式記錄下來，並驗算。

老師有 234 顆糖，送給小朋友 109 顆

後，還剩下幾顆糖？

答：125 顆。

2. 比 699 多 101 的數字是多多少？

答：800。

3. 一本貼紙簿可以收集 350 張貼紙，東東買了 2 本貼紙簿，他最多可以收集幾張貼紙？

答： 700 張。

4. 先算什麼？再算什麼？

小兵有 520 元，他買了一包 60 元的餅乾和一组 90 元的文具後，請問他還剩下多少元？

先算：

再算：

答： 370 元。（本題做法不唯一）

5. 佳佳花了 368 元買了一件洋裝後，他還剩下 73 元，請問佳佳原有多少錢？

答： 441 元。

2-3 綜合回
第二回

一、填填看看：(每格 4 分，共 32 分)

1. 博幼運動會的會場準備了六百瓶果汁、七百五十瓶礦泉水、八百零五瓶運動飲料和九百一十七瓶牛奶。

用阿拉伯數字記下來：

- (1) 果汁準備了 (600) 瓶。
 (2) 礦泉水準備了 (750) 瓶。
 (3) 運動飲料準備了 (805) 瓶。
 (4) 牛奶準備了 (917) 瓶。
2. 2 個百、18 個 10 和 9 個 1，可以換成 3 個百、(8) 個 10 和 (9) 個 1，合起來是 (389)。
3. 百位數字是 7、十位數字是 9、個位數字是 3 的三位數是 (793)。

二、數量不夠的，畫 100、10 補到正確的數量：(每題 5 分，共 10 分)

1. 754(畫法不唯一)

100 100 100 100 100 100 100
 10 10 10 10 10 1 1 1

2. 506(畫法不唯一)

100 100 100 100
 10 10 10 10 10 10 10 10 10
 1 1 1 1 1 1

三、用直式計算看：（每題 4 分，共 28 分）

1. $472 + 86 = 558$

2. $584 - 65 = 519$

3. $147 + 299 = 446$

4. $658 - 352 = 306$

5. $264 + 156 = 420$

6. $700 - 180 = 520$

7. $287 + 113 = 400$

四、應用題：（每題 6 分，共 30 分）

1. 哥哥有 309 元，姐姐有 217 元，二人合起來有多少錢？

答：526 元。

2. 小香原有 860 元，買故事書用去一些錢後，還剩下 256 元，小香買故事書用去多少錢？

答：604 元。

3. 先算什麼？再算什麼？用直式記錄下來。

中秋烤肉活動，原有 167 位男生和 154 位女生報名，後來有 17 位取消，請問共有幾人報名？

先算：

再算：

答：304 位。（作答順序不唯一）

4. 小偉折了 128 隻紙鶴，明美比小偉多 83 隻，請問明美折了幾隻紙鶴？

答： 211 隻。

5. 用有()的算式記錄下來，再算出答案。

家驊上個月存了一些錢，這個月又存了 226 元，家驊現在有 469 元，請問家驊上個月存了多錢？

答： 243 元。

2-3
進階挑戰區

一、連_カ連_カ看_テ：(每_ク線_ヲ 3 分_ヲ，共_ト 33 分_ヲ)

1. 三_タ位_ノ數_ヲ中_ニ，圈_ミ起_ス來_カ的_キ⑥代_カ表_ス什_ニ麼_ト?連_カ上_テ正_シ確_カ的_キ意_ヲ義_ヲ。

- | | | | |
|---------|---|---|--------|
| (1) 5⑥7 | ● | ● | ウ. 6 |
| (2) ⑥84 | ● | ● | エ. 600 |
| (3) 16⑥ | ● | ● | カ. 60 |
-

2. 將_シ正_シ確_カ的_キ讀_カ法_ヲ和_シ寫_シ法_ヲ連_カ起_ス來_カ。

- | | | | |
|---------|---|---|---|
| (1) 408 | ● | ● | ウ. 四 _ハ 百 _カ 零 _カ 八 _ツ |
| (2) 480 | ● | ● | エ. 四 _ハ 百 _カ 八 _ツ 十 _ア 八 _ツ |
| (3) 488 | ● | ● | カ. 四 _ハ 百 _カ 八 _ツ 十 _ア |
-

3. 將_シ答_カ案_ヲ相_ト同_ク的_キ算_ハ式_ヲ連_カ起_ス來_カ。

- | | | | |
|-------------|---|---|-----------|
| (1) 95+556 | ● | ● | ウ. 526-13 |
| (2) 438+75 | ● | ● | エ. 826-18 |
| (3) 276+59 | ● | ● | カ. 660-9 |
| (4) 408+400 | ● | ● | ク. 904-52 |
| (5) 700+152 | ● | ● | コ. 398-63 |
-

二、在_テ() 裡_ニ填_ミ入_ル>或_ハ<：(每_ク題_ヲ 3 分_ヲ，共_ト 15 分_ヲ)

1. 223 (<) 303
2. 837 (<) 937
3. 700 (>) 699
4. 546 (<) 592
5. 780 (<) 784

三、用直式計算看：（每題 4 分，共 20 分）

1. $438+62 = 500$

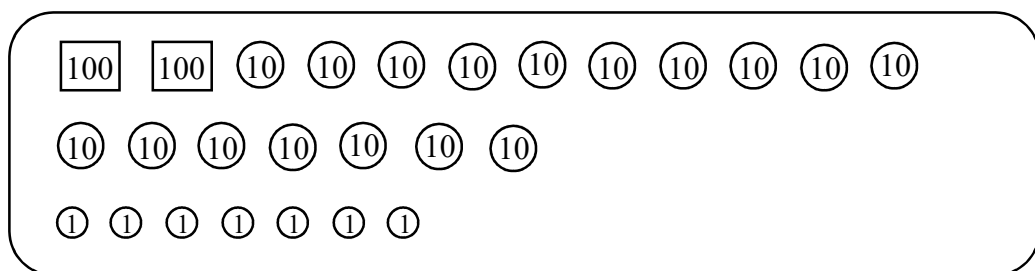
2. $179+621 = 800$

3. $351-260 = 91$

4. $573-34 = 539$

5. $96+282 = 378$

四、做做看：（每題 4 分，共 12 分）



這些是大同存的錢，他想要買一本 386 元的字典，他的錢不夠幾元？

答：不夠 (9) 元。

2. 佳呈想要買一雙 455 元的球鞋，他要怎樣付錢才會剛剛好？把需要的錢圈出來。

(畫法不唯一)

3. 這些是小美撲克牌裡全部的錢，如果小美買了一件 200 元的裙子，她還剩下多少錢？先把裙子的錢圈出來，再回答問題。

(畫法不唯一)

答：剩下(90)元。

五、應用題：(每題 5 分，共 20 分)

1. 張小明這一次定期考查國語、數學和生活的總分是 268 分，他的國語考了 92 分，數學考了 85 分，請問他的生活考了幾分？

答：91 分。

2. 博_カ幼_コ課_カ輔_ホ班_バ一_ヒ年_{ネン}級_{キョウ}有_ア 265 人_{ニン}，二_ニ年_{ネン}級_{キョウ}比_ヒ一_ヒ年_{ネン}級_{キョウ}多_カ 78 人_{ニン}，請_ク問_ハ二_ニ年_{ネン}級_{キョウ}有_ア幾_ク人_{ニン}？

答_コ： 343 人_{ニン}。

3. 大_オ同_ト書_{シヤ}局_{キョウ}今_{イマ}天_{テン}一_{ヒト}共_ニ賣_ウ了_{シマ} 546 本_{ポン}書_{シヤ}，上_ウ午_{ノヒ}賣_ウ出_シ 225 本_{ポン}，下_{シモ}午_{ノヒ}賣_ウ出_シ幾_ク本_{ポン}書_{シヤ}？

答_コ： 321 本_{ポン}。

4. 電_カ影_カ院_{イン}前_{マエ}有_ア 285 人_{ニン}在_イ排_ケ隊_{テイ}，小_コ嘉_カ排_ケ在_イ第_ニ 24 個_ゴ，排_ケ在_イ小_コ嘉_カ後_{ノチ}面_{オモテ}的_ク有_ア幾_ク個_ゴ人_{ニン}？

答_コ： 261 人_{ニン}。