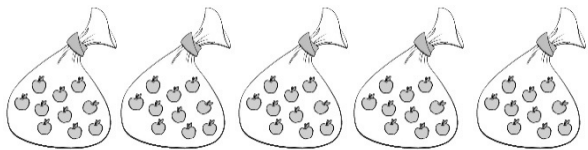
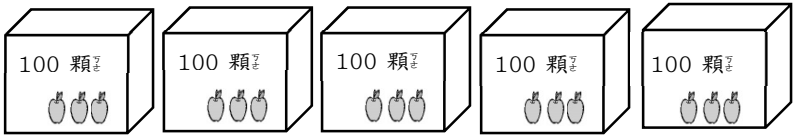



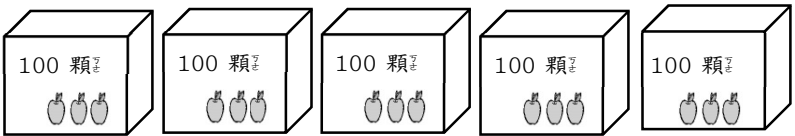
2-3-1  
練習回

一、畫畫看看：(每題 10 分，共 20 分)

1. 圈出 300 個。



2. 圈出 461 個。



二、連連看看：(每題 4 分，共 16 分)

把正確的寫法和讀法連起來：

- |          |               |
|----------|---------------|
| 1. 427 ● | ● ㄅ 二 百 四 十 七 |
| 2. 724 ● | ● ㄅ 四 百 二 十 七 |
| 3. 274 ● | ● ㄅ 七 百 二 十 四 |
| 4. 247 ● | ● ㄅ 二 百 七 十 四 |

三、做做看看：(每小題 4 分，共 16 分)

怎麼讀？怎麼寫？填一填：

1. 「三百一十五」寫作 ( )。
2. 「912」讀作 ( )。
3. 「340」讀作 ( )。
4. 「七百九十九」寫作 ( )。

四、填填看看：(每格 8 分，共 48 分)

1 箱鉛筆有 100 枝，1 盒鉛筆有 10 枝。

1. 3 箱鉛筆共有 ( ) 枝。
2. 5 箱又 4 盒鉛筆共有 ( ) 枝。
3. 2 箱、7 盒和 8 枝鉛筆共有 ( ) 枝。
4. 349 枝鉛筆可裝成 ( ) 箱、( ) 盒和 ( ) 枝。

2-3-2  
練習回

一、選擇題：（每題 5 分，共 20 分）

( ) 1. 一張 500 元鈔票可以換幾張



?

( ① 5    ② 10    ③ 15 ) 張。

( ) 2. 一張 500 元鈔票可以換幾個十元

元硬幣？

( ① 10    ② 15    ③ 50 ) 個。

( ) 3. 一張 500 元鈔票可以換幾個



50 圓硬幣？ ( ① 5    ② 10    ③ 15 ) 個。

( ) 4. 一張 500 元鈔票可以換幾個一

元硬幣？

( ① 50    ② 100    ③ 500 ) 個。

二、比较大、小，在 ( ) 裡填入  $>$  或  $<$ ：（每

小題 4 分，共 40 分）：


1. 906 ( ) 690
2. 301 ( ) 三百一十
3. 四百五十九 ( ) 495
4. 1000 ( ) 999
5. 473 ( ) 374

6. 189 ( ) 289

7. 599 ( ) 601

8. 752 ( ) 802

三、圈出 634 元，並回答問題：(圈出錢幣 8 分、每格 4 分，共 20 分)

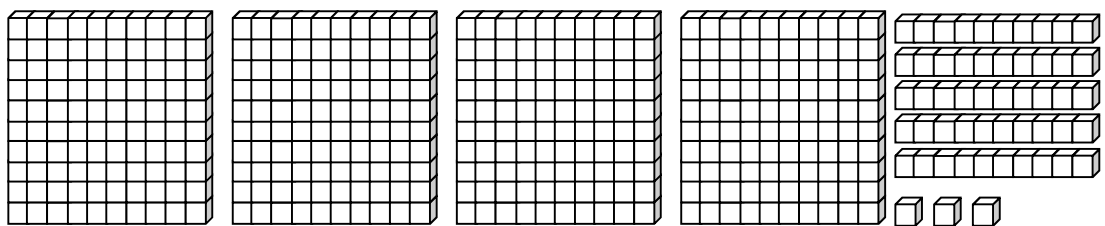


634 有 ( ) 個 100、( ) 個 10 和 ( ) 個 1。

四、畫畫看：(畫圖 8 分，每格 3 分，共 20 分)

1. 畫 100、10、1 來表示下面積木的數量，並

回答問題：



畫畫看：

共有 ( ) 個 100，( ) 個 10，( ) 個 1，

合起來是 ( )。

2-3-3  
練習回

一、選擇題：(每題 4 分，共 20 分)

- ( ) 1. 一件外套比一件裙子貴 80 元，一件裙子 290 元，買一件外套要幾元？ ( ① 210 ② 298 ③ 370 ) 元。
- ( ) 2. 妹妹只有 285 元，姐姐比妹妹多 37 元，姐姐有多少元？ ( ① 322 ② 248 ③ 297 ) 元。
- ( ) 3. 姑姑想要買一條 929 元的絲巾，但是她只有 760 元，她還需要多少錢才夠？ ( ① 189 ② 179 ③ 169 ) 元。
- ( ) 4. 媽媽煮了一些水餃，全家吃了 263 顆，還剩下 15 顆沒吃。媽媽一共煮了幾顆水餃？ ( ① 278 ② 258 ③ 248 ) 顆。
- ( ) 5. 姐姐採了一些草莓，再採 68 顆，就有 335 顆，姐姐採了多少顆草莓？ ( ① 267 ② 308 ③ 403 ) 顆。

二、計算問題を、用直式で計算せよ：(各問題 4 分、  
共 20 分)

1.  $643 + 47$

2.  $587 - 179$

3.  $775 - 392$

4.  $126 + 294$

5.  $422 + 381$

三、連<sub>カ</sub>連<sub>カ</sub>看<sub>テ</sub>：(每<sub>ク</sub>線<sub>ノ</sub> 2 分<sub>ヲ</sub>，共<sub>テ</sub> 16 分<sub>ヲ</sub>)

1. 把<sub>レ</sub>答<sub>ヲ</sub>案<sub>ヲ</sub>相<sub>ト</sub>同<sub>ク</sub>的<sub>ヲ</sub>連<sub>カ</sub>起<sub>シ</sub>來<sub>カ</sub>：

(1)  $289 + 502$  ● ●  $7.791$

(2)  $334 + 529$  ● ●  $7.486$

(3)  $129 + 357$  ● ●  $7.863$

(4)  $527 + 165$  ● ●  $7.692$

2. 把<sub>レ</sub>答<sub>ヲ</sub>案<sub>ヲ</sub>相<sub>ト</sub>同<sub>ク</sub>的<sub>ヲ</sub>連<sub>カ</sub>起<sub>シ</sub>來<sub>カ</sub>：

(1)  $167 - 23$  ● ●  $7.242$

(2)  $289 - 47$  ● ●  $7.144$

(3)  $358 - 124$  ● ●  $7.234$

(4)  $585 - 482$  ● ●  $7.103$

四、在<sub>レ</sub>( )中<sub>ニ</sub>填<sub>キ</sub>入<sub>ル</sub> >、< 或<sub>チ</sub> = ：(每<sub>ク</sub>格<sub>ヲ</sub> 3 分<sub>ヲ</sub>，  
共<sub>テ</sub> 12 分<sub>ヲ</sub>)

1.  $399 + 210$  ( )  $620 - 19$

2.  $700 - 190$  ( )  $650 - 141$

3.  $625 + 185$  ( )  $545 + 265$

4.  $880 + 103$  ( )  $993 - 30$

五、應用題：（每題 4 分，共 32 分）

1. 果園裡有 827 個蜜棗，農夫今天摘了 281 個，果園裡還剩下幾個蜜棗？

2. 老師原有 275 枝鉛筆，送給學生 127 枝後，還剩下幾枝鉛筆？

3. 一盒蛋捲賣 275 元，一盒巧克力比一盒蛋捲便宜 80 元，一盒巧克力賣幾元？



4. 快樂課輔班的閱讀角落有 328 本故事繪本和 150 本科學探索，二種書合起來共有幾本？

5. 用有( )的算式記錄下來，再算出答案。

操場上原有 408 人，一些小朋友進教室後，還有 32 人在操場上，進教室的小朋友有幾人？

6. 安徒生童話故事有 950 頁，哥哥昨天看了 105 頁，今天看了 137 頁，還剩下幾頁沒看？

7. 用有( )的算式記錄下來，再算出答案。

香香麵包店做蛋糕用去 437 顆雞蛋，  
還剩下 65 顆，香香麵包店原來有幾顆  
雞蛋？

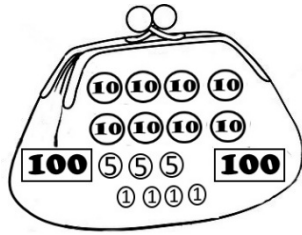
8. 佳琪有 382 張小熊貼紙，哥哥又給他  
118 張，現在佳琪有幾張小熊貼紙？

2-3 綜合回  
第一回

一、選擇題：(每題 4 分，共 20 分)

( ) 1. 這是小明的錢包，小明有多少元？

( ① 294    ② 299    ③ 301 ) 元。



( ) 2. 1 張  可以換成

( ① 3 張     ② 10 張   
③ 10 張  ) 。

( ) 3. 下面哪一個數最小？

( ① 590    ② 509    ③ 395 ) 。

( ) 4. 三位數比大小時，應該先比較哪一個位值的數字？

( ① 百位    ② 十位    ③ 個位 ) 。

( ) 5. 十位數字是 0、百位數字是 7、個位數字是 9 的數是

( ① 709    ② 907    ③ 970 ) 。

二、連連看：(每線 3 分，共 12 分)

把正確的讀法與寫法連起來：

- 803 ● ● 九百三十
- 576 ● ● 八百零三
- 421 ● ● 五百七十六
- 930 ● ● 四百二十一

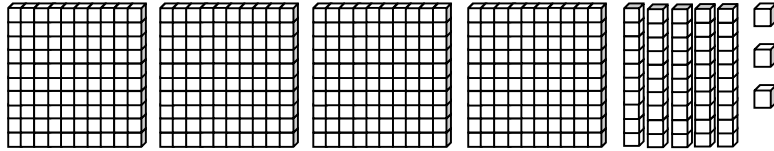
三、填填看：(每題 2 分，共 36 分)

- 690 的百位數字是 ( )、十位數字是 ( )、個位數字是 ( )。
- 804 有 ( ) 個一、( ) 個十和 ( ) 個百。
- 100 顆彈珠裝成一盒，10 顆彈珠裝成一袋。
  - 哥哥有 4 盒又 3 袋彈珠，是 ( ) 顆。
  - 姐姐有 360 顆彈珠，最多可以裝成 ( ) 盒，剩下可以裝成 ( ) 袋。
  - 小寶有 408 顆彈珠，最多可以裝成 ( ) 盒，剩下可以裝成 ( ) 袋，還剩下 ( ) 顆。
- 100 支筷子裝成一袋，爸爸有 399 支筷子，還差 ( ) 支就可以裝滿 4 袋。
- 依序填入數字：
  - 458 → 459 → ( ) → ( ) → ( ) → 463
  - 805 → 810 → ( ) → ( ) → 825 → 830


四、畫畫看看：（畫圖 4 分，每格 1 分，共 7 分）

用  $\boxed{100}$ 、 $\textcircled{10}$ 、 $\textcircled{1}$  來表示積木的數量，並回答

問題：



畫畫看看：



共畫了 ( ) 個  $\boxed{100}$ ，( ) 個  $\textcircled{10}$  和 ( )

個  $\textcircled{1}$ ，合起來是 ( ) 個  $\textcircled{1}$ 。

五、應用題：（每題 5 分，共 25 分）

1. 用直式記錄下來，並驗算。

老師有 234 顆糖，送給小朋友 109 顆

後，還剩下幾顆糖？

2. 比 699 多 101 的數字是多多少？

3. 一本貼紙簿可以收集 350 張貼紙，東東買了 2 本貼紙簿，他最多可以收集幾張貼紙？

4. 先算什麼？再算什麼？

小兵有 520 元，他買了一包 60 元的餅乾和一组 90 元的文具後，請問他還剩下多少元？

先算：

再算：

5. 佳佳花了 368 元買了一件洋裝後，他還剩下 73 元，請問佳佳原有多少錢？

## 2-3 綜合回 第二回

### 一、填填看看：(每題 4 分，共 32 分)

1. 博幼運動的會場準備了六百瓶果汁、七百五十瓶礦泉水、八百零五瓶運動飲料和九百一十七瓶牛奶。

用阿拉伯數字記下來：

- (1) 果汁準備了 (            ) 瓶。
- (2) 礦泉水準備了 (            ) 瓶。
- (3) 運動飲料準備了 (            ) 瓶。
- (4) 牛奶準備了 (            ) 瓶。

2. 2 個百、18 個 10 和 9 個 1，可以換成 3 個百、(            ) 個 10 和 (            ) 個 1，合起來是 (            )。

3. 百位數字是 7、十位數字是 9、個位數字是 3 的三位數是 (            )。

### 二、數量不夠的，畫 $\boxed{100}$ 、 $\textcircled{10}$ 補到正確的數量：(每題 5 分，共 10 分)

1. 754

$\boxed{100}$   $\boxed{100}$   $\boxed{100}$   $\boxed{100}$

$\textcircled{10}$   $\textcircled{10}$   $\textcircled{10}$   $\textcircled{10}$   $\textcircled{10}$   $\textcircled{1}$

2. 506

$\boxed{100}$   $\boxed{100}$   $\boxed{100}$

$\textcircled{10}$   $\textcircled{10}$   $\textcircled{10}$   $\textcircled{10}$   $\textcircled{10}$

$\textcircled{1}$   $\textcircled{1}$   $\textcircled{1}$   $\textcircled{1}$   $\textcircled{1}$   $\textcircled{1}$

三、用直式計算看：（每題 4 分，共 28 分）

1.  $472 + 86$

2.  $584 - 65$

3.  $147 + 299$

4.  $658 - 352$

5.  $264 + 156$

6.  $700 - 180$

7.  $287 + 113$



四、應用題：（每題 6 分，共 30 分）

1. 哥哥有 309 元，姐姐有 217 元，二人合起來有多少錢？

2. 小香原有 860 元，買故事書用去一些錢後，還剩下 256 元，買故事書用去多少錢？

3. 先算什麼？再算什麼？用直式記錄下來。

中秋烤肉活動，原有 167 位男生和 154 位女生報名，後來有 17 位取消，請問共有幾人報名？

先算：

再算：

4. 小偉折了 128 隻紙鶴，明美比小偉多 83 隻，請問明美折了幾隻紙鶴？

5. 用有( )的算式記錄下來，再算出答案。

家驊上個月存了一些錢，這個月又存了 226 元，家驊現在有 469 元，請問家驊上個月存了多錢？

2-3  
進階挑戰區

一、連連看：(每線 3 分，共 33 分)

1. 三位數中，圈起來的⑥代表什麼？連上正確的意義。

(1) 5⑥7      ●      ● ㄅ. 6

(2) ⑥84      ●      ● ㄅ. 600

(3) 16⑥      ●      ● ㄇ. 60

2. 將正確的讀法和寫法連起來。

(1) 408      ●      ● ㄅ. 四百零八

(2) 480      ●      ● ㄅ. 四百八十

(3) 488      ●      ● ㄇ. 四百八十

3. 將答案相同的算式連起來。

(1)  $95+556$       ●      ● ㄅ.  $526-13$

(2)  $438+75$       ●      ● ㄅ.  $826-18$

(3)  $276+59$       ●      ● ㄇ.  $660-9$

(4)  $408+400$       ●      ● ㄅ.  $904-52$

(5)  $700+152$       ●      ● ㄅ.  $398-63$

二、在 ( ) 裡填入  $>$  或  $<$ ：(每題 3 分，共 15 分)

1. 223 ( ) 303

2. 837 ( ) 937

3. 700 ( ) 699

4. 546 ( ) 592

5. 780 ( ) 784

三、用直式計算看：(每題 4 分，共 20 分)

1.  $438+62$

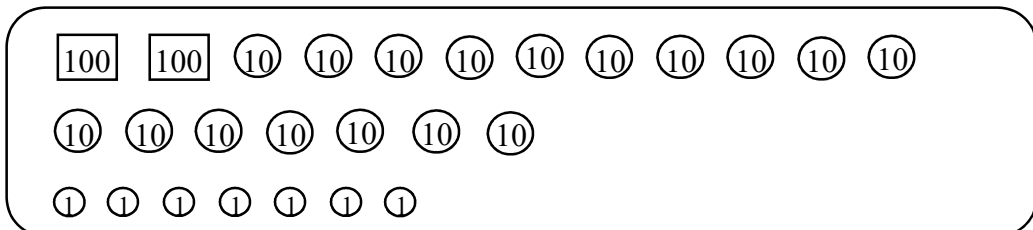
2.  $179+621$

3.  $351-260$

4.  $573-34$

5.  $96+282$

四、做做看：(每題 4 分，共 12 分)



這些是大同存的錢，他想要買一本 386 元的字典，他的錢不夠幾元？

答：不夠( )元。

2. 佳呈想要買一雙 455 元的球鞋，他要怎樣付錢才會剛剛好？把需要的錢圈出來。

100 100 100 100

10 10 10 10 10 10 10 10 10 10

10 10 10 10 10 10 10 10 10 10

1 1 1 1 1 1 1 1 1 1

3. 這些是小美撲滿裡全部的錢，如果小美買了一件 200 元的裙子，她還剩下多少錢？先把裙子的錢圈出來，再回答問題。

100

10 10 10 10 10 10 10 10 10 10

10 10 10 10 10 10 10 10

1 1 1 1 1 1 1 1 1 1

答：剩下( )元。

**五、應用題：(每題 5 分，共 20 分)**

1. 張小明這一次定期考查國語、數學和生活的總分是 268 分，他的國語考了 92 分，數學考了 85 分，請問他的生活考了幾分？

2. 博<sub>ㄅ</sub>幼<sub>ㄩ</sub>課<sub>ㄎ</sub>輔<sub>ㄨ</sub>班<sub>ㄅ</sub>一<sub>ㄟ</sub>年<sub>ㄩ</sub>級<sub>ㄟ</sub>有<sub>ㄩ</sub> 265 人<sub>ㄩ</sub>，二<sub>ㄟ</sub>年<sub>ㄩ</sub>級<sub>ㄟ</sub>比<sub>ㄩ</sub>一<sub>ㄟ</sub>年<sub>ㄩ</sub>級<sub>ㄟ</sub>多<sub>ㄩ</sub> 78 人<sub>ㄩ</sub>，請<sub>ㄩ</sub>問<sub>ㄩ</sub>二<sub>ㄟ</sub>年<sub>ㄩ</sub>級<sub>ㄟ</sub>有<sub>ㄩ</sub>幾<sub>ㄩ</sub>人<sub>ㄩ</sub>？

3. 大<sub>ㄉ</sub>同<sub>ㄊ</sub>書<sub>ㄕ</sub>局<sub>ㄅ</sub>今<sub>ㄐ</sub>天<sub>ㄊ</sub>一<sub>ㄟ</sub>共<sub>ㄩ</sub>賣<sub>ㄩ</sub>了<sub>ㄩ</sub> 546 本<sub>ㄩ</sub>書<sub>ㄩ</sub>，上<sub>ㄩ</sub>午<sub>ㄩ</sub>賣<sub>ㄩ</sub>出<sub>ㄩ</sub> 225 本<sub>ㄩ</sub>，下<sub>ㄩ</sub>午<sub>ㄩ</sub>賣<sub>ㄩ</sub>出<sub>ㄩ</sub>幾<sub>ㄩ</sub>本<sub>ㄩ</sub>書<sub>ㄩ</sub>？

4. 電<sub>ㄉ</sub>影<sub>ㄩ</sub>院<sub>ㄩ</sub>前<sub>ㄩ</sub>有<sub>ㄩ</sub> 285 人<sub>ㄩ</sub>在<sub>ㄩ</sub>排<sub>ㄩ</sub>隊<sub>ㄩ</sub>，小<sub>ㄒ</sub>嘉<sub>ㄐ</sub>排<sub>ㄩ</sub>在<sub>ㄩ</sub>第<sub>ㄩ</sub> 24 個<sub>ㄩ</sub>，排<sub>ㄩ</sub>在<sub>ㄩ</sub>小<sub>ㄒ</sub>嘉<sub>ㄐ</sub>後<sub>ㄩ</sub>面<sub>ㄩ</sub>的<sub>ㄩ</sub>有<sub>ㄩ</sub>幾<sub>ㄩ</sub>個<sub>ㄩ</sub>人<sub>ㄩ</sub>？