

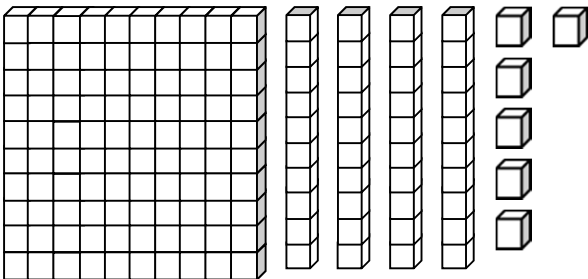
2-1-1  
練習回

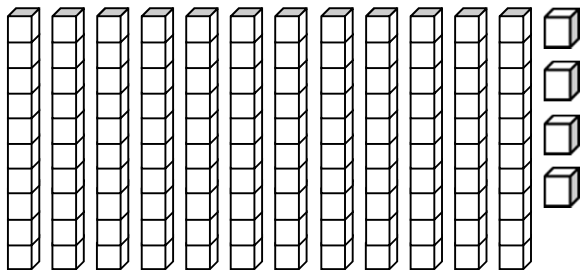
一、選擇題：(每題 5 分，共 10 分)

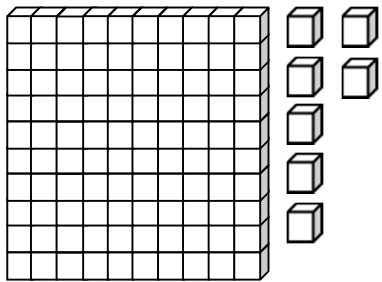
( ) 1. 1 個百、5 個十和 9 個一合起來是多  
少？ ( ① 195    ② 159    ③ 150 )

( ) 2. 「一百零三十一六」用數字寫做？  
( ① 136    ② 163    ③ 166 )

二、看圖填看：(每格 5 分，共 15 分)

1.  數看，共  
( ) 個。

2.  數看，共  
( ) 個。

3.  數看，共 ( )  
個。

三、填入適當的數字：(每格 3 分，共 18 分)

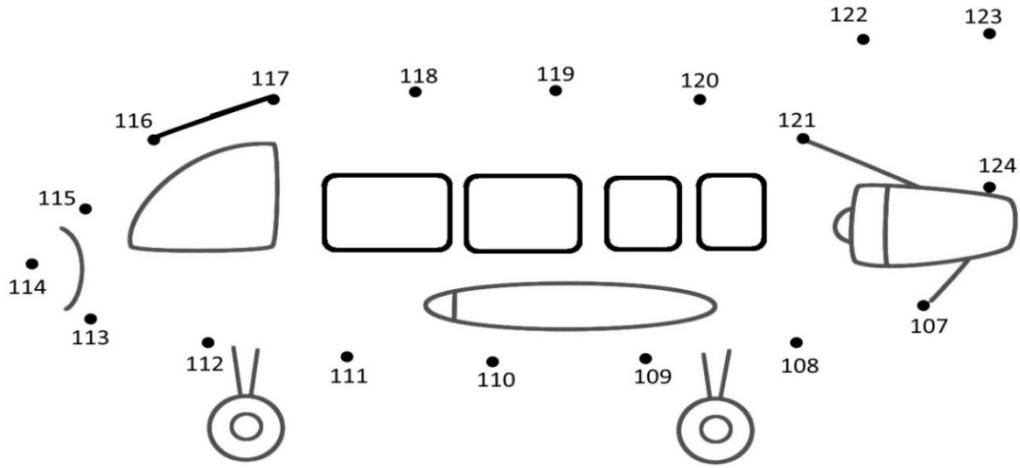
- 107 是 ( ) 個百、0 個十和 ( ) 個一合起來的。
- 146 是 1 個百、( ) 個十和 ( ) 個一合起來的。
- 13 個十和 8 個一合起來是 ( )。
- 比 134 多 10 的數是 ( )。

四、寫寫看看：(每題 5 分，共 25 分)

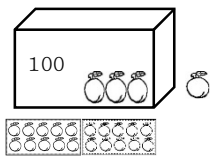
- 「一百二十」寫作 ( )。
- 「一百七十八」寫作 ( )。
- 「一百零七」寫作 ( )。
- 「165」讀作 ( )。
- 「149」讀作 ( )。

五、連々連々看々：(共々 32 分々)

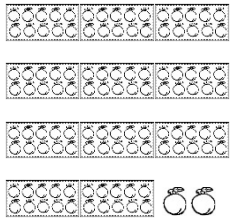
1. 依一順序把々數字連々起々來々。(每々線々 1 分々，共々 16 分々)



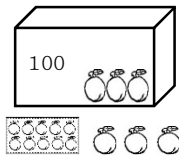
2. 數々數々看々有々多々少々顆々水々蜜々桃々？把々答々案々連々起々來々：(每々線々 4 分々，共々 16 分々)



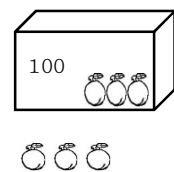
● 甲々 130



● 乙々 103



● 丙々 113



● 丁々 112

● 戊々 102

● 己々 121

2-1-2  
練習回

一、選擇題：(每題 3 分，共 12 分)

- (        ) 1. 下面哪一個數最大？  
( ① 71    ② 132    ③ 109 )
- (        ) 2. 下面哪一個數最小？  
( ① 174    ② 123    ③ 59 )
- (        ) 3. 有一個數比 122 大，比 124 小，這個數應該是幾？  
( ① 120    ② 123    ③ 125 )
- (        ) 4. 1 張 100 元可以換幾個 10 元？  
( ① 5 個    ② 10 個    ③ 100 個 )

二、填填看看：(每題 2 分，共 4 分)

1. 數數看看，共有多少元？



共有 (        ) 元

2. 數數看看，共有多少元？



共有 (        ) 元

三、比一比，填上“>”、“<”或“=”：(每題 3 分，共 12 分)

- 109 ( ) 190
- 178 ( ) 187
- 101 ( ) 一百一十
- 154 ( ) 一百五十四

四、做一做，看一看：(每格 2 分，共 20 分)

1. 下面各數中，由大到小依序寫出來。

99, 110, 91, 101, 113

( ) > ( ) > ( ) > ( ) > ( )

2. 下面各數中，由小到大的依序寫出來。

158, 124, 142, 101, 185

( ) < ( ) < ( ) < ( ) < ( )

五、畫一畫，看一看：(畫錢幣 4 分，每格 4 分，共 32 分)

1. 用 100、10、1 畫出 120，並回答問題：

有 ( ) 個 100、( ) 個 10 和 ( ) 個 1。

2. 用  $\boxed{100}$ 、 $\textcircled{10}$ 、 $\textcircled{1}$  畫出 173，並回答問題：

共有 ( ) 個 100、( ) 個 10 和  
( ) 個 1。

### 六、填填看看 (每格 4 分，共 20 分)

1. 找出正確的數字，並填入 ( ) 中

107	83	134	57	130	174
-----	----	-----	----	-----	-----

(1) 個位數字是 7 的數有：

( )。

(2) 十位數字是 3 的數有：

( )。

(3) 百位數字是 1 的數有：

( )。











2. 填入正確的數字：

(1) 個位數字是 0、十位數字是 6、百位數字是 1 的三位數是 ( )。

(2) 百位數字是 1、十位數字是 0、個位數字是 1 的三位數是 ( )。

2-1 綜合回  
第一回

一、選擇題：(每題 3 分，共 12 分)

- ( ) 1. 姐姐有 1 張  和 1 個 ，共可換成多少個 ？  
( ① 13 個    ② 14 個    ③ 15 個 )
- ( ) 2. 哥哥買了 1 個 140 元的模型玩具，可以怎麼付錢？  
( ① 12 個 10 元  
② 1 張 100 元和 4 個 10 元  
③ 1 張 200 元和 4 個 10 元 )
- ( ) 3. 「一百六十一」的阿拉伯數字如何表示？ ( ① 610    ② 160  
③ 016 )
- ( ) 4. 如下圖，這些錢 不夠 買哪一樣東西？  
        
( ① 125 元的香蕉  
② 86 元的柳橙  
③ 187 元的櫻桃 )

二、填填看看：(每格 4 分，共 40 分)

1. 將 10 瓶牛奶裝一盒，10 盒裝成一箱。

(1) 180 瓶牛奶可裝成( )箱又( )盒。

(2) 154 瓶牛奶可裝成( )箱又( )盒，剩下( )瓶。

2. 10 枝鉛筆裝一盒，10 盒裝成一箱。

(1) 甲班買了 1 箱又 5 盒，總共是( )枝。

(2) 乙班買了 1 箱又 9 枝，總共是( )枝。

(3) 丙班買了 1 箱 7 盒又 8 枝，總共是( )枝。

3. 1 張 100 可以換成( )個 10；也可以換成( )個 5。

三、勾選題：(共 28 分)

1. 剛好是 176 元的在( )裡打√。(每格 4 分)

( ) (1) 100 50 10 10 10 10 10 10 10

( ) (2) 50 50 50 10 10 10 10 5 10

( ) (3) 100 10 10 10 10 10 10 10 10 10 10 10

( ) (4) 50 50 10 10 10 10 10 10 10 5 10



2. 把比較大的數在( )裡打√。(每小題 4 分)

(1) 167 (      ), 176 (      )。


(2) 105 (      ), 150 (      )。

(3) 一百零七 (      ),

一百八十 (      )。

四、畫畫看看：(每題 10 分，共 20 分)

1. 可以怎麼付錢？



(1) 用 100、10 付錢：

(2) 用 100、50、10 付錢：

2-1 綜合回  
第二回

一、勾選題：(每題 5 分，共 10 分)

寫法正確的在 ( ) 裡打  $\checkmark$ ：

1. 一百一十

10010     110     101

( ) ( ) ( )

2. 一百五十四

145     10054     154

( ) ( ) ( )

二、依序填入數字：(每格 3 分，共 45 分)

1. 115 - 120 - ( ) - 130 - ( ) - ( )

2. 148 - 158 - ( ) - 178 - ( ) - ( )

3. ( ) - 102 - 104 - ( ) - 108 - ( )

4. ( ) - 199 - 198 - ( ) - ( ) - 195

5. 140 - ( ) - 136 - 134 - ( ) - ( )

三、填填看：(每格 3 分，共 33 分)

1. 比 166 多 10 的數是 ( )，比 166 少

10 的數是 ( )。

2. 把十位數字是 6 的數圈起來。
- ( 76 , 166 , 63 , 159 , 106 )
3. 100 個果凍裝成 1 箱，10 個果凍裝成 1 盒，小華買了 137 個果凍，可以裝成 (            ) 箱又 (            ) 盒，還剩下 (            ) 個。
4. 錢包裡有 13 個⑩和 5 個⑤，錢包裡共有 (            ) 元。
5. 圈出正確的數。
- (1) 比 129 大的數。
- ( 128 , 192 , 119 )
- (2) 比 191 小的數。
- ( 199 , 195 , 190 )
- (3) 比一百二十大的數。
- ( 139 , 一百一十 , 一百零二 )
- (4) 比 160 小的數。
- ( 一百五十三 , 168 , 一百七十三 )

四、畫畫看看：（每題 4 分，共 12 分）

要怎麼付錢才會剛好？用 100、10、5、1

畫畫看看。

1. 買一本 106 元的字典

2. 買一隻 184 元的布娃娃

3. 繳 150 元的電話費

2-1  
進階挑戰回

一、選擇題：(每題 4 分，共 20 分)

( ) 1. 哥哥買了  $140$  元的小汽車，可以怎麼付錢？

- ( ① 14 個 ⑩    ② 1 張 100 元和 3 個 ⑩    ③ 1 張 100 元和 4 個 ⑤ 元 )

( ) 2. 1 張  $100$ 、1 個 ⑩ 和 8 個 ① 再多多少，就會變成  $130$  元？

- ( ① 2 個 ①    ② 12 個 ①    ③ 2 個 ⑩ )

( ) 3. 「一百三十六」用數字如何表示？

- ( ① 136    ② 163    ③ 166 )

( ) 4. 小銘 原有  $132$  張貼紙，再買  $6$  張，就有多少張貼紙？

- ( ① 138    ② 139    ③ 146 ) 張

( ) 5. 從  $1$  數到  $200$ ，下面哪一個數會最後才數到？

- ( ① 108    ② 134    ③ 189 )

二、填填看看：(每格 4 分，共 40 分)

1.  $97 \rightarrow (\quad) \rightarrow 101 \rightarrow (\quad) \rightarrow 105$

2. 10 顆糖果裝一包，10 包糖果裝一桶。

(1) 1 桶又 5 包糖果，合起來是( )顆糖果。

(2) 12 包又 7 顆糖果，合起來是( )顆糖果。

(3) 169 顆糖果，可裝成( )桶又( )包，還剩下( )顆。

3. 晴晴的零用錢比一百四十五元多 2 個

⑩，晴晴有( )元。

4. 2 個 50 可以換成( )個 10；也可以換成( )個 1。

三、比大小：(每格 2 分，共 20 分)

1. 從小排到大：

143, 199, 168, 101, 110

( )  $\rightarrow$  ( )  $\rightarrow$  ( )  $\rightarrow$  ( )  $\rightarrow$  ( )

2. 從大排到小：

137, 182, 105, 99, 153

( )  $\rightarrow$  ( )  $\rightarrow$  ( )  $\rightarrow$  ( )  $\rightarrow$  ( )

四、畫畫看看：（每題 5 分，共 15 分）

用  $\boxed{100}$  表示 100， $\textcircled{10}$  表示 10， $\textcircled{1}$  表示 1。畫畫看看，用  $\boxed{100}$ 、 $\textcircled{10}$  和  $\textcircled{1}$  來表示下面各數：

1. 103

2. 200

3. 182

五、圈圈看看：（每題 5 分，共 5 分）

爸爸想買一本 183 元的書，爸爸可以怎麼付錢？在下面錢幣中圈出 183 元。

$\boxed{100}$   $\boxed{100}$

$\textcircled{10}$   $\textcircled{10}$   $\textcircled{10}$   $\textcircled{10}$   $\textcircled{10}$   $\textcircled{10}$   $\textcircled{10}$   $\textcircled{10}$   $\textcircled{10}$   $\textcircled{10}$

$\textcircled{10}$   $\textcircled{10}$   $\textcircled{10}$   $\textcircled{10}$   $\textcircled{10}$   $\textcircled{10}$   $\textcircled{10}$   $\textcircled{10}$   $\textcircled{10}$   $\textcircled{10}$

$\textcircled{1}$   $\textcircled{1}$   $\textcircled{1}$   $\textcircled{1}$   $\textcircled{1}$   $\textcircled{1}$   $\textcircled{1}$   $\textcircled{1}$   $\textcircled{1}$   $\textcircled{1}$