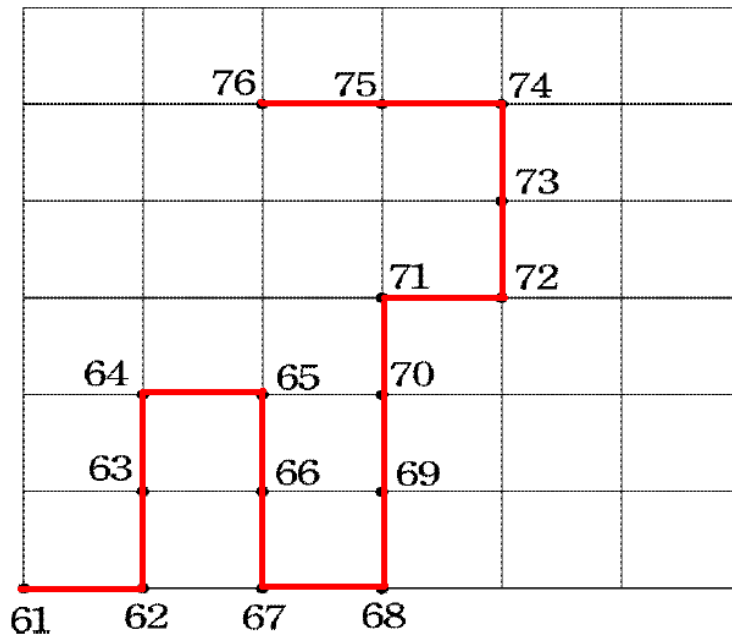


1-3-1
練習回



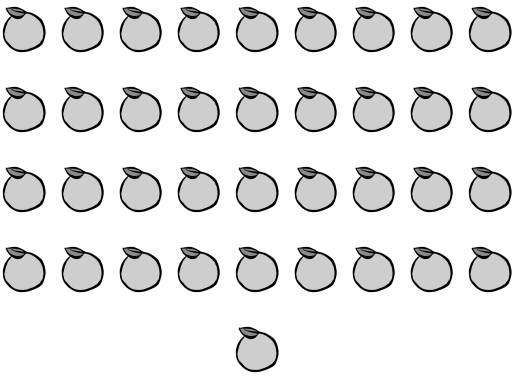





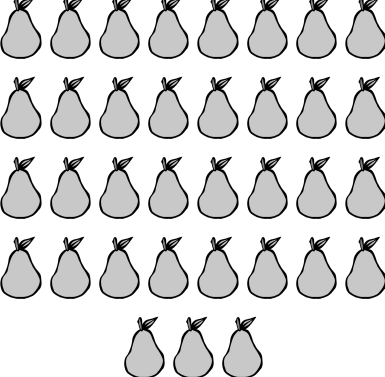

一、選擇題：（每題 4 分，共 20 分）

- (②) 1. 「 50 」 讀作什麼？ (①五× ②五×十^ろ ③五×零^ろ)
- (②) 2. $32 \rightarrow 34 \rightarrow \square \rightarrow 38 \rightarrow 40$ ， \square 中應填入哪一個數？
(①35 ②36 ③37)
- (③) 3. $10 \rightarrow 20 \rightarrow 30 \rightarrow \square \rightarrow 50$ ， \square 中應填入哪一個數？
(①31 ②35 ③40)
- (②) 4. 「 七^ろ十^ろ五^ろ 」 記作多少？ (①70 ②75 ③705)
- (①) 5. $20 \rightarrow 25 \rightarrow 30 \rightarrow 35 \rightarrow \square$ ， \square 中應填入哪一個數？
(①40 ②36 ③39)

二、將數字由 61 按照順序連到 76：(5 分)




三、把各個數目相同的數目用線連起來：(每題 4 分，共 20 分)

		28
		22
		46
		37
		35

四、圈出看：(5分)

圈出 40 顆蘋果。



五、填填看：(每格 5 分，共 50 分)

1. 在空格裡填上正確的數：

88 → (87) → 86 → 85 → (84)。

2. 在空格裡填上正確的數：

58 → (56) → 54 → 52 → (50)。

3. 在空格裡填上正確的數：

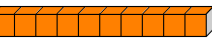


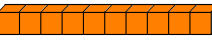




100 → (95) → 90 → 85 → (80) → (75)。

4. 「87」讀作 (八十七)；「九十二」記作 (92)。

5. 小韻和小涵排隊買車票，小韻排在第 19 個，小涵排在第 20 個，請問誰會先買到車票？ (小韻)

1-3-2
練習回

一、選擇題：(每題4分，共16分)

- (①) 1. 3 條  和 幾 個  合 起 來 一 樣 多 ？
(① 30 ② 33 ③ 35 個)
- (②) 2. 80 個  合 起 來 和 幾 條  一 樣 多 ？
(① 7 ② 8 ③ 9 條)
- (③) 3. 3 條  、 8 個  合 起 來 和 幾 個  一 樣 多 ？ (① 35 ② 83 ③ 38 個)
- (①) 4. 8 條  、 7 個  合 起 來 和 幾 個  一 樣 多 ？ (① 87 ② 78 ③ 88 個)

二、填充題：(每格4分，共48分)

1. 水果攤上有 很 多 柳 丁 ， 回 答 下 面 問 題 ：
- (1) 把 10 顆 柳 丁 裝 成 1 袋 ， 25 顆 柳 丁 最 多 可 裝 成 (2) 袋 ， 還 剩 下 (5) 顆 ； 「 25 」 表 示 有 (2) 個 10 和 (5) 個 1 。
- (2) 把 10 顆 柳 丁 裝 成 1 袋 ， 37 顆 柳 丁 最 多 可 裝 成 (3) 袋 ， 還 剩 下 (7) 顆 。

2. 把 答 案 填 在 定 位 板 上 ：

- (1) 3 個 10 和 7 個 1 (2) 7 個 10 和 3 個 1 合 起 來 的 數 。

十 位	個 位
3	7

十 位	個 位
7	3

(3) 8 個 10 和 3 個 1 合起來的數。

十位	個位
8	3

三、將數字大的打√：(每題 4 分，共 8 分)

1.

46	49
	√

2.

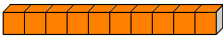




69	72
	√

四、連連看：(每條線 4 分，共 28 分)

十位數字為 4 個位數字為 5		76
5 個 10 和 4 個 1 合起來		67
十位數字為 7 個位數字為 6		45
6 個 10 和 7 個 1 合起來		54
		62
		35
		80

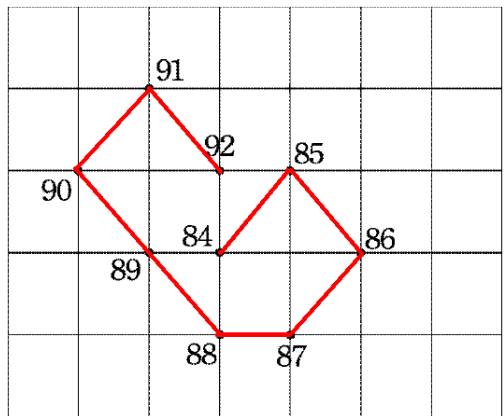
1-3 綜合回
第一回

一、選擇題：(每題 4 分，共 20 分)

- (②) 1. $42 \rightarrow 44 \rightarrow \square \rightarrow 48 \rightarrow 50$ ， \square 中應填入哪一個數？ (① 45 ② 46 ③ 47)
- (②) 2. $60 \rightarrow 55 \rightarrow \square \rightarrow 45 \rightarrow 40$ ， \square 中應填入哪一個數？ (① 49 ② 50 ③ 51)
- (②) 3. 5 條  和 6 個 ，合起來和幾個  一樣多？ (① 55 ② 56 ③ 57 個)
- (①) 4. 70 個  合起來和幾條  一樣多？ (① 7 ② 8 ③ 9 條)
- (②) 5. 「82」讀作：
(① 八十二 ② 八十有二 ③ 八十零二)

二、按照順序連接看：(每條線 1 分，共 8 分)

1. 把數字由 84 按照順序連到 92：



三、填充題：(每個空格 4 分，共 48 分)

- 「五十^カ六^カ」寫作 (56)。
- 在空格裡填上正確的數：
 - 40 → 50 → (60) → 70 → (80) → (90)
 - 64 → 62 → (60) → 58 → 56
 - 25 → 30 → (35) → 40 → 45
- 老皮跟阿寶去看電影，買電影票時有好多人排在排隊。老皮前面有 42 人，則老皮是排在第 (43) 個。阿寶排在第 38 個，則阿寶前面排了 (37) 個人。
- 「87」的十位數字是 (8)，個位數字是 (7)。
- 在定位板上寫出 3 個 10 和 4 個 1 合起來的數。

十位	個位
3	4

四、將數字大的打✓：(每題 2 分，共 4 分)

1.

36	42
	✓

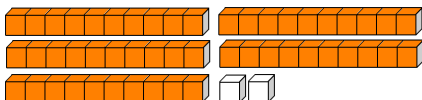
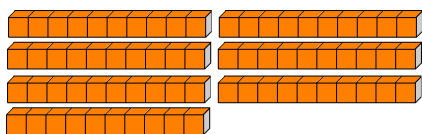
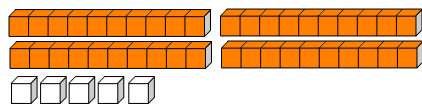
2.

66	69
	✓

五、連連看：(每條線 4 分，共 20 分)

十位數字為 6，個位數字為 4

4 個 10 和 6 個 1 合起來



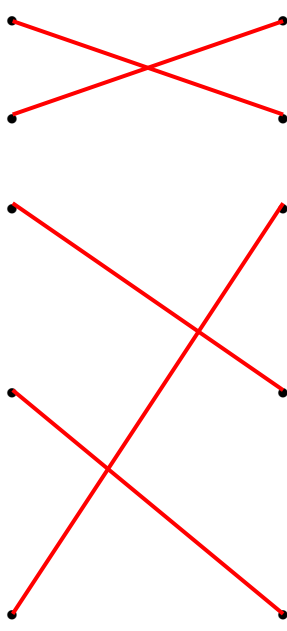
46

64

52

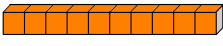




45

70



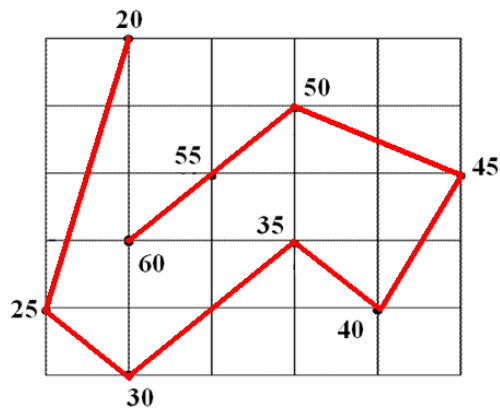
1-3 綜合回
第二回

一、選擇題：(每題 4 分，共 20 分)

- (②) 1. $98 \rightarrow 96 \rightarrow \square \rightarrow 92 \rightarrow 90$ ， \square 中應填入哪一個數？ (① 93 ② 94 ③ 95)
- (②) 2. $50 \rightarrow 60 \rightarrow \square \rightarrow 80 \rightarrow 90$ ， \square 中應填入哪一個數？ (① 65 ② 70 ③ 75)
- (②) 3. 9 條  和 6 個 ，合起來和幾個  一樣多？ (① 69 ② 96 ③ 66 個)
- (②) 4. 50 個  合起來和幾條  一樣多？ (① 4 ② 5 ③ 6 條)
- (②) 5. 「七十八」寫作：
(① 708 ② 78 ③ 87)

二、按照順序連接看：(每條線 1 分，共 8 分)

1. 把數字由 20 按照 5 個 1 數的順序連到 60：



三、填充題：(每個空格 4 分，共 48 分)

- 「九十九」寫作 (99)。
- 在空格裡填上正確的數：
 - 85 → 80 → (75) → 70 → (65) → (60)
 - 48 → 50 → (52) → 54 → 56
 - 60 → 50 → (40) → 30 → 20
- 阿拉蕾跟小少爺去遊樂園，有好多人在排隊。
 阿拉蕾前面有 25 人，則阿拉蕾是排在第 (26) 個。
 小少爺排在第 48 個，則小少爺前面排了 (47) 個人。
- 「56」是由 (5) 個 10 和 (6) 個 1 所組成的。
- 在定位板上寫出 4 個 10 和 7 個 1 合起來的數：

十位	個位
4	7

四、將數字大的打✓：(每題 2 分，共 4 分)

1.

98	89
✓	

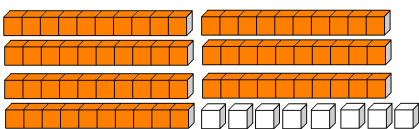
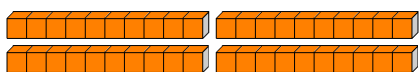
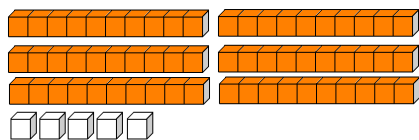
2.

35	39
	✓

五、連連看：(每條線 4 分，共 20 分)

十位數字為 9，個位數字為 3

3 個 10 和 9 個 1 合起來



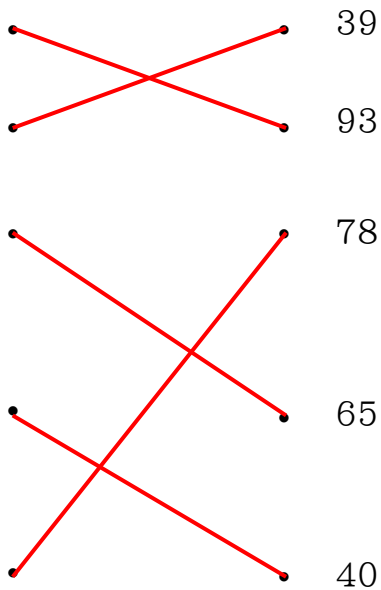
39

93

78

65

40



1-3
進階挑戰區

一、選擇題：(每題 4 分，共 12 分)

- (②) 1. 哪一個選項中的數比 76 大，而且比 80 小？ (① 75 ② 77 ③ 81)
- (②) 2. 數字「38」中的 3 代表的是： (① 3 ② 30 ③ 13)
- (①) 3. 數字「57」中的 7 代表的是： (① 7 ② 70 ③ 17)

二、依照數的大小排序：

(每個空格 3 分，共 24 分)

1. 把 77、85、68、90，「由大到小」排序。

(90) (85) (77) (68)

大 \longrightarrow 小




2. 把 55、88、77、66，「由小到大大」排序。

(55) (66) (77) (88)

小 \longrightarrow 大

三、根據下列表格，回答問題：

(每題 4 分，共 16 分)

1	2	3	4	5	6	7	8	9	10
11	12	13	14	15	16	17	18	19	20
21	22	23	24	25	26	27	28	29	30
31		33	34	35	36	37	38	39	40
41	42	43		45	46	47	48		50

- (1)  在第 (32) 格。
- (2)  在第 (44) 格。
- (3) 這個表格共有 (50) 格。
- (4)  在第 (49) 格。

四、圈出看字：(每題 4 分，共 16 分)

例：哪一個 3 表示 3 個 10。

1 3 3 5

例：哪一個 5 表示 5 個 1。

5 2 3 5

1. 哪一個 7 表示 7 個 10。

7 5 2 7

2. 哪一個 4 表示 4 個 1。

3 4 4 5

3. 哪一個 8 表示 8 個 10。

2 8 8 2

4. 哪一個 6 表示 6 個 1。

6 3 3 6

五、在固定位板中填入正確答案：

(每格 4 分，共 16 分)

1. 有一個二位數比 21 小，它的十位數字是 2，請問它的個位數字是多多少？

十位	個位
2	0

2. 有一個二位數比 86 大，它的個位數字是 2，請問它的十位數字是多多少？

十位	個位
9	2

3. 有一個二位數比 24 小，它的個位數字是 5，請問它的十位數字是多多少？

十位	個位
1	5

4. 有一個二位數比 36 大、比 52 小，而且它的個位數字是 5，請問它的十位數字是多多少？

十位	個位
4	5

六、應用題：（每題 8 分，共 16 分）

1. 糕餅店有 52 個太陽餅，老闆把 10 個太陽餅裝成 1 盒，最多可裝成幾盒？還剩下幾個？

答：裝 5 盒、剩 2 個。

2. 水果店有 86 顆蘋果，老闆把 10 顆蘋果裝成 1 盒，最多可裝成幾盒？還剩下幾顆？

答：裝 8 盒、剩 6 顆。