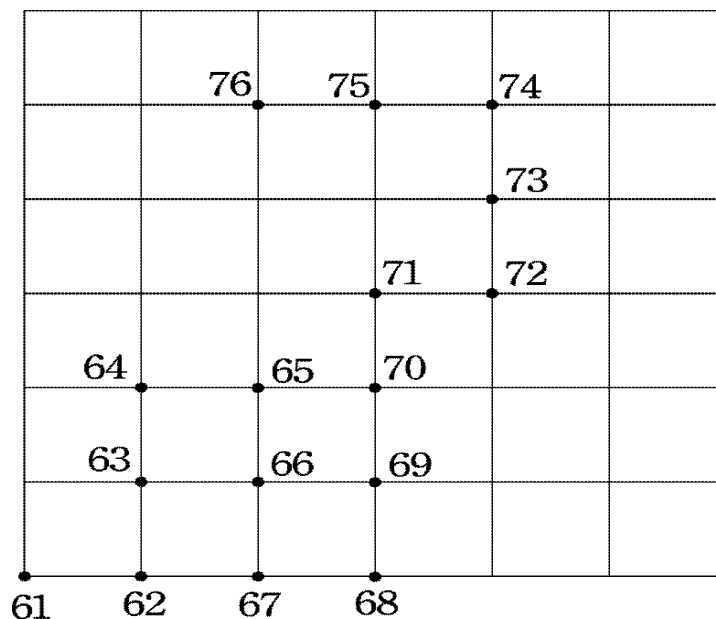


1-3-1
練習回

一、選擇題：（每題 4 分，共 20 分）


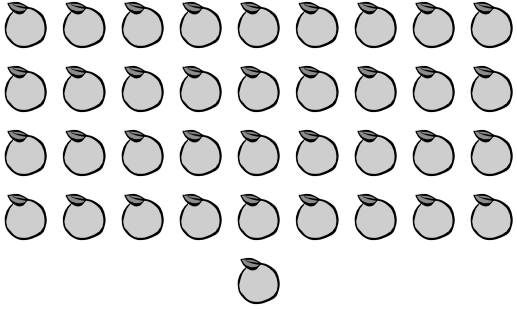


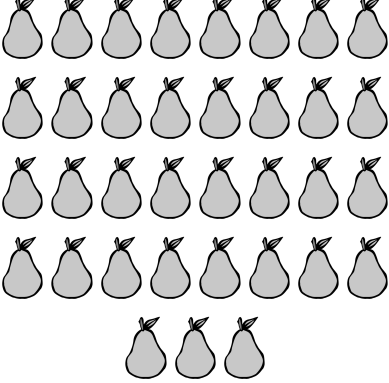
- () 1. 「50」讀作什麼？
 (①五 ②五十 ③五零)
- () 2. $32 \rightarrow 34 \rightarrow \square \rightarrow 38 \rightarrow 40$ ， \square 中應填入哪一個數？ (①35 ②36 ③37)
- () 3. $10 \rightarrow 20 \rightarrow 30 \rightarrow \square \rightarrow 50$ ， \square 中應填入哪一個數？ (①31 ②35 ③40)
- () 4. 「七十有五」記作多少？
 (①70 ②75 ③705)
- () 5. $20 \rightarrow 25 \rightarrow 30 \rightarrow 35 \rightarrow \square$ ， \square 中應填入哪一個數？ (①40 ②36 ③39)

二、將數字由 61 按照順序連到 76：(5 分)




三、把三個數及相同數的數用線連起來：

(每題 4 分 共 20 分)

	.	28
	.	22
	.	46
	.	37
	.	35

四、圈出看：(5分)

圈出 40 顆蘋果。



五、填寫看：(每格 5 分，共 50 分)

1. 在空格裡填上正確的數：

88 → () → 86 → 85 → ()。

2. 在空格裡填上正確的數：

58 → () → 54 → 52 → ()。

3. 在空格裡填上正確的數：

100 → () → 90 → 85 → () → ()。



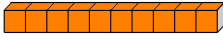




4. 「87」讀作 ()；「九十二」記作 ()。

5. 小韻和小涵排隊買車票，小韻排在第 19

個，小涵排在第 20 個，請問誰會先買到車票？ ()

1-3-2
練習回

一、選擇題：（每題4分，共16分）

- () 1. 3 條  和 幾 個  合 起 來 一 樣 多 ？ (① 30 ② 33 ③ 35 個)
- () 2. 80 個  合 起 來 和 幾 條  一 樣 多 ？ (① 7 ② 8 ③ 9 條)
- () 3. 3 條 、8 個  合 起 來 和 幾 個  一 樣 多 ？ (① 35 ② 83 ③ 38 個)
- () 4. 8 條 、7 個  合 起 來 和 幾 個  一 樣 多 ？ (① 87 ② 78 ③ 88 個)

二、填充題：（每格4分，共48分）

1. 水 果 攤 上 有 很 多 柳 丁， 回 答 下 面 問 題：
- (1) 把 10 顆 柳 丁 裝 成 1 袋， 25 顆 柳 丁 最 多 可 裝 成 () 袋， 還 剩 下 () 顆；「25」 表 示 有 () 個 10 和 () 個 1。
- (2) 把 10 顆 柳 丁 裝 成 1 袋， 37 顆 柳 丁 最 多 可 裝 成 () 袋， 還 剩 下 () 顆。
2. (1) 3 個 10 和 7 個 1 (2) 7 個 10 和 3 個 1

合 起 來 的 數。

十 位	個 位

合 起 來 的 數。

十	個 位

(3) 8 個 10 和 3 個 1 合起來的數。

十位	個位

三、將數字大的打√：(每題 4 分，共 8 分)

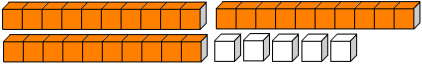
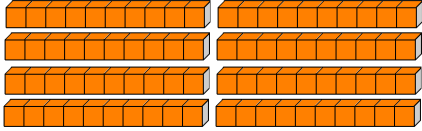
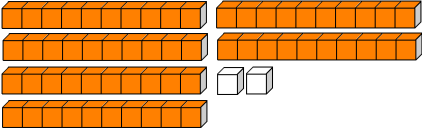
1.

46	49

2.






69	72

四、連連看：(每條線 4 分，共 28 分)

十位數字為 4 個位數字為 5	•	•	76
5 個 10 和 4 個 1 合起來	•	•	67
十位數字為 7 個位數字為 6	•	•	45
6 個 10 和 7 個 1 合起來	•	•	54
	•	•	62
	•	•	35
	•	•	80

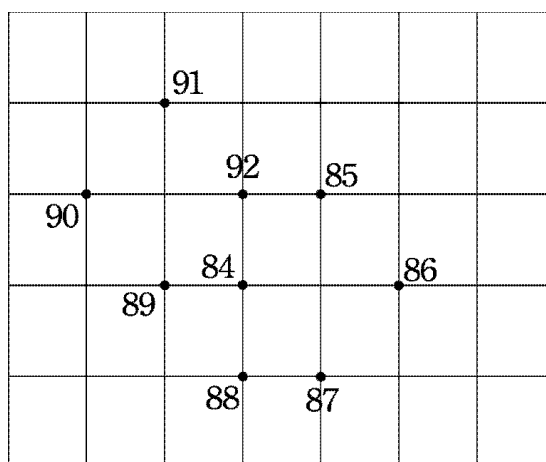
1-3 綜合回
第一回

一、選擇題：（每題 4 分，共 20 分）

- () 1. $42 \rightarrow 44 \rightarrow \square \rightarrow 48 \rightarrow 50$ ， \square 中應填入哪一個數？（① 45 ② 46 ③ 47）
- () 2. $60 \rightarrow 55 \rightarrow \square \rightarrow 45 \rightarrow 40$ ， \square 中應填入哪一個數？（① 49 ② 50 ③ 51）
- () 3. 5 條  和 6 個 ，合起來和幾個  一樣多？（① 55 ② 56 ③ 57 個）
- () 4. 70 個  合起來和幾條  一樣多？（① 7 ② 8 ③ 9 條）
- () 5. 「82」讀作：
（① 八十二 ② 八十零二 ③ 八零二）

二、按照順序連接看：（每條線 1 分，共 8 分）

1. 把數字由 84 按照順序連到 92：



三、填充題：(每個空格 4 分，共 48 分)

- 「五十六」寫作 ()。
- 在空格裡填上正確的數：
 - 40 → 50 → () → 70 → () → ()
 - 64 → 62 → () → 58 → 56
 - 25 → 30 → () → 40 → 45
- 老皮跟阿寶去看電影，買電影票時有好多人在排隊。老皮前面有 42 人，則老皮是排在第 () 個。阿寶排在第 38 個，則阿寶前面排了 () 個人。
- 「87」的十位數字是 ()，個位數字是 ()。
- 在定位板上寫出 3 個 10 和 4 個 1 合起來的數。

十位	個位

四、將數字大的打✓：(每題 2 分，共 4 分)

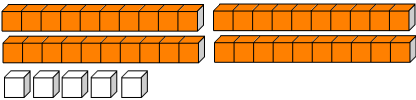
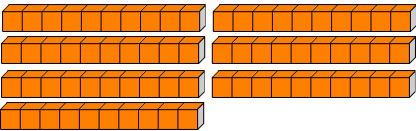
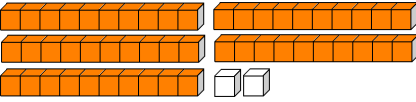
1.

36	42

2.

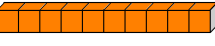




66	69

五、連々連々看：（每條線 4 分，共 20 分）

<p>十位數字為 6 個位數字為 4</p>	•	• 46
<p>4 個 10 和 6 個 1 合起來</p>	•	• 64
	•	• 52
	•	• 45
	•	• 70

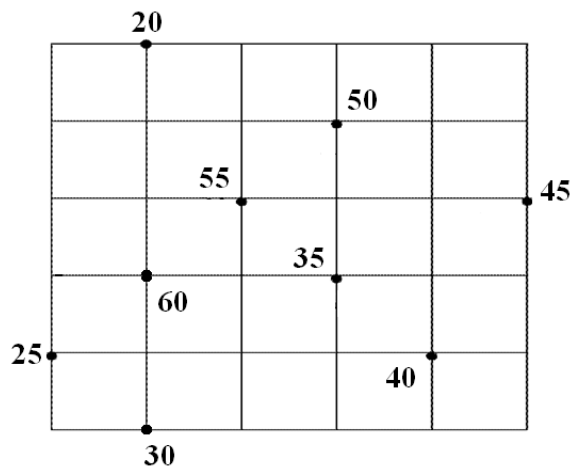
1-3 綜合回
第二回

一、選擇題：（每題 4 分，共 20 分）

- () 1. $98 \rightarrow 96 \rightarrow \square \rightarrow 92 \rightarrow 90$, \square 中應填入哪一個數？ (① 93 ② 94 ③ 95)
- () 2. $50 \rightarrow 60 \rightarrow \square \rightarrow 80 \rightarrow 90$, \square 中應填入哪一個數？ (① 65 ② 70 ③ 75)
- () 3. 9 條  和 6 個 ，合起來和幾個  一樣多？ (① 69 ② 96 ③ 66 個)
- () 4. 50 個  合起來和幾條  一樣多？ (① 4 ② 5 ③ 6 條)
- () 5. 「七十八」寫作：
(① 708 ② 78 ③ 87)

二、按照順序連接看：（每條線 1 分，共 8 分）

1. 把數字由 20 按照 5 個 1 數的順序連到 60：



三、填充題：(每個空格 4 分，共 48 分)

- 「九十九」寫作 ()。
- 在空格裡填上正確的數：
 - 85 → 80 → () → 70 → () → ()
 - 48 → 50 → () → 54 → 56
 - 60 → 50 → () → 30 → 20
- 阿拉蕾跟小少爺去遊樂園，有好多人排在排隊。阿拉蕾前面有 25 人，則阿拉蕾是排在第 () 個。小少爺排在第 48 個，則小少爺前面排了 () 個人。
- 「56」是由 () 個 10 和 () 個 1 所組成的。
- 在定位板上寫出 4 個 10 和 7 個 1 合起來的數。

十位	個位

四、將數字大的打✓：(每題 2 分，共 4 分)

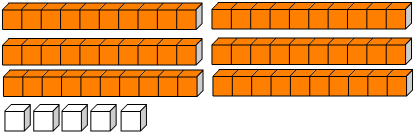
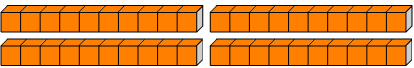
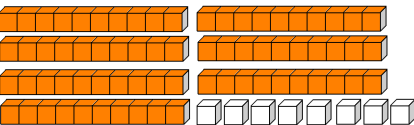
1.

98	89

2.

35	39

五、連々連々看々：（每々條々線々 4 分々， 共々 20 分々）

<p>十々位々數々字々為々 9 個々位々數々字々為々 3</p>	•	39
<p>3 個々 10 和々 9 個々 1 合々起々來々</p>	•	93
	•	78
	•	65
	•	40

1-3
進階挑戰區

一、選擇題：(每題 4 分，共 12 分)

- () 1. 哪一個選項中的數比 76 大，而且比 80 小？ (① 75 ② 77 ③ 81)
- () 2. 數字「38」中的 3 代表的是：
(① 3 ② 30 ③ 13)
- () 3. 數字「57」中的 7 代表的是：
(① 7 ② 70 ③ 17)

二、依照數的大小順序：

(每個空格 3 分，共 24 分)

1. 把 77、85、68、90，「由大到小」排順序。

() () () ()

大  小




2. 把 55、88、77、66，「由小到 大」排順序。


() () () ()


小  大

三、根據下列表格，回答問題：


(每題 4 分，共 16 分)

1	2	3	4	5	6	7	8	9	10
11	12	13	14	15	16	17	18	19	20
21	22	23	24	25	26	27	28	29	30
31		33	34	35	36	37	38	39	40
41	42	43		45	46	47	48		50

(1)  在第 () 格。

(2)  在第 () 格。

(3) 這個表格共有 () 格。

(4)  在第 () 格。

四、圈圈看看：(每題 4 分，共 16 分)

例：哪一個 3 表示 3 個 10。

13

35

例：哪一個 5 表示 5 個 1。

52

35

1. 哪一個 7 表示 7 個 10。

75

27

2. 哪一個 4 表示 4 個 1。

34

45

3. 哪一個 8 表示 8 個 10。

28

82

4. 哪一個 6 表示 6 個 1。

63

36

五、在規定位板中填入正確答案：

(每格 4 分，共 16 分)

1. 有一個二位數比 21 小，它的十位數字是 2，請問它的個位數字是多多少？

十位	個位
2	

2. 有一個二位數比 86 大，它的個位數字是 2，請問它的十位數字是多多少？

十位	個位
	2

3. 有一個二位數比 24 小，它的個位數字是 5，請問它的十位數字是多多少？

十位	個位
	5

4. 有一個二位數比 36 大、比 52 小，而且它的個位數字是 5，請問它的十位數字是多多少？

十位	個位
	5

六、應用題：（每題 8 分，共 16 分）

1. 糕餅店有 52 個太陽餅，老闆把 10 個太陽餅裝成 1 盒，最多可裝成幾盒？還剩下幾個？

2. 水果店有 86 顆蘋果，老闆把 10 顆蘋果裝成 1 盒，最多可裝成幾盒？還剩下幾顆？