




1-1-1
練習回


一、把對多的圈起來：(每小題 2 分，共 24 分)


1. 數一數，有幾個？把對多的數圈起來：



3 4 5


6 7 8



2 6 8

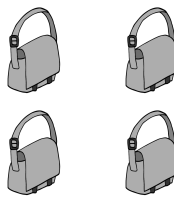

6 8 9

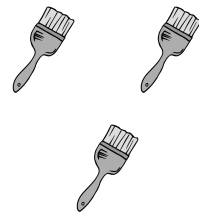

3 5 7

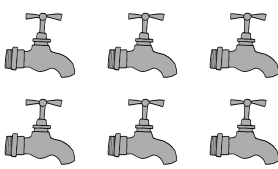

7 8 9


2. 數一數，有幾個？把對多的數圈起來：



5 6 7


4 5 6


1 3 5

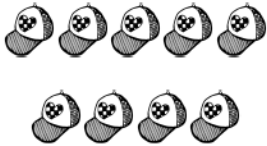
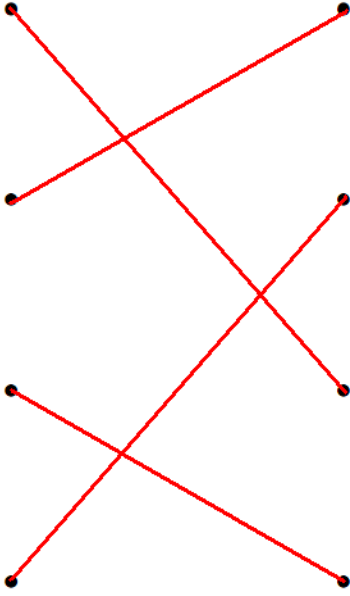
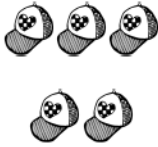



4 6 8


1 2 4


7 8 9









二、連_カ連_カ看_カ：(每_カ小_カ題_カ 4 分_カ， 共_カ 16 分_カ)

1. 有_カ幾_カ頂_カ帽_カ子_カ？ 連_カ連_カ看_カ：

		5
		3
		9
		8



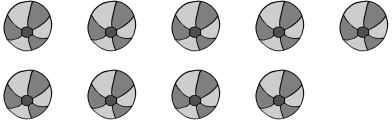



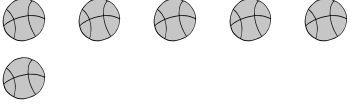

三、畫_カ畫_カ看_カ：(每_カ小_カ題_カ 4 分_カ， 共_カ 16 分_カ)

1. 數_カ一_カ數_カ， 並_カ畫_カ出_カ一_カ樣_カ多_カ的_カ○：

四、塗塗看看：（每小題 4 分，共 16 分）


1. 數一數，並塗滿另一樣多的○：


五、數一數，填一填：（每小題 4 分，共 12 分）



有 (17) 頂帽子。



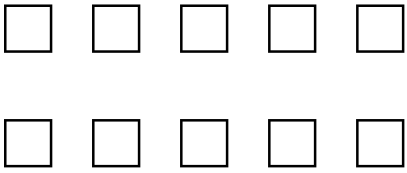



有 (19) 顆草莓。



有 (15) 顆糖果。

六、數一數，下面哪些是對的？請在()裡打




✓：(每小題 4 分，共 16 分)

<p>11 個</p>  <p>()</p>	<p>18 個</p>  <p>()</p>
<p>14 個</p>  <p>(✓)</p>	<p>16 個</p>  <p>(✓)</p>

1-1-2
練習回

一、把對的的圖起來：(每題 4 分，共 8 分)

1. 下圖是動物園裡動物數量的紀錄表。

	○ ○ ○ ○ ○ ○ ○ ○
	○ ○ ○
	○ ○ ○ ○ ○ ○ ○ ○ ○ ○

(1) 哪一種動物最多？圈起來。



(2) 哪一種動物最少？圈起來。



二、按照順序填填看：(每格 2 分，共 6 分)

10 — 12 — 14 — 16 — 18 — 20





三、填填看：(每題 4 分，共 8 分)

1. 媽媽排隊買花，她的前面排了 5 個人，請問媽媽排在第 (**6**) 個。

2. 晶晶排隊買果汁，她排在第 8 個位置，請問晶晶前面排了 (**7**) 個人。



四、依指示圈出圖中看(從左邊算起)：

(每小題 4 分，共 16 分)

- (1) 第 3 顆 
- (2) 第 5 頂 
- (3) 第 2 隻 
- (4) 第 7 隻 






五、畫出和數字一樣多的○，再把比較大的打√：

(畫圈每格 4 分，大的打√ 2 分，共 10 分)

數字	畫○表示	大的打√
8		
10		√

六、依指示塗上顏色(由左邊算起)：

(每題 4 分，共 20 分)

5 個	
第 5 個	
7 個	
第 4 個	
第 6 個	

七、看圖回答下面問題：（每小題 4 分，共 12 分）

左


右



- (1) 從左邊算起，第 5 個圖形是 ()。
- (2) 從右邊算起，第 5 個圖形是 ()。
- (3) 從右邊算起，★ 是第 (4) 個圖形。


八、看圖回答問題：

（每題 4 分，共 20 分）




- (1) 共有幾個小朋友排成一排？ (8) 個。
- (2) 從左邊開始算起，拿旗子的男生站在第 (4) 個。
- (3) 從右邊開始算起，拿旗子的男生站在第 (5) 個。

2.













- (1) 第 1 名是 (3) 號駱駝。
- (2) 第 5 名是 (1) 號駱駝。


1-1 綜合回
第一回


一、數數——數數有^多少^個 ，並^塗滿^一樣^多的[○]：

(每^小題^占 4 分^分，共^占 20 分^分)

(1) 	
(2) 	
(3) 	
(4) 	
(5) 	


二、數數——數數：(每^小題^占 4 分^分，共^占 16 分^分)

1. 有^多少^頂 ？




有^多 (**18**) 頂^頂 ^頂 ^頂 子^子。

2. 有^多少^顆 ？



有^多 (**12**) 顆^顆 ^顆 ^顆 果^果。

3. 有_又多_カ少_セ隻_ニ羊_ヲ？



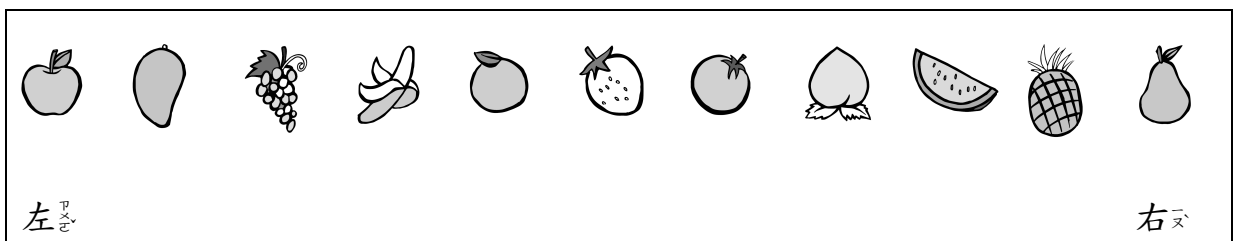
有_又 (12) 隻_ニ羊_ヲ。





4. 有_又多_カ少_セ支_ニ冰_ヲ淇_ヲ淋_ヲ？



有_又 (13) 支_ニ冰_ヲ淇_ヲ淋_ヲ。

三、數_ヲ一_ニ數_ヲ，填_キ一_ニ填_キ：(每_一格_ニ 4 分_ヲ，共_ニ 36 分_ヲ)






(1)  在_右  的_左 (左) 邊_ヲ， 在_右  的_右 (右) 邊_ヲ。

(2) 從_左 邊_ヲ 算_キ 起_キ， 在_第 (8) 個_ニ。

(3) 從_右 邊_ヲ 算_キ 起_キ， 在_第 (4) 個_ニ。

(4) 從_左 邊_ヲ 算_キ 起_キ， 在_第 (11) 個_ニ。

(5) 從_左  算_キ 到_キ  共_ニ 有_又 (5) 個_ニ。



(6) 從_左 邊_ヲ 算_キ 起_キ，第_ニ 7 個_ニ 水_ヲ 果_ヲ 是_ア ( ,  , )
，請_キ 圈_キ 起_キ 來_ヲ；它_ノ 旁_ニ 邊_ヲ 的_ニ 水_ヲ 果_ヲ 是_ア 第_ニ (6) 個_ニ 和_又 第_ニ (8) 個_ニ。

四、比一比，最大的數在（ ）裡打✓，最小的數在（ ）裡打✕：（每小題 4 分，共 8 分）

(1)	10 (✕)	20 (✓)	15 ()	(2)	11 (✕)	13 ()	17 (✓)
-----	-------------	-------------	-----------	-----	-------------	-----------	-------------


五、數一數，有多多少少？寫數，並將比較大的數打✓：

（寫數每小題 4 分，打✓ 2 分，共 10 分）

	寫數	大的打✓
	15	✓
	13	

六、把 11~20 的數塗滿顏色：

（每個數字 2 分，共 10 分）




1-1 綜合回
第二回

一、數一數，把對的數圈起來：


(每題 4 分，共 24 分)

(1)




1 3 5

(2)



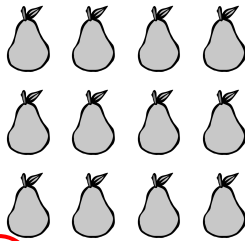
2 4 6

(3)




9 10 11

(4)



12 14 16

(5)



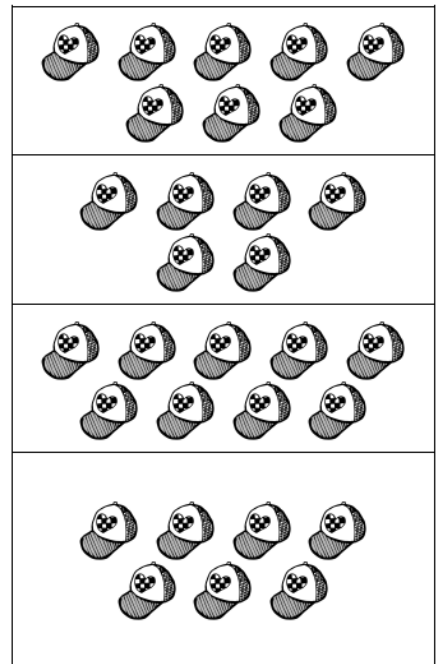
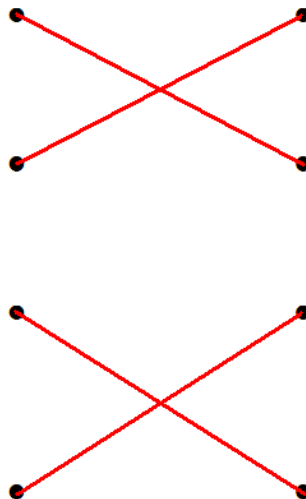

15 16 17

(6)

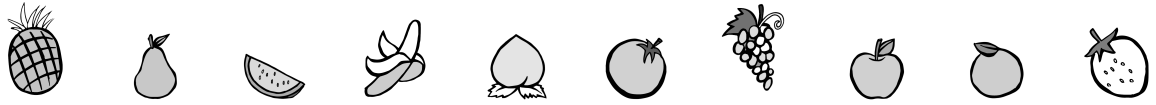


1 3 5

二、把一樣多多的連起來：(每條線 4 分，共 16 分)



三、數一數，填一填：(每小題 4 分，共 16 分)



(1) 從  算起， 在 第 (6) 個。

(2) 從  算起， 在 第 (4) 個。

(3) 從  算起， 在 第 (7) 個。

(4) 從  算起， 在 第 (4) 個。

四、按照順序填入正確的數字：

(每小題 4 分，共 12 分)

(1) $2 \rightarrow 4 \rightarrow (6) \rightarrow 8$ 。

(2) $10 \rightarrow 8 \rightarrow 6 \rightarrow (4)$ 。

(3) $5 \rightarrow 10 \rightarrow (15) \rightarrow 20$ 。

五、比一比，大的數字在 () 裡打 \checkmark ：

(每題 4 分，共 16 分)

(1)

20	18
(\checkmark)	()

(2)

17	19
()	(\checkmark)

(3)

13	15
()	(\checkmark)

(4)

14	11
(\checkmark)	()



六、畫出和數字一樣多的○，再把最大的數打✓：

(畫圈每格 4 分，大的打✓ 4 分，共 16 分)

數字	畫○表示	最大的數打✓
7	○○○○○○○	
20	○○○○○○○○○○ ○○○○○○○○○○	✓
13	○○○○○○○○○○○ ○○○	

1-1
進階挑戰區

一一、數一數，寫出數量，並將比較大的數打✓：
(寫數量每格 2 分，打✓ 2 分，共 6 分)

	寫數量(頂)	大的打✓
	20	✓
	15	

二、比一比：(每個答案 2 分，共 12 分)

1. 最大的數打✓，最小的數打✕：

(1)	15	14	19	(2)	17	20	12
	()	(✕)	(✓)		()	(✓)	(✕)

2. 把比 7 大，比 15 小的數打✓。

13	4	6	20	8
(✓)	()	()	()	(✓)

三、想一想，在 裡打 ； (每題 4 分，共 8 分)

1. 1 輛巴士有 15 個座位，小博 班上有 17 位小朋友，請問他們全班能夠同時坐上同一輛巴士，而且每位小朋友都有座位嗎？

能 不能


2. 草地上有 13 隻狗、10 間狗屋、20 根狗骨頭。1 隻狗分到 1 根狗骨頭，請問狗骨頭夠不夠分？

夠 不夠

四、按照數字的大小順序填上看：

(每個答案 2 分，共 26 分)

1.



2.



3.



4.



五、圈上看，將正確答案圈起來：

(每題 5 分，共 10 分)

1. 從 20 開始倒著數，哪一個數會先數到？


(17 , 15 , 18)

2. 從 1 開始順著數，哪一個數會先數到 5？

(7 , 5 , 18)

六、塗顏色：(每題 4 分，共 8 分)


1. 將第 5 朵花塗上顏色。







2. 將 5 朵花塗上顏色。



七、看圖填數字：(每格 3 分，共 18 分)



1.  站在第 (4) 個臺階，在  上面還有 (16) 個臺階。

2.  站在第 (8) 個臺階，在  上面還有 (12) 個臺階。

3.  站在第 (15) 個臺階，在  下面有 (4) 隻動物。

八、應用題：

(每題 6 分，共 12 分)

1. 小博與阿幼到果園去摘蘋果。小博摘了 13 顆蘋果，阿幼摘了 17 顆蘋果，請問誰摘的蘋果比較多？多幾顆蘋果？

答：(**阿幼**) 摘的蘋果比較多；多 (**4**) 顆。

2. 哥哥與弟弟在操場上檢石子，哥哥檢了 19 顆石子，弟弟檢了 15 顆石子，請問誰檢的石子比較少？少幾顆？

答：(**弟弟**) 檢的石子較少；少 (**4**) 顆。