




1-1-1
練習回


一、把對多的圈起來：（每小題 2 分，共 24 分）


1. 數一數，有幾個？把對多的數圈起來：


		
3	4	5

		
6	7	8

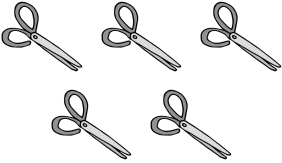
		
2	6	8

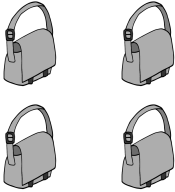
		
6	8	9

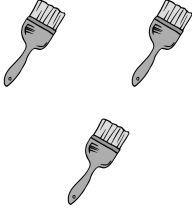
		
3	5	7

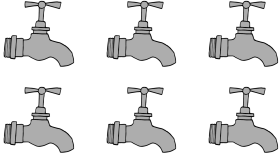
		
7	8	9


2. 數一數，有幾個？把對多的數圈起來：


		
5	6	7

		
4	5	6

		
1	3	5





		
4	6	8

		
1	2	4

		
7	8	9





二、連カ連カ看ヲ：（每只小I題ち 4 分ヲ， 共々 16 分ヲ）

1. 有ニ幾ハ頂カ帽ニ子ヲ？ 連カ連カ看ヲ：

	•	•	5
	•	•	3
	•	•	9
	•	•	8


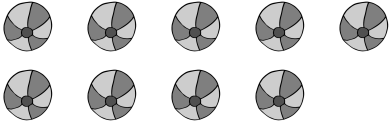

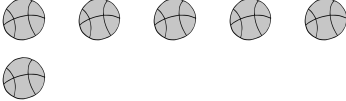
三、畫カ畫カ看ヲ：（每只小I題ち 4 分ヲ， 共々 16 分ヲ）

1. 數カ一カ數カ， 並カ畫カ出イ一カ樣カ多カ的カ○：


四、塗塗看看：（每小題 4 分，共 16 分）

1. 數一數，並塗滿一樣多的○：


	<table border="1"> <tbody> <tr> <td>○</td><td>○</td><td>○</td><td>○</td><td>○</td> </tr> <tr> <td>○</td><td>○</td><td>○</td><td>○</td><td>○</td> </tr> </tbody> </table>	○	○	○	○	○	○	○	○	○	○
○	○	○	○	○							
○	○	○	○	○							
	<table border="1"> <tbody> <tr> <td>○</td><td>○</td><td>○</td><td>○</td><td>○</td> </tr> <tr> <td>○</td><td>○</td><td>○</td><td>○</td><td>○</td> </tr> </tbody> </table>	○	○	○	○	○	○	○	○	○	○
○	○	○	○	○							
○	○	○	○	○							
	<table border="1"> <tbody> <tr> <td>○</td><td>○</td><td>○</td><td>○</td><td>○</td> </tr> <tr> <td>○</td><td>○</td><td>○</td><td>○</td><td>○</td> </tr> </tbody> </table>	○	○	○	○	○	○	○	○	○	○
○	○	○	○	○							
○	○	○	○	○							
	<table border="1"> <tbody> <tr> <td>○</td><td>○</td><td>○</td><td>○</td><td>○</td> </tr> <tr> <td>○</td><td>○</td><td>○</td><td>○</td><td>○</td> </tr> </tbody> </table>	○	○	○	○	○	○	○	○	○	○
○	○	○	○	○							
○	○	○	○	○							

五、數一數，填一填：


（每小題 4 分，共 12 分）



有（ ）頂帽子。

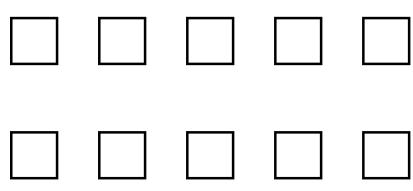





有（ ）顆草莓。



有（ ）顆糖果。




六、數一數，下面哪些是對的？請在()
裡打✓：(每小題 4 分，共 16 分)

<p>11 個</p>  <p>()</p>	<p>18 個</p>  <p>()</p>
<p>14 個</p>  <p>()</p>	<p>16 個</p>  <p>()</p>

1-1-2
練習回

一、把對的圈起來：(每題 4 分，共 8 分)

1. 下圖是動物園裡動物數量的紀錄表。

	○ ○ ○ ○ ○ ○ ○ ○
	○ ○ ○
	○ ○ ○ ○ ○ ○ ○ ○ ○ ○

(1) 哪一種動物最多？圈起來。



(2) 哪一種動物最少？圈起來。



二、按照順序填填看：(每格 2 分，共 6 分)

10 - 12 - - - 18 -


三、填填看：(每題 4 分，共 8 分)

1. 媽媽排隊買花，她的前面排了 5 個人，請問媽媽排在第 () 個。


2. 晶晶排隊買果汁，她排在第 8 個位置，請問晶晶前面排了 () 個人。

四、依照指示圈出看(從左邊算起)：

(每小題 4 分，共 16 分)

(1) 第 3 顆 

(2) 第 5 頂 

(3) 第 2 隻 

(4) 第 7 隻 

五、畫出和數字一樣多的○，再把比較大的打✓：

(畫圈每格 4 分，大的打✓ 2 分，

共 10 分)

數字	畫○表示	大的打✓
8		
10		

六、依照指示塗上顏色(由左邊算起)：

(每題 4 分，共 20 分)

5 個	○ ○ ○ ○ ○ ○ ○ ○ ○
第 5 個	○ ○ ○ ○ ○ ○ ○ ○ ○
7 個	○ ○ ○ ○ ○ ○ ○ ○ ○
第 4 個	○ ○ ○ ○ ○ ○ ○ ○ ○
第 6 個	○ ○ ○ ○ ○ ○ ○ ○ ○

七、看圖回答下面問題：

(每小題 4 分，共 12 分)

左


右



- (1) 從左邊算起，第 5 個圖形是 ()。
- (2) 從右邊算起，第 5 個圖形是 ()。
- (3) 從右邊算起，★ 是第 () 個圖形。


八、看圖回答問題：

(每題 4 分，共 20 分)



- (1) 共有幾個人排成一排？ () 個。
- (2) 從左邊開始算起，拿旗子的男學生站在第 () 個。
- (3) 從右邊開始算起，拿旗子的男學生站在第 () 個。

2.








- (1) 第 1 名是 () 號駱駝。
- (2) 第 5 名是 () 號駱駝。

1-1 綜合回
第一回

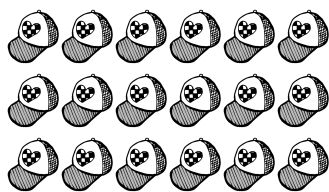
一、數一數有多少顆，並塗滿一樣多的

○：(每小題 4 分，共 20 分)

(1) 	<input type="checkbox"/> <input type="checkbox"/> <input type="checkbox"/> <input type="checkbox"/> <input type="checkbox"/> <input type="checkbox"/> <input type="checkbox"/> <input type="checkbox"/> <input type="checkbox"/> <input type="checkbox"/>
(2) 	<input type="checkbox"/> <input type="checkbox"/> <input type="checkbox"/> <input type="checkbox"/> <input type="checkbox"/> <input type="checkbox"/> <input type="checkbox"/> <input type="checkbox"/> <input type="checkbox"/> <input type="checkbox"/>
(3) 	<input type="checkbox"/> <input type="checkbox"/> <input type="checkbox"/> <input type="checkbox"/> <input type="checkbox"/> <input type="checkbox"/> <input type="checkbox"/> <input type="checkbox"/> <input type="checkbox"/> <input type="checkbox"/>
(4) 	<input type="checkbox"/> <input type="checkbox"/> <input type="checkbox"/> <input type="checkbox"/> <input type="checkbox"/> <input type="checkbox"/> <input type="checkbox"/> <input type="checkbox"/> <input type="checkbox"/> <input type="checkbox"/>
(5) 	<input type="checkbox"/> <input type="checkbox"/> <input type="checkbox"/> <input type="checkbox"/> <input type="checkbox"/> <input type="checkbox"/> <input type="checkbox"/> <input type="checkbox"/> <input type="checkbox"/> <input type="checkbox"/>


二、數一數：(每題 4 分，共 16 分)

1. 有多少頂帽子？




有 () 頂帽子。

2. 有多少顆蘋果？



有 () 顆蘋果。

3. 有 $\overline{\text{二}}$ 多 $\overline{\text{六}}$ 少 $\overline{\text{一}}$ 隻 $\overline{\text{五}}$ 羊 $\overline{\text{元}}$ ？



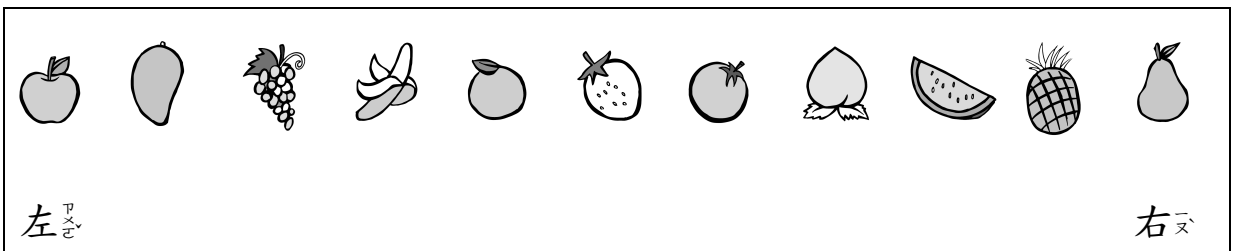
有 $\overline{\text{二}}$ () 隻 $\overline{\text{五}}$ 羊 $\overline{\text{元}}$ 。





4. 有 $\overline{\text{二}}$ 多 $\overline{\text{六}}$ 少 $\overline{\text{一}}$ 支 $\overline{\text{五}}$ 冰 $\overline{\text{二}}$ 淇 $\overline{\text{一}}$ 淋 $\overline{\text{九}}$ ？



有 $\overline{\text{二}}$ () 支 $\overline{\text{五}}$ 冰 $\overline{\text{二}}$ 淇 $\overline{\text{一}}$ 淋 $\overline{\text{九}}$ 。

三、數 $\overline{\text{一}}$ 數 $\overline{\text{一}}$ ，填 $\overline{\text{一}}$ 填 $\overline{\text{一}}$ ：(每 $\overline{\text{一}}$ 格 $\overline{\text{一}}$ 4 分 $\overline{\text{一}}$ ，共 $\overline{\text{一}}$ 36 分 $\overline{\text{一}}$)






(1)  在 $\overline{\text{一}}$  的 $\overline{\text{一}}$ () 邊 $\overline{\text{一}}$ ， 在 $\overline{\text{一}}$  的 $\overline{\text{一}}$ () 邊 $\overline{\text{一}}$ 。

(2) 從 $\overline{\text{一}}$ 左 $\overline{\text{一}}$ 邊 $\overline{\text{一}}$ 算 $\overline{\text{一}}$ 起 $\overline{\text{一}}$ ， 在 $\overline{\text{一}}$ 第 $\overline{\text{一}}$ () 個 $\overline{\text{一}}$ 。

(3) 從 $\overline{\text{一}}$ 右 $\overline{\text{一}}$ 邊 $\overline{\text{一}}$ 算 $\overline{\text{一}}$ 起 $\overline{\text{一}}$ ， 在 $\overline{\text{一}}$ 第 $\overline{\text{一}}$ () 個 $\overline{\text{一}}$ 。

(4) 從 $\overline{\text{一}}$ 左 $\overline{\text{一}}$ 邊 $\overline{\text{一}}$ 算 $\overline{\text{一}}$ 起 $\overline{\text{一}}$ ， 在 $\overline{\text{一}}$ 第 $\overline{\text{一}}$ () 個 $\overline{\text{一}}$ 。



(5) 從 $\overline{\text{一}}$  算 $\overline{\text{一}}$ 到 $\overline{\text{一}}$  共 $\overline{\text{一}}$ 有 $\overline{\text{一}}$ () 個 $\overline{\text{一}}$ 。

(6) 從 $\overline{\text{一}}$ 左 $\overline{\text{一}}$ 邊 $\overline{\text{一}}$ 算 $\overline{\text{一}}$ 起 $\overline{\text{一}}$ ，第 $\overline{\text{一}}$ 7 個 $\overline{\text{一}}$ 水 $\overline{\text{一}}$ 果 $\overline{\text{一}}$ 是 $\overline{\text{一}}$ (，，)，請 $\overline{\text{一}}$ 圈 $\overline{\text{一}}$ 起 $\overline{\text{一}}$ 來 $\overline{\text{一}}$ ；它 $\overline{\text{一}}$ 旁 $\overline{\text{一}}$ 邊 $\overline{\text{一}}$ 的 $\overline{\text{一}}$ 水 $\overline{\text{一}}$ 果 $\overline{\text{一}}$ 是 $\overline{\text{一}}$ 第 $\overline{\text{一}}$ () 個 $\overline{\text{一}}$ 和 $\overline{\text{一}}$ 第 $\overline{\text{一}}$ () 個 $\overline{\text{一}}$ 。

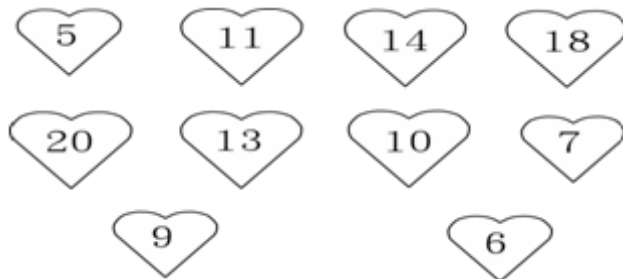
四、 比一比， 最大的數在 () 裡打✓，
 最小的數在 () 裡打×：
 (每小題 4 分， 共 8 分)

(1)	10 ()	20 ()	15 ()	(2)	11 ()	13 ()	17 ()
-----	-----------	-----------	-----------	-----	-----------	-----------	-----------

五、 數一數， 有多多少少？ 寫下數量， 並將比較大的數打✓：
 (寫下數量每小題 4 分， 打✓ 2 分， 共 10 分)

	寫下數量	大的打✓
		
		


六、 把 11~ 20 的數塗滿顏色：
 (每個數字 2 分， 共 10 分)




1-1 綜合回
第二回

一一、數一數，把對的數圈起來：


(每題 4 分，共 24 分)




1 3 5




2 4 6




9 10 11



12 14 16



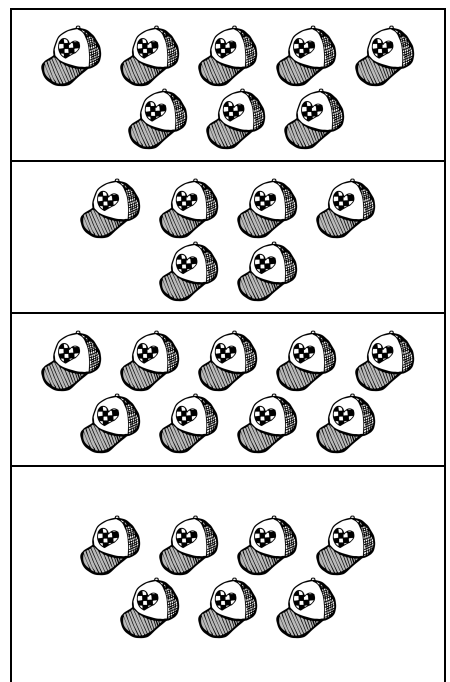
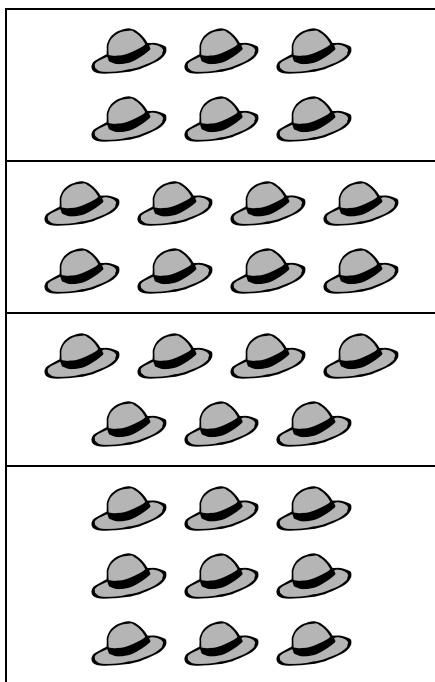
15 16 17



1 3 5

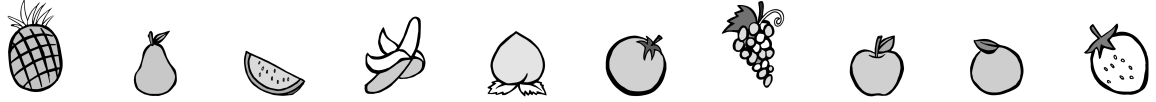
二、把一樣多的連起來：

(每條線 4 分，共 16 分)



三、數一數，填一填：

(每小題 4 分，共 16 分)



- (1) 從  算起， 在 第 () 個。
- (2) 從  算起， 在 第 () 個。
- (3) 從  算起， 在 第 () 個。
- (4) 從  算起， 在 第 () 個。

四、按照順序填入正確的數字：

(每小題 4 分，共 12 分)

- (1) $2 \rightarrow 4 \rightarrow () \rightarrow 8$ 。
- (2) $10 \rightarrow 8 \rightarrow 6 \rightarrow ()$ 。
- (3) $5 \rightarrow 10 \rightarrow () \rightarrow 20$ 。

五、比一比，大的數字在 () 裡打 \checkmark ：

(每題 4 分，共 16 分)



- | | | | | | | | | | |
|---|-----|----|-----|-----|---|----|----|-----|-----|
| <p>(1) <table border="1" style="width: 100%; text-align: center;"> <tr><td>20</td><td>18</td></tr> <tr><td>()</td><td>()</td></tr> </table></p> | 20 | 18 | () | () | <p>(2) <table border="1" style="width: 100%; text-align: center;"> <tr><td>17</td><td>19</td></tr> <tr><td>()</td><td>()</td></tr> </table></p> | 17 | 19 | () | () |
| 20 | 18 | | | | | | | | |
| () | () | | | | | | | | |
| 17 | 19 | | | | | | | | |
| () | () | | | | | | | | |
| <p>(3) <table border="1" style="width: 100%; text-align: center;"> <tr><td>13</td><td>15</td></tr> <tr><td>()</td><td>()</td></tr> </table></p> | 13 | 15 | () | () | <p>(4) <table border="1" style="width: 100%; text-align: center;"> <tr><td>14</td><td>11</td></tr> <tr><td>()</td><td>()</td></tr> </table></p> | 14 | 11 | () | () |
| 13 | 15 | | | | | | | | |
| () | () | | | | | | | | |
| 14 | 11 | | | | | | | | |
| () | () | | | | | | | | |

六、畫出和數字一樣多的○，再把最大的數打✓：
 （畫圈每格 4 分，大的打✓ 4 分，共 16 分）

數字	畫○表示	最大數打✓
7		
20		
13		

1-1
進階挑戰區

一、數一數，寫出數量，並將比較大的數打✓
 ✓：(寫數量每格 2 分，打✓ 2 分，共 6 分)

	寫數量(頂)	大的打✓
		
		

二、比一比：(每個答案 2 分，共 12 分)

1. 最大的數打✓，最小的數打×：

(1)	15	14	19	(2)	17	20	12
	()	()	()		()	()	()

2. 把比 7 大，比 15 小的數打✓。

13	4	6	20	8
()	()	()	()	()

三、想一想，在 裡打 \checkmark ：

(每題 4 分，共 8 分)

1. 1 輛巴士有 15 個座位，小學博班上有 17 位小朋友，請問他們全班能夠同時坐上同一輛巴士，而且每一位小朋友都有座位嗎？

能

不能

2. 草地上有 13 隻狗、10 間狗屋、20 根狗骨頭。1 隻狗分到 1 根狗骨頭，請問狗骨頭夠不夠分？

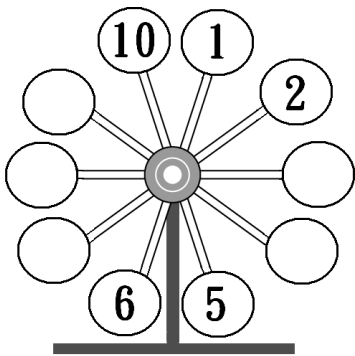
夠

不夠

四、按照數字的大小順序填填看：

(每個答案 2 分，共 26 分)

1.




2.



3.



4.



五、圈圈看，將正確答案圈起來：

(每題 5 分，共 10 分)

1. 從 20 開始倒著數，哪一個數會先數到？

(17 , 15 , 18)

2. 從 1 開始順著數，哪一個數會先數到？
(7 , 5 , 18)

六、塗顏色：(每題 4 分，共 8 分)


1. 將第 5 朵花塗上顏色。









2. 將 5 朵花塗上顏色。



七、看圖填看：(每格 3 分，共 18 分)



-  站在第 () 個臺階，在  上面還有 () 個臺階。
-  站在第 () 個臺階，在  上面還有 () 個臺階。
-  站在第 () 個臺階，在  下面有 () 隻動物。

八、應用題：（每題6分，共12分）

1. 小博與阿丫到果園去摘蘋果。小博摘了13顆蘋果，阿丫摘了17顆蘋果，請問誰摘的蘋果比較多？多幾顆蘋果？

答：（ ）摘的蘋果比較多；多（ ）顆。

2. 哥哥與弟弟在操場上檢石子，哥哥檢了19顆石子，弟弟檢了15顆石子，請問誰檢的石子比較少？少幾顆石子？

答：（ ）檢的石子較少；少（ ）顆。