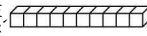





BOYO 國語小學數學四則運算

一年級前測試卷

課輔班級： 姓名： 分數：

一、選擇題： 每格 2 分， 共分 8 分。

() 1. 1 條  和 6 個 ，合起來和幾個  一樣多？ (①15 ②16 ③17)



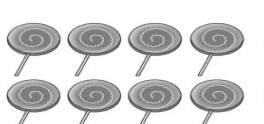

() 2. 1 個  可以換成幾個  ? (①2 個 ②5 個 ③10 個)

() 3. 「1 條口香糖有 7 片，2 條共有幾片口香糖？」下面哪一個算式是對的？ (① $7 + 2$ ② $7 + 7$ ③ $7 - 2$)

() 4. 小宜存了 82 元，小芳存了 76 元，誰存的錢比較多？ (①小宜 ②小芳 ③一樣多)

二、連連看： 每格 3 分， 共分 24 分。

1. 有幾根棒棒糖？ 連連看：

① 	• •	5
② 	• •	3
③ 	• •	9
④ 	• •	8

2. 找出答案並用線連起來：

(1) 十位數字是 5 個位數字 9 • • ④ 64

(2) 個位數字是 4 十位數字是 6 • • ② 47

(3) 4 個「10」和 7 個「1」合起來 • • ① 56

(4) 5 個「10」和 6 個「1」合起來 • • ③ 59

三、做看看： 共分 6 分。

1. 畫○ 做看看， 再用算式記下來：
桌上有 7 個積木，再放上 2 個積木，桌上共有多少個積木？

畫○：

算式：

共有 () 個積木

四、應用題： 每格 5 分， 共分 20 分。

1. 甜甜有 4 張卡片，丁丁有 5 張，兩人共有幾張卡片？

答： 共有 () 張卡片

2. 小涵摺了 3 顆星星，小綠摺了 2 顆星星，小文摺了 8 顆星星，三人

共摺了幾顆星星？

答：() 顆

3. 阿強原有 15 元，買卡片花掉 7 元後，他還有幾元？

答：() 元

4. 一年甲班男生有 20 人，女生有 7 人，一年甲班共有幾人？

答：() 人

五、填填看看：每小題或每題 3 分，共 24 分

1. (1) 小美有 6 張彩色紙，小華有 3 張彩色紙，誰的彩色紙比較多？多的打「√」：

() ① 小美

() ② 小華

(2) 花園裡有黃花 7 朵，紅花 5 朵，哪一種花比較少？少的打「√」：

() ① 黃花

() ② 紅花

2. (1) 動物園有 5 隻老虎和 10 隻山羊，哪一種比較少？少的打「√」

() ① 老虎

() ② 山羊

(2) 桌上有 2 個蘋果和 8 個梨子，哪一種比較多？多的打「√」：

() ① 蘋果

() ② 梨子

3. 下列算式的答數是 1 的在 () 裡打√：

() (1) 8 - 7

() (2) 5 - 3

() (3) 4 - 3

() (4) 2 - 1

4. 4 個十和 9 個一合起來是 ()。

5. 「51」讀作 ()。

6. 個位數是 6，十位數是 5 的數是 ()。

六、計算題：每格 3 分，共 18 分

1. $5 + 1 = ()$

2. $9 + 1 = ()$

3. $10 - 3 = ()$

4. $10 - 2 + 3 = ()$

5. $10 - 2 + 5 = ()$

6. $19 + 6 = ()$