

BOYO 國小數學四則運算

三年級前測卷

課輔班級： _____ 姓名： _____ 分數： _____

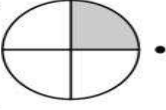
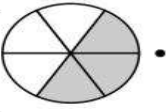
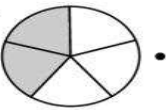
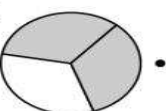
一、選擇題：每題 2 分、共 8 分

- () 1. $625 + 356 + 738$ 的答數是多
少？ (①1609 ②1619 ③1719)
- () 2. 兔子跳一次可以跳 35 公
分，那麼跳五次可以跳多
遠？ (①40 ②165 ③175 ④185) 公
分
- () 3. 將 6 個積木平分給 2 個小朋
友，除法算式要怎麼寫？ (①
 $26 \div 2$ ② $2 \div 6$ ③ $6 \div 2$ ④ 6×2)
- () 4. 在除法的算式中，餘數一
定比除數如何？ (①大 ②小 ③
相等 ④不一定)

二、連線看：每格 2 分、共 8 分

1. 塗色全部分是幾分之幾圓？連線


看：

- | | | |
|-----|---|----------------------|
| (1) |  | • ㄉ. $\frac{3}{6}$ 圓 |
| (2) |  | • ㄆ. $\frac{2}{3}$ 圓 |
| (3) |  | • ㄓ. $\frac{1}{4}$ 圓 |
| (4) |  | • ㄘ. $\frac{2}{5}$ 圓 |

三、畫畫看：共 3 分

1. 畫畫看，可以怎麼付錢？

用 1000、100、10 和 1 畫出下面的錢
數。



四、應用題：每題 6 分、共 30 分

1. 平平有 158 張郵票，安安有 173
張郵票，兩人共有幾張郵票？把
做法用直式記下來。
2. 用 9、4、5、0 排成的最大四
位數和最最小四位數相差多少？
(數字不能重複且 0 不可放千位)
3. 1 個蘋果賣 8 元，70 元可以買
幾個蘋果？剩下幾元？

() 包，媽媽吃了 () 包，

兩人吃的餅乾相差 () 包。

六、計算題：每格 3 分、共 18 分

1. $142 + 136$

2. $8524 - 7562$

3. $6370 - 5849$

4. $0 \div 7$

5. $0.5 + 0.2$

6. $4.3 - 2$

七、比比看：每格 3 分、共 12 分

在 \square 中填入 $>$ 、 $<$ 或 $=$ ：

(1) $245 \times 3 \square 147 \times 5$

(2) $162 \times 5 \square 165 \times 2$

(3) $72 \times 8 \square 64 \times 9$

(4) $300 \times 2 \square 300 \times 3$

4. 1 個披薩賣 50 元，買 5 個要幾元？

5. 1 盒鉛筆有 12 枝，小華有 $\frac{8}{12}$ 盒，

小英有 $\frac{11}{12}$ 盒，兩人共有幾盒鉛筆？

筆？

五、填填看：每格 3 分、共 21 分

1. 有 $\frac{6}{8}$ 條巧克力，其中 $\frac{6}{8}$ 的分母是

()，分子是 ()。

也就是一條巧克力分成 ()

等份，占其中的 () 等份。

2. 1 包餅乾有 15 塊，媽媽吃了 8 塊，

剩下的被爸爸全吃掉，爸爸吃了