



(版本一) 博幼四則運算基礎檢測卷



3-1 10000 以內的數





課輔班級：_____

姓名：_____

得分：_____

一 填填看看：

(每格 3 分，共 30 分)

- 「三千七百零一」記作 ()，
「八千零二十一」記作 ()。
- 「5601」讀作 ()，「7003」
讀作 ()。
- 「2 個千、5 個百、0 個十和 12
個一」合起來的數是 ()。
- 「() 個千、() 個百、
() 個十和 1 個一」合起來
來的數是 6301。
- 4 張  和 9 張  一共
是 () 元。
- 7 張  和 12 張  一共
是 () 元。

二 比比看看：

(每小題 4 分，共 16 分)

- 哪個數字最大？在 () 裡打
✓：
(1)

9991	9199	10000
()	()	()

(2)

七千零七	七千七百
()	()

- 哪個數字最小？在 () 裡打
✓：

(1)

6093	6309	9601
()	()	()

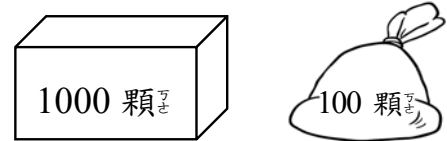
(2)

四千六百	八千六百
()	()

三 看看圖回答問題：

(每格 3 分，共 24 分)

- 1 個箱子可裝滿 1000 顆果凍，
1 個袋子可裝滿 100 顆果凍，
請問：



- 當店員裝滿 3 箱又 10 袋，一
共裝了 () 顆果凍。
- 若全部有 5782 顆果凍，先裝
箱再裝袋，則最多可裝滿
() 箱又 () 袋，
還剩下 () 顆果凍。

2. 番茄 1 箱有 1000 顆，1 袋有 100 顆，1 盒有 10 顆，請問：



- (1) 媽媽買了 6 箱、5 袋、2 盒，一共是買了 () 顆番茄。
- (2) 媽媽送給鄰居 1230 顆番茄，她是送出 () 箱、() 袋、() 盒番茄。

四

數一數，畫一畫：

(每個答案 5 分，共 30 分)

1. 小明與大明存款如下所示，請你數一數，他們各有幾元？

(1) 小明的存款



有 () 元。

(2) 大明的存款



有 () 元。

2. 阿金買了 1 台 2385 元的風扇，他需要如何付錢才對，請你幫他將正確的金額圈起來。



3. 阿兩買了 1 輛 6458 元的汽車模型，他需要如何付錢才對，請你幫他將正確的金額圈起來。



4. 小張的年年終獎金有 8820 元，請你用 1000、100、5、1，將他得到的獎金金額畫出來。

5. 小山哥的過年紅包有 5666 元，請你用 1000、100、10、1，將他得到的紅包金額畫出來。