



(版本一) 博幼四則運算基礎檢測卷

2-2 200 以內的直式加減



課輔班級：_____

姓名：_____

得分：_____

一 圈起來看：

(每格 4 分，共 24 分)

1. 將算式中各數字所代表的名稱圈起來：

算式：「 $83 - 27 = 56$ 」

(1) 83 為 (差, 減數, 被減數)

(2) 27 為 (差, 減數, 被減數)

(3) 56 為 (差, 減數, 被減數)

2. 將算式中最近正確答案的數字圈起來：

(1) $41 + 22 = (60, 70, 80)$

(2) $91 - 68 = (10, 20, 30)$

(3) $78 + 49 = (120, 130, 140)$

二 用直式算算看：

(每題 4 分，共 20 分)

1. $29 + 56$

2. $41 + 63$

3. $72 - 48$

4. $93 - 24$

5. $68 + 82$

三 依照提示做做看：

請找出正確答案，並在 () 中打勾 (每個答案 4 分，共 16 分)

1. 小芳有 65 元，小雨比小芳多 28 元，則小雨有幾元？

() 解題算式「 $65 + 28 = 93$ 」




() 解題算式「 $65 - 28 = 37$ 」


2. 阿偉有 71 顆彈珠，阿良比阿偉少 49 顆，則阿良有幾顆彈珠？

() 解題算式「 $71 + 49 = 120$ 」

() 解題算式「 $71 - 49 = 22$ 」



3. 鮮美早餐店最新推出餐點如下表所示，請根據問題，找出答案：

		
49 元	32 元	56 元

(1) 若媽媽帶 60 元出門，想買一個 ，她帶的錢夠不夠？

() 夠

() 不夠

(2) 若媽媽帶 80 元出門，想買一個  和一個 ，她帶的錢夠不夠？

() 夠

() 不夠

四

應用題：

(每題 5 分，共 40 分)

- 動物園裡的猴子早上要吃 34 顆花生，下午要吃 10 顆，請問猴子每天吃掉的花生有幾顆？
- 樹上有 62 顆桃子，若地面掉落的桃子比樹上少了 49 顆，請問地面上有幾顆桃子？
- 有一條緞帶，用掉 29 公分後，還剩下 48 公分，請問這條緞帶原來長幾公分？
- 賣場的架子上有 51 瓶醬油，請問店員再放上幾瓶，架子上就會有 99 瓶醬油？
- 電線桿上原有 73 隻小鳥，飛走 14 隻後，請問電線桿上還有幾隻小鳥？
- 禮堂裡原有 17 個小朋友，又進來 63 個後，請問禮堂裡共有幾個小朋友？
- 承上題，後來又有 26 個小朋友離開禮堂，請問現在禮堂裡還有幾個小朋友？
- 雞肉攤上 1 斤雞腿賣 86 元，1 斤雞腳賣 25 元，奶奶買 1 斤雞腿和 2 斤雞腳，請問她共要付幾元？