



(版本一) 博幼四則運算基礎檢測卷

2-5 九九乘法



課輔班級：_____

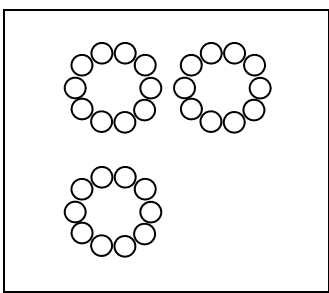
姓名：_____

得分：_____

一 連連看看：

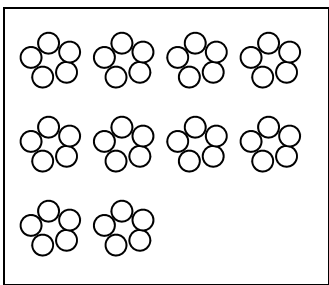
(每條線 3 分，共 12 分)

1. 將計算左圖數量之正確算式或說明連起來：



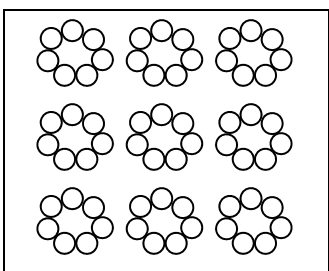
• 10×3

• 5×10



• 10×5

• $10 + 10 + 10$



• 7 的 9 倍

• 9 有 7 個

二 填填看看：

(每格 3 分，共 24 分)

1. 在算式「 $2 \times 7 = 14$ 」中，2 稱為被乘數，7 稱為乘數，則 14 稱為 ()。

2. 在算式「 $3 \times 9 = 27$ 」中，27 是 3 的 () 倍，改寫成加法算式則為 ()。

3. 在算式「 $10 + 10 = 20$ 」中，20 是 10 的 () 倍，改寫成乘法算式則為 ()。

4. 5 個 8 再加 3 個 8，一共有 () 個 8，即為 ()。

5. 6 的 10 倍減去 6 的 1 倍，答案為 ()。

三 算算看看：

(每格 3 分，共 24 分)

1. $0 \times 5 = ()$

2. $9 \times 1 = ()$

3. $7 \times 3 = ()$

4. $5 \times 6 = ()$

5. $2 \times 9 = ()$

6. $8 \times 8 = ()$

7. $4 \times 10 = ()$

8. $10 \times 7 = ()$

四

用連加的算式找出答案：

(每題 5 分，共 20 分)

1. 9 有 6 個是，多或少？
2. 5 的 8 倍是，多或少？
3. 1 包彈珠有 7 顆，5 包彈珠共有幾顆？
4. 每枝鉛筆賣 9 元，買 3 枝共要付幾元？
2. 1 盒雞蛋有 8 顆，4 盒雞蛋共有幾顆？
3. 1 瓶果汁可分成 7 杯，7 瓶果汁共可以分成幾杯？
4. 1 束玫瑰花有 9 朵，2 束玫瑰花共有幾朵？

五

用乘法算式找出答案：

(每題 5 分，共 20 分)

1. 1 箱汽水有 10 罐，6 箱汽水共有幾罐？