



(版本一) 博幼四則運算基礎檢測卷

1-1 20 以內的數



課輔班級：_____

姓名：_____

得分：_____

一 填填看看：

(每格 3 分，共 36 分)

- 寫出下面數字的正確讀法：
 - 「0」讀作 ()。
 - 「8」讀作 ()。
 - 「15」讀作 ()。
- 寫出下面數字的正確記法：
 - 「十」記作 ()。
 - 「十二」記作 ()。
 - 「二十」記作 ()。
- 2 個 2 個一數，按照數字的順序寫出來：

8 → () → 12 → 14 → ()
- 5 個 5 個一數，按照數字的順序寫出來：

0 → () → () → 15
- 姊姊在排排隊買冰淇淋，她的前面排了 10 個人，姊姊排在第 () 個。
- 明明排排隊買果汁，她排在第 16 個，明明的前面排了 () 個人。

二 比比看看：

(每個答案 3 分，共 18 分)

- 找出最大的數字，並在 () 裡打勾：

(1)	8	12	5
	()	()	()
(2)	19	17	20
	()	()	()
- 將下面數字從大到小：

7、1、12、4

() → () → () → ()

三 找找看看：

(每格 3 分，共 6 分)

- 找找看看，從 7 數到 14，下面缺少哪個數字：

7、10、13、14、12、9、8

缺少：()
- 找找看看，從 11 數到 18，下面缺少哪個數字：

11、13、18、12、14、17、15

缺少：()











四

連_カ連_カ看_ヲ：

(每_カ條_カ線_カ 4 分_カ，共_カ 40 分_カ)






1. 數_カ一_カ數_カ，將_カ數_カ量_カ一_カ樣_カ多_カ的_カ生_カ物_カ

連_カ起_カ來_カ：

	•	•	
	•	•	
	•	•	
	•	•	
	•	•	

2. 數_カ一_カ數_カ，將_カ正_カ確_カ的_カ貝_カ殼_カ數_カ量_カ

連_カ起_カ來_カ：

	•	•	十 _カ 二 _カ
	•	•	一 _カ
	•	•	5
	•	•	18
	•	•	9