



(版本一) 博幼四則運算基礎檢測卷

1-3 100 以內的數



課輔班級：_____

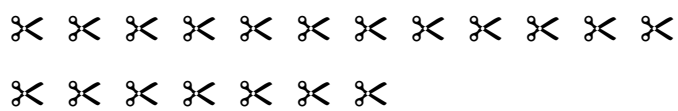
姓名：_____

得分：_____

一 填填看看：

(每個答案 2 分，共 60 分)

1. 數數看看，共有幾把剪刀？



共有 () 把。

2. 數數看看，共有幾頂帽子？



共有 () 頂。

3. 數數看看，共有幾顆蘋果？將數量寫在定位板上，並回答問題。



十位	個位
()	()

蘋果的數量可由 () 個 10 和 () 個 1 合起來的。

4. 52 的個位數是 ()，十位數是 ()。

5. 個位數為 0，且十位數為 7 的數是 ()。

6. 71 可以分成 () 個 10 和 () 個 1。

7. 9 個 10 和 10 個 1 合起來的數是 ()。

8. 寫出數字正確的記法：

(1) 「十三」記作 ()。

(2) 「三十」記作 ()。

9. 寫出數字正確的讀法：

(1) 「86」讀作 ()。

(2) 「100」讀作 ()。

10. 按照數字的順序填填看看：

(1) 59 → () → () → 62 → 63 → 64

(2) () → 99 → () → 97 → 96 → 95

(3) 25 → () → 35 → 40 → () → 50

11. 比一比，最大的數字在 () 裡打✓，最小的數字打×：

(1) 11 12 13
() () ()

(2) 34 24 44
() () ()

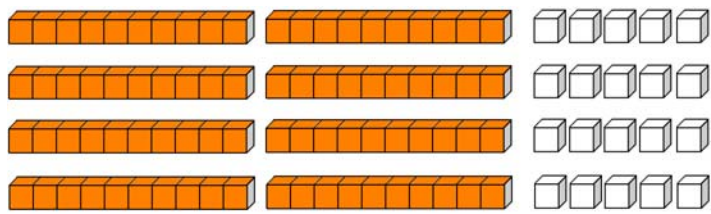
(3) 58 78 68
 () () ()

(4) 100 91 89
 () () ()

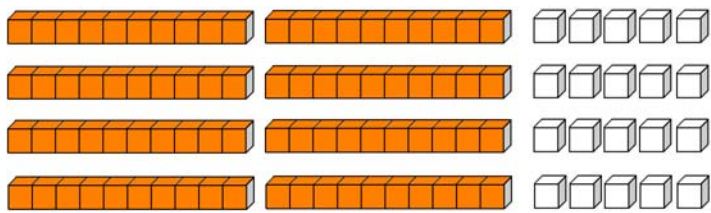
=
 做一做，看一看：

(每題 5 分，共 40 分)

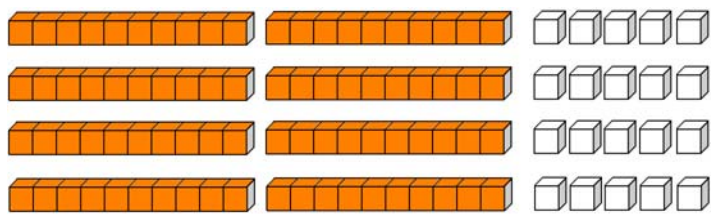
1. 數一數，圈出 30 個積木：



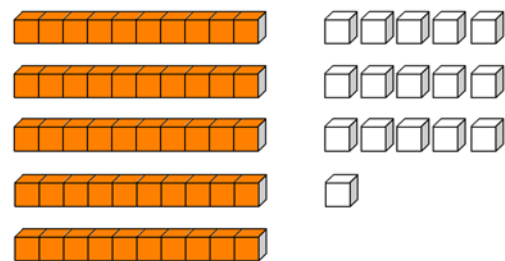
2. 數一數，圈出 69 個積木：



3. 數一數，圈出 100 個積木：

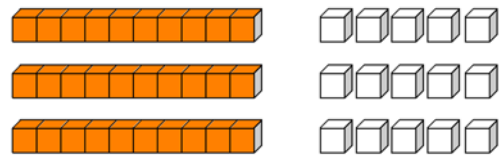


4. 數一數，共有幾個積木？



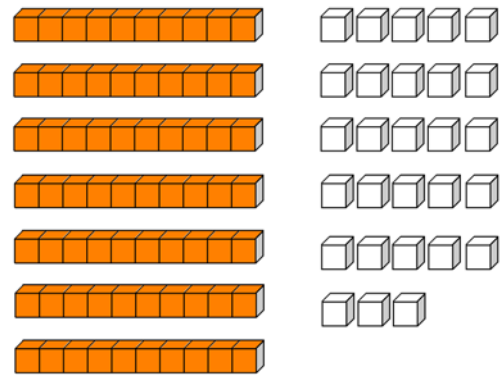
共有 () 個。

5. 數一數，共有幾個積木？



共有 () 個。

6. 數一數，共有幾個積木？



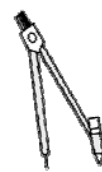
共有 () 個。

7. 用○畫出直尺的數量：



53 把

8. 用○畫出圓規的數量：



75 枝