

(版本一) 1-1 20 以內的數

一、選擇題：(每題 4 分、共 16 分)

1. 2
2. 2
3. 2
4. 3

二、數一數，有多少個？寫數量，並在比較大的□打√，在比較小的□打×：

(每格 2 分，共 16 分)

1.

寫數量	比大小
12	√
10	×



2.

寫數量	比大小
8	×
9	√

三、圈圈看：(每題 4 分、共 16 分)

1. (17 , 15 , **18**)

2. (19 , 11 , **9**)

3. 左邊   右邊

4. 

四、把寫法和讀法正確的連起來：

(每條線 4 分，共 12 分)

寫法	讀法
17	七
7	十一
11	十七

(Note: Red lines connect 17 to 十七, 7 to 七, and 11 to 十一.)

五、按照數的順序填填看：




(每格 4 分，共 20 分)

1. 7
2. 15
3. 16
4. 4
5. 5

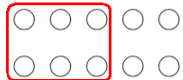
六、圈圈看：

(每個答案 4 分、共 20 分)

1.

		
11	17	18
12	18	19
13	19	20

2. (此題答案僅供參考，只要圈的數量符合數字即可，請閱卷老師自行判斷)

6	
10	