

課輔班級： _____ 姓名： _____ 分數： _____

一、選擇題：(每題 4 分，共 16 分)


() 1. 下列哪一個數字是偶數？

- (1) 9 (2) 10 (3) 11 (4) 13

() 2. 下列哪一個數字是奇數？

- (1) 2 (2) 3 (3) 4 (4) 6

() 3. 數數看，哪一種數量最多？



- (1) 蘋果 (2) 草莓 (3) 冰淇淋 (4) 一樣多

() 4. 數數看， 的後面有幾個人？



- (1) 1 個 (2) 2 個 (3) 3 個 (4) 4 個

二、數一數，有多少個？寫數量，

並在比較大的 打 \checkmark ，在比較

較小的 打 \times ：

(每格 2 分，共 16 分)

1.

	寫數量	比大小

2.

	寫數量	比大小

三、圈圈看：(每題 4 分，共 16 分)

1. 從 20 開始倒著數，哪一個數會先數到？

- (17 , 15 , 18)

2. 從 1 開始順著數，哪一個數會先數到？

- (19 , 11 , 9)

3. 從右邊數起，把前面 6 個蘋果圈起來。



4. 把第 8 個蘋果圈起來。



四、把寫法和讀法正確的連起來：

(每條線 4 分，共 12 分)

寫法	讀法
17	七
7	十一
11	十七

五、按照數的順序填填看：




(每格 4 分，共 20 分)

- 5 → 6 → () → 8 → 9。
- 17 → 16 → () → 14 → 13。
- () → 14 → 12 → 10 → 8。
- 2 → () → 6 → 8 → 10。
- () → 10 → 15 → 20。


六、圈圈看：

(每個答案 4 分，共 20 分)

1. 各有多少？圈出正確的數字。

		
11	17	18
12	18	19
13	19	20

2. 看數字，圈出正確的数量。

6	
10	