

(版本一)BOYO 國小數學四年級運算檢測卷

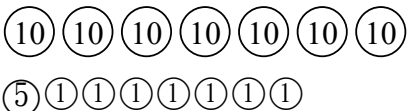
整數 1-4 100 以內的直式加減


課輔班級： 姓名： 分數

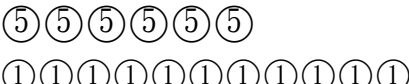
一、數一數，有多少元，寫出正確的

答案：(每題 4 分，共 16 分)

1.		( )元。
----	---	-------

2.		( )元。
----	---	-------

3.		( )元。
----	---	-------

4.		( )元。
----	--	-------

二、算算看，並用直式記下來：

(每題 4 分，共 40 分)

1.  $33+5=( )$ 。 2.  $20+10=( )$ 。

3.  $40+50=( )$ 。 4.  $46+10=( )$ 。

5.  $37+60=( )$ 。 6.  $34+7=( )$ 。

7.  $85+7=( )$ 。 8.  $96-5=( )$ 。

9.  $70-5=( )$ 。 10.  $64-6=( )$ 。

三、畫畫看，請用 2 種不同的方法，

畫出 59 元。(利用 50、10、5 或 1)


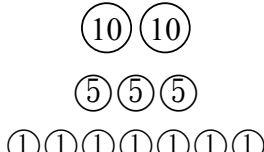
(每個方法 4 分，共 8 分)

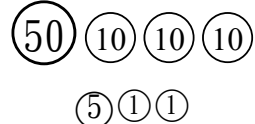

第 1 種方法：

第 2 種方法：

四、比一比，在比較多錢的( )

裡打勾。 (每題 4 分，共 8 分)

1.		
	( )	( )

2.		
	( )	( )

五、依-照-提-示-做-做-看：

(打✓ 2 分、答-案 2 分、共 8 分)

1. 桌上有 36 本書，抽屜裡的書比桌上的少 7 本，請問抽屜裡有幾本書？

正確的算式該如何表示，請在□

打✓：

□ $36-7=()$       □ $36+7=()$

答：抽屜裡有( ) 本書。

2. 盒子裡原本有 22 枝筆，後來大雄又放了 10 枝筆進去，請問現在盒子裡有幾枝筆？

正確的算式該如何表示，請在□

打✓：

□ $22-10=()$       □ $22+10=()$

答：現在在盒子裡有( ) 枝筆。

六、應-用-題：(每題 4 分，共 20 分)

1. 金鋼狼有 42 本故事書，而且金鋼狼的故事書比萬磁王少 7 本，請問萬磁王有幾本故事書？

2. 灰太郎用籠子抓了 33 隻羊，被喜洋洋救走了 6 隻，請問灰太郎的籠子裡還有幾隻羊？

3. 小夫有 55 顆泡泡糖，胖虎的泡泡糖比小夫多 8 顆，請問胖虎有幾顆泡泡糖？

4. 哥哥摘了 47 顆蘋果，弟弟摘了 20 顆蘋果，請問 2 人共摘了幾顆蘋果？

5. 阿達有 77 顆彈珠，阿甘只有 8 顆彈珠，請問 2 人的彈珠相差幾顆？