

課輔班級： 姓名： 分數

一、比比看，最大的打√、最小的

畫○：(每格 1 分，共 12 分)

130	121	109

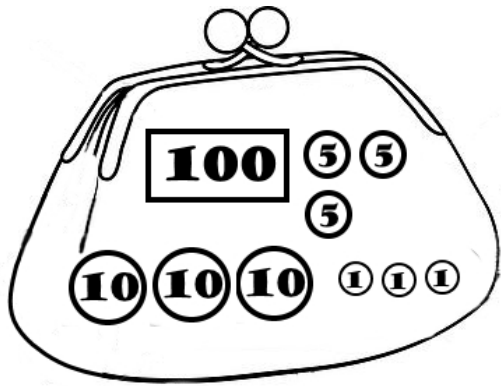
115	151	105

123	162	132

108	78	180

二、做做看：(每題 5 分，共 10 分)


1. 數數看，錢包裡一共有多少元？



共有 () 元。

2. 一盒蛋糕賣 167 元，請從媽媽錢包裡

裡的錢圈出 167 元買 1 個蛋糕：



三、填填看：(每格 3 分，共 33 分)

- 150 讀作 ()。
- 一百零七十六寫作 ()。
- 一百零九寫作 ()。
- 依照順序，在 () 裡填入正確的數：

- (1) 145— 147— () — 151—
() — ()
- (2) 135— () — () — 150—
155
- (3) 168— 170— () — () —
176— ()

四、在定位版上記下來：(每格 1 分，

共 9 分)

1. 17 個 10 和 6 個 1 合

起來是多少？

百位	十位	個位

2. 1 個 100、5 個 10 和

12 個 1 合起來是多

少？

百位	十位	個位

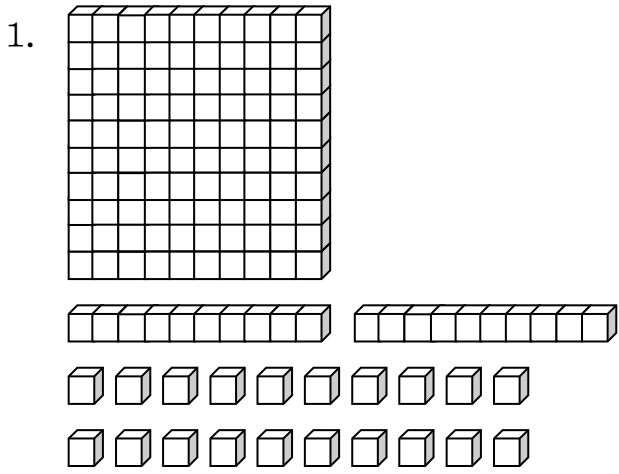
3. 1 個 100、3 個 10 和 8

個 1 合起來是多少？

百位	十位	個位

五、數數看看，並把正確的數字填在

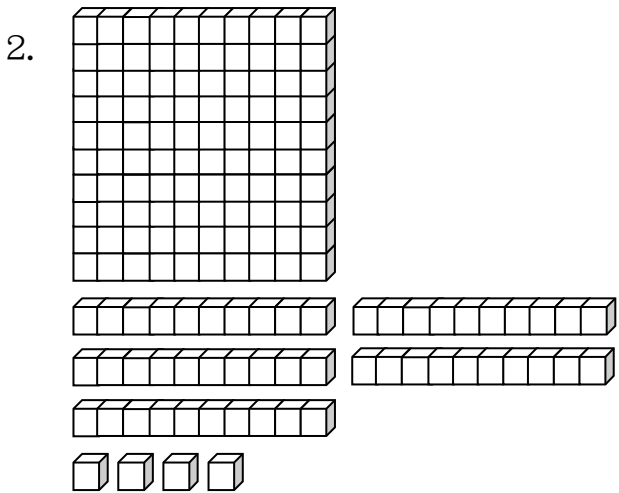
()中：(每格 4 分，共 28 分)



(1) 上圖總共有 () 個積木。

(2) 加上 1 個 ，總共有 () 個積木。

(3) 再加 3 個 ，總共有 () 個積木。



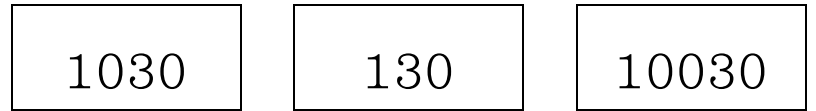
(1) 上圖總共有 () 個積木。

(2) 拿走 3 條 ，剩下 () 個積木。

(3) 再拿走 4 個 ，剩下 () 個積木。

3. 對的打 \checkmark ：

一百零三寫作：



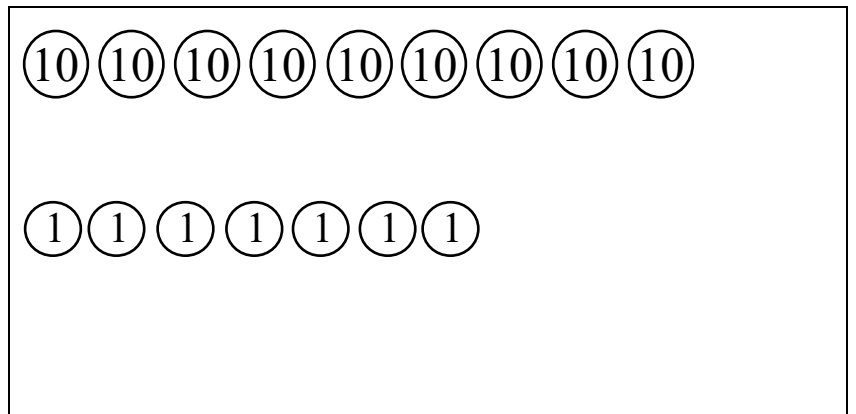
() () ()

六、畫畫看看：(每題 4 分，共 8 分)

用 $\square 100$ 、 $\bigcirc 10$ 、 $\bigcirc 1$ ，將錢幣補到指定的

金額：

1. 108



2. 174

