

(版本一)BOYO 國小數學四年級運算檢測卷

整數 2-2 200 以內的直式加減

課輔班級： \_\_\_\_\_ 姓名： \_\_\_\_\_ 分數： \_\_\_\_\_

一、圈圈看看，哪一個數最接近正確答案？

把其它圈起來。(每題 4 分，

共 16 分)

1.  $89 - 58 = ?$

( 40    30    20 )

2.  $71 - 48 = ?$

( 40    30    20 )

3.  $61 + 71 = ?$

( 130    140    150 )

4.  $59 + 58 = ?$

( 100    110    120 )

二、寫出直式算算看看，並驗算。(每題 5 分，共 25 分)

共 25 分)

1.  $175 - 29$

驗算：

2.  $54 + 58$

驗算：

3.  $95 + 9$

驗算：

4.  $52 + 128$

驗算：

5.  $143 - 92$

驗算：

三、填填看看：(每題 3 分，共 9 分)

在( )裡填入 $+$ 或 $-$ 讓算式正確。

1.  $128( )15 = 113$





2.  $135( )12 = 123$

3.  $52( )117 = 169$

四、看看圖回答問題：(每格 4 分，共 20 分)

20 分)

好鄰居商店的商品價錢：

			
球鞋	布偶	襯衫	裙子
125 元	45 元	170 元	95 元

1. 小美買了一雙球鞋和一個布偶，共花了多少錢？( )元。

2. 一件襯衫比一件裙子貴多少？貴( )元。

3. 小琪買了一件襯衫，付 200 元給老闆，應該要找回多少錢？( )元。

4. 佳佳帶了 100 元，想要買 2 個布偶，他的錢夠不夠？( )。

5. 好鄰居商店做特價拍賣，每一樣商品都按照原價減少 15 元，請問球鞋特價多少元？( )元。

五、應用題：(每題 5 分，共 30 分)

1. 君平吃早餐花了 55 元，吃午餐花了 68 元，還剩下 77 元，君平原有多少元？

先算：

再算：

答：( )元

2. 一條繩子長 193 公分，剪掉 46 公分，又剪掉 103 公分後，這條繩子還剩下多少公分？

先算：

再算：

答：( )公分

3. 姐姐有 75 元，妹妹有 63 元，兩人合買一個 95 元的文具組後，還剩下多少元？

先算：

再算：

答：( )元

4. 在 49、76、98 這三個數中，最大的數和最小的數的「和」是多少？

答：( )

5. 一束紅玫瑰 125 元，一束黃玫瑰比一束紅玫瑰貴 27 元，一束黃玫瑰幾元？

答：( )元

6. 停車場裡有 149 個停車位，現在已經停了 28 輛車，還有幾個空位？

答：( )個