

(版本一)BOYO 國小數學四年級運算檢測卷

整數 2-3A (2-3-1~2-3-2) 1000 以內的數

課輔班級： 姓名： 分數

一、怎樣讀？怎樣寫？(每格 4 分，共 24 分)

- 「五百零一」寫作()。
- 「八百六十四」寫作()。
- 「七百」寫作()。
- 「653」讀作()。
- 「903」讀作()。
- 「1000」讀作()。

二、按照順序填一填：(每格 4 分，共 36 分)



- 995 → 996 → () → () → 999 → ()
- 395 → () → 405 → 410 → () → 420
- 698 → 696 → () → 692 → () → 688
- 453 → () → 433 → 423 → () → 403

三、填填看：(每格 3 分，共 12 分)

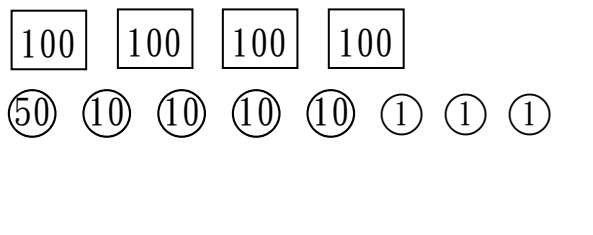
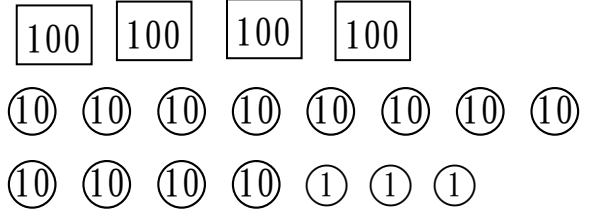
- 「359」的個位數是()，十位數是()，百位數是()。
- 7 個 100、3 個 10 和 6 個 1 合起來是()。

四、比一比，多多的在()打勾。(每題 4 分，共 12 分)



1. 誰的錢比較多？

	()
	()

2. 誰的錢比較多？

	()
	()

3. 誰的錢比較多？


 我有 3 張 100 元和 17 個 1 元。	()
 我有 3 張 100 元、1 個 10 元和 2 個 1。	()

五、應用題：(每題4分，共16分)

1. 小安想要買一套405元的故事繪本，

請幫他從撲滿裡，把405元


圈出來。



2. 君萍買了一本457元的英文字典，


他想要怎麼付錢比較剛好？

圈出來。



3. 怡如想要買一雙360元的球鞋，

他想要怎麼付錢比較好？



4. 志強想買一件500元的運動外套，

他想要怎麼付錢比較剛好？

圈出來。

