

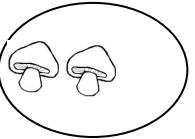
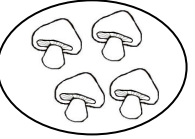
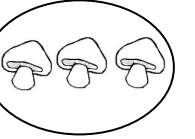



(版本一)BOYO 國小數學四年級運算檢測卷

整數 2-5 分分看









課輔班級： _____ 姓名： _____ 分數： _____

一、有平分分的在()內打√，沒有的打×：(每格 3 分，共 12 分)

1. 9 朵香菇，平分給 3 個人：

			()
			()

2. 8 顆蘋果，分給 2 個人：

		()
		()
		()
		()

二、用減法算式計算看：(每題 5 分，共 15 分)

1. 媽媽煮 40 個水餃，10 個裝成 1 盤，可以裝成幾盤？

答：() 盤

2. 24 枝冰棒，要分裝成 6 盒，每盒裝幾枝冰棒？


答：() 盒

3. 二年級共有 35 人參加課輔班，7 人分成 1 班，可以分幾班？

答：() 班


三、圈圖看，怎麼分？(每題 5 分，共 10 分)

1. 40 枝冰棒每 8 枝裝 1 盒，有幾盒冰棒？



答：() 盒

2. 果農採了 24 個西瓜，每 6 個裝 1 箱，共可裝幾箱？



答：() 箱

四、應用題，把做法用乘法算式記下來：(每題 8 分，共 48 分)

1. 老師將 27 個布丁平分給 9 個小朋友，每個小朋友可以分到幾個布丁？

答：() 個

2. 有 30 個布丁，每 6 個裝 1 盒，可以裝成幾盒布丁？

答：() 盒

3. 有 20 罐可樂，每 4 罐裝 1 袋，可以裝成幾袋？

答：() 袋

4. 1 星期有 7 天，56 天是幾星期？

答：() 星期

5. 玩具店老闆將 16 輛玩具小汽車平分成 2 盒，1 盒有幾輛玩具小汽車？


答：() 輛

6. 小明有 36 張貼紙，每 4 張貼成 1 包，可以裝成幾包？

答：() 包

五、畫○做做看看：(填空 2 分、畫圖 3 分，共 5 分)

1. 15 塊蛋糕平分給 3 人，1 人可以得到 () 塊蛋糕。



2. 小儀將 8 個橡皮擦平分成 2 袋，1 袋有 () 個橡皮擦。



3. 妹妹將 35 枝鉛筆平分成 5 袋，1 袋有 () 枝鉛筆。

