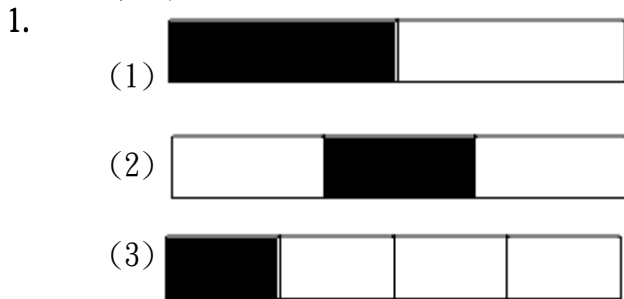


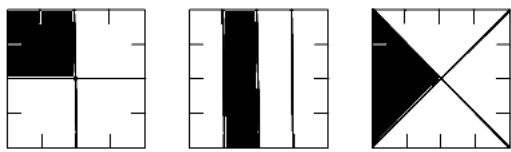
(版本一) 2-6 分數(解答)

一、畫畫看，做做看：(每個圖 4 分，共 28 分)

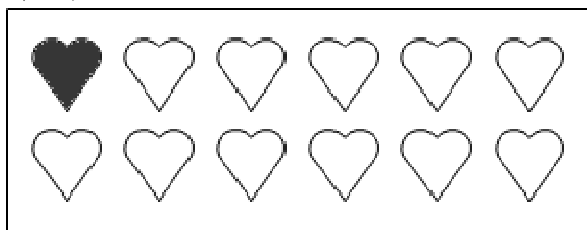
1. (塗法不唯一，以下各題均任選其中一區塊即可)



2. (畫法與塗法不唯一，只要是將區塊平分成 4 等份，並將其中 1 區域塗上顏色，即可)



3. (塗法不唯一，以下各題均任選其中一區塊即可)



二、填填看：(每格 3 分，共 45 分)

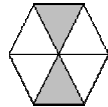



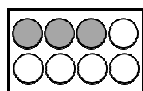



1. $\frac{1}{7}$
2. $\frac{1}{9}$
3. $\frac{1}{7}$
4. $\frac{1}{6}$
5. (1) 3
(2) 5
(3) $\frac{5}{10}$
6. (1) 2
(2) 4
(3) $\frac{2}{6}$

7. (1) $\frac{1}{2}$
(2) $\frac{1}{9}$
(3) $\frac{1}{5}$
(4) 十一分之一
(5) 四分之一

三、比一比，在()中填入 >、< 或 =：(每格 3 分，共 15 分)

1. >
2. <
3. <
4. =
5. <

四、塗色部分佔全部的多少？(每線 3 分，共 12 分)

1.   $\frac{5}{10}$
2.   $\frac{3}{8}$
3.   $\frac{2}{10}$
4.   $\frac{2}{6}$