

課輔班級： _____ 姓名： _____ 分數： _____


一、畫畫看看，做做看看：(每個圖 4 分，共 28 分)

1. 這是一條巧克力。


1.




(1) 把 $\frac{1}{2}$ 條巧克力塗上顏色。



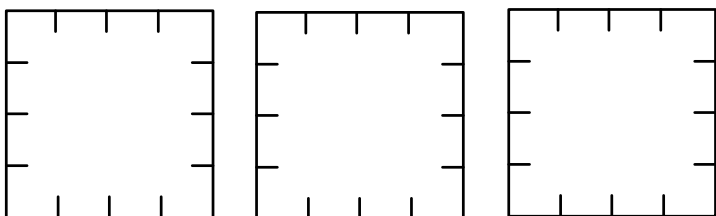
(2) 把 $\frac{1}{3}$ 條巧克力塗上顏色。




(3) 把 $\frac{1}{4}$ 條巧克力塗上顏色。



2. 下圖是相同的三塊蛋糕，畫出三種不同的 $\frac{1}{4}$ 塊蛋糕，並把 $\frac{1}{4}$ 塊塗上顏色。




3. 把 $\frac{1}{12}$ 盒餅乾塗上顏色。



二、填填看看：(每格 3 分，共 45 分)

1. 看圖用分數填看看。



☆ 和 () 條 

一樣長。

2. 1 盒果凍有 9 顆，平分給 9 個人，每個分到 () 盒果凍。

3. 1 包口香糖有 7 片，平分給 7 個人，每人分到 () 包口香糖。

4. 1 箱果汁有 6 瓶，1 瓶是 () 箱果汁。

5. 1 盒雞蛋有 10 個。

(1) $\frac{3}{10}$ 盒有 () 個雞蛋。

(2) $\frac{5}{10}$ 盒有 () 個雞蛋。

(3) $\frac{5}{10}$ 盒雞蛋和 $\frac{3}{10}$ 盒雞蛋，哪一盒比較多？ () 盒。

6. 1 條蛋糕切_成 6 塊。

(1) $\frac{2}{6}$ 條是 () 個 $\frac{1}{6}$ 條。

(2) $\frac{4}{6}$ 條是 () 個 $\frac{1}{6}$ 條。

(3) $\frac{2}{6}$ 條蛋糕和 $\frac{4}{6}$ 條蛋糕，哪一條比較少？ () 條。

7. 讀一讀、寫一寫：

(1) 「二分之_一」寫作 ()。

(2) 「九分之_一」寫作 ()。

(3) 「五分之_一」寫作 ()。

(4) 「 $\frac{1}{11}$ 」讀作 ()。

(5) 「 $\frac{1}{4}$ 」讀作 ()。

三、比一比，在()中填入 >、< 或 = : (每格 3 分，共 15 分)

1. 1 () $\frac{4}{6}$

2. 4 個 $\frac{1}{9}$ () $\frac{7}{9}$

3. $\frac{3}{10}$ () $\frac{5}{10}$

4. $\frac{7}{9}$ () $\frac{7}{9}$

5. $\frac{3}{10}$ () 9 個 $\frac{1}{10}$

四、塗色部分佔全部的多_少? (每線 3 分，共 12 分)

3 分，共 12 分

1.  ● ● $\frac{5}{10}$

2.  ● ● $\frac{3}{8}$

3.  ● ● $\frac{2}{10}$

4.  ● ● $\frac{2}{6}$