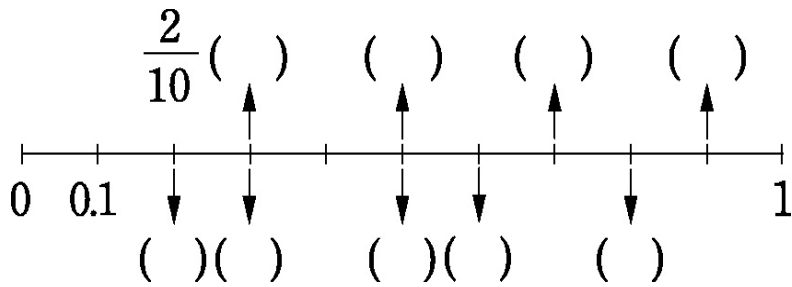


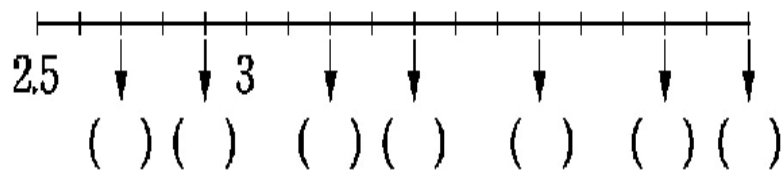
課輔班級： _____ 姓名： _____ 分數： _____

一、填填看看：每格 1 分，共 16 分

1.

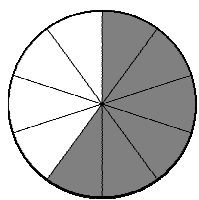


2.




二、連連看看：每線 3 分，共 12 分

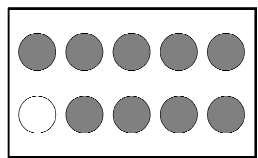
塗色部分占全部的多少？



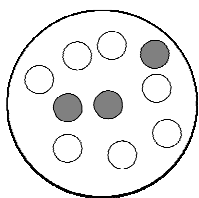
$\frac{3}{10}$



$\frac{6}{10}$



0.8



0.9

三、填填看看：每格 4 分，共 24 分

1. 5 個 0.1 減去 4 個 0.1 剩下 ()。

2. 1 盒蛋糕平均分成 10 塊，吃了 3 塊，是吃了 () 個 0.1 盒，還剩下 () 盒蛋糕。

3. 紅色彩帶長 0.9 公尺，藍色彩帶長 0.6 公尺，紅色彩帶比藍色彩帶長 () 公尺。

4. 6 個 $\frac{1}{10}$ 和 8 個 $\frac{1}{10}$ 合起來是 () 個 $\frac{1}{10}$ ，

是 () (請寫小數)。

四、比比看看：每題 2 分，共 8 分

在 () 裡填入 >、< 或 =：

(1) $3.3 + 0.5$ () $0.2 + 2.5$

(2) $2.8 + 1.1$ () $1.3 + 2.6$

(3) $1.2 + 1.4$ () $3.1 + 0.7$

(4) $2.8 + 2.2$ () $2.6 + 2.4$

五、應用題：每題 6 分、共 24 分

1. 上午 5 時的氣溫是 18.6 度，中午 12 時的氣溫比上午 5 時增加了 4.8 度，中午的氣溫是幾度？

2. 0.2 包色紙和 0.5 包色紙合起來是幾包色紙？

3. 1 盒蛋糕有 10 個，媽媽買了 3 盒，姐姐吃了 0.6 盒，爸爸吃了 0.8 盒，還剩下幾盒蛋糕？

4. 1 個奶油派平均分成 10 片，哥哥有 0.6 個奶油派，吃了 0.4 個後，哥哥還剩下幾個奶油派？

六、計算題：每題 4 分、共 16 分

1. $0.4 + 0.6$

2. $1.8 + 2.1$

3. $3 - 0.8$

4. $10.9 - 1.4$