

(版本一) 4-5 分數的加減與整數倍(解答)









一、選擇題：每題 3 分、共 12 分

1. 4
2. 3
3. 2
4. 1

二、畫畫看：每格 4 分、畫圖 4 分、共 8 分

$1\frac{5}{9}$ (填滿 14 個區域即算對)

三、連連看：每線 3 分、共 12 分

(1) $\frac{8}{17}$ 盒			ㄅ $\frac{2}{17}$ 盒
(2) $\frac{11}{17}$ 盒			ㄆ $\frac{9}{17}$ 盒
(3) $\frac{15}{17}$ 盒			ㄇ $\frac{6}{17}$ 盒
(4) $\frac{10}{17}$ 盒			ㄏ $\frac{7}{17}$ 盒

四、做做看：每題 4 分、共 16 分

- (1) 4
- (2) $6\frac{11}{13}$
- (3) 0
- (4) 9

五、應用題：每題 7 分、共 21 分

1. $4\frac{8}{26}$
2. $\frac{19}{20}$ 包
3. $2\frac{22}{25}$ 公尺

六、計算題：每題 4 分、共 16 分

1. $6\frac{10}{15}$
2. $7\frac{7}{9}$
3. $7\frac{21}{27}$
4. $1\frac{18}{28}$

七、比比看：每格 3 分、共 15 分

- (1) <
- (2) =
- (3) >
- (4) =
- (5) <