

課輔班級： _____ 姓名： _____ 分數： _____

一、選擇題：(每題 4 分，共 16 分)

() 1. 在三位數的直式加法中，要從哪一位的數開始計算？

- (①個位 ②十位 ③百位)

() 2. 兩個數相加的結果，叫作什麼？ (①和 ②差 ③積)

() 3. 牧場裡有 308 頭乳牛和 412 頭黃牛，牧場裡共有幾頭牛？ (①715 頭 ②720 頭 ③725 頭)

() 4. 下面哪一個算式的和最大？ (①172+25 ②29+170 ③79+19)

二、計算題：用直式計算(每題 4 分，共 24 分)

1. 516+409

2. 781-325

3. 168-60





4. 635-8

5. 606+237

6. 337+180

三、看圖做題(每題 5 分，共 30 分)

1. 把做法用算式記下來：

			
1 箱草莓	1 箱蘋果	1 箱葡萄	1 箱蘿蔔
108 元	125 元	259 元	199 元

(1) 買 1 箱草莓和 1 箱葡萄共要幾元？

算式：

答：() 元

(2) 買 2 箱蘿蔔共要多少元？

算式：

答：() 元

(3) 小偉有 300 元，買 1 箱葡萄可以找回多少元？

算式：

答：() 元

2. 把做法記下來：

		
毛衣	球鞋	玩具熊
204 元	299 元	158 元

(1) 1 隻玩具熊與 1 件毛衣，相差幾元？

算式：

答：() 元

(2) 家瑋有 500 元，可以買 1 件毛衣和 1 雙球鞋嗎？

算式：

答：()

(3) 小寶買了其中二樣商品，剛好花了 457 元，請問他是買哪二樣？ (圈圈看)



四、應用題：(每題 6 分，共 30 分)

1. 大大飲料店今天賣掉 312 瓶綠茶和 425 瓶紅茶，大大飲料店今天共賣掉幾瓶飲料？

答：() 瓶

2. 亮亮有 36 元，爸爸又給他 240 元，現在亮亮共有幾元？

答：() 元

3. 花園裡有 218 朵紅花，黃花比紅花少 72 朵，白花比黃花少 18 朵，白花有幾朵？

先算：

再算：

答：() 朵

4. 山上國小全校的女生有 118 人，男生比女生多 12 人，全校共有幾人？

先算：

再算：

答：() 人

5. 弟弟有 705 元，買文具花了 174 元，弟弟還剩下幾元？

答：() 元